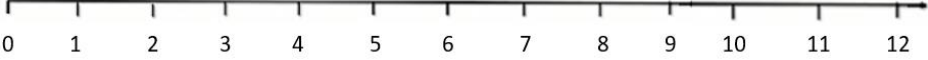



نام و نام خانوادگی: .....  
پایه: دبستان  
تعداد صفحه سؤال:

جمهوری اسلامی ایران  
اداره ی کل آموزش و پرورش شهر تهران  
اداره ی آموزش و پرورش شهر تهران منطقه 2 تهران  
دبستان غیردولتی پسرانه سرای دانش واحد سعادت آباد  
آزمون ترم اول سال تمصیلی 1401-1402

نام درس:  
نام دبیر:  
تاریخ امتحان: 1401/10/  
ساعت امتحان:  
مدت امتحان:

با آرزوی موفقیت برای پسران پر تلاش

ردیف	سؤالات
1	<p>به سوالات زیر پاسخ دهید با کارت اعداد 5 و 2 چند عدد 2 رقمی می توان ساخت ؟ همه ی آن ها را بنویس . با اعداد 4 و 8 چند عدد 2 رقمی می توان ساخت ؟ همه ی آن ها را بنویس .</p>
2	<p>الگوی زیر را ادامه دهید . ..... ، ..... ، 19 ، 16 ، 13 ..... ، ..... ، 9 ، 4 ، 1</p>
3	<p>مسئله های زیر را حل کن . الف ( امروز روز چهارم ماه است . هفت روز دیگر چه روزی است ؟ روی محور نشان بده . ب ) سارا ساعت 7:10 دقیقه از خانه به سمت خانه ی مادر بزرگش حرکت کرد . 1 ساعت و 20 دقیقه طول کشید تا به آنجا برسد . سارا چه ساعتی به خانه ی مادر بزرگش رسید ؟</p>  
4	<p>سه جمع بنویس که حاصل آن ها 10 شود . ..... + ..... + ..... = 10 ..... + ..... + ..... = 10 ..... + ..... + ..... = 10</p>
5	<p>جمع نظام دار عدد 4 را بنویسید . ..... + ..... = 4    ..... + ..... = 4    ..... + ..... = 4    ..... + ..... = 4    ..... + ..... = 4</p>

حاصل جمع و تفریق زیر را به روش فرآیندی ( چکمه ای ) به دست بیاورید .

$$\begin{array}{r} 47 \\ + 21 \\ \hline \end{array}$$

$$\begin{array}{r} 36 \\ + 12 \\ \hline \end{array}$$

$$\begin{array}{r} 83 \\ - 67 \\ \hline \end{array}$$

6


جدول های دوستی زیر را حل کن.

-	7	8	9
18			
17			

+	4	5	6
5			
6			

7

یک تفاوت و یک شباهت برای 2 شکل زیر بنویس .

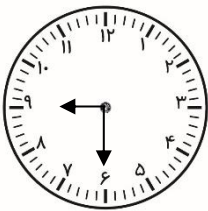


8

شباهت: .....


تفاوت: .....

ساعت چند است ؟ به دو روش متفاوت بنویس .



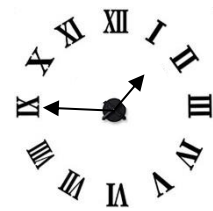
:

.....



:

.....

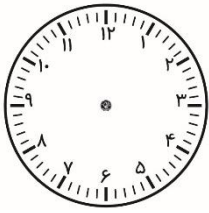


:


.....

9

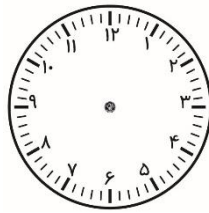
زمان های زیر را روی ساعت نشان بده .



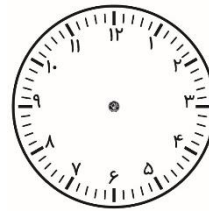
20 دقیقه گذشته از 11



یک ربع مانده به 5




ده و نیم



هشت و ربع

10

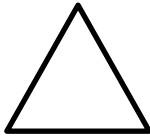
هر شکل چند خط تقارن دارد؟ تعداد آن ها را بنویس و رسم کن .



.....



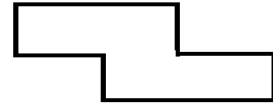
.....



.....



.....



.....

11

حاصل جمع و تفریق های زیر را به روش تقریبی بدست بیاورید .

$$\begin{array}{r} 37 \longrightarrow \underline{\quad\quad} \\ + 21 \longrightarrow + \underline{\quad\quad} \\ \hline \end{array}$$

$$\begin{array}{r} 83 \longrightarrow \underline{\quad\quad} \\ - 27 \longrightarrow - \underline{\quad\quad} \\ \hline \end{array}$$

12