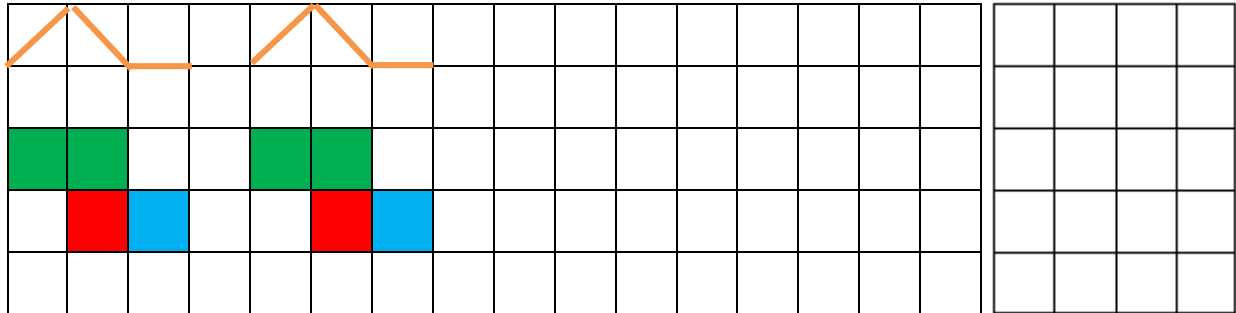


سؤالات


پنج

الگو زیر را کامل کن و الگو تکرار شونده را در ستون سمت راست رسم کن.



۱

تعداد هر دسته را با عدد و چوب خط نشان بده.



۲

جدول شگفت انگیز زیر را کامل کن.

۸	۹	۳	۴	۲	۱	۷	۶	۵
۱		۶	۳	۵	۸	۹	۲	۴
	۴	۵	۶	۷	۹	۸	۳	۱
۶	۳	۴	۹	۸	۲	۱	۵	
۷	۲	۸	۵	۱	۴	۶		۳
۹	۵	۱	۷	۳	۶		۴	۸
۴	۸	۷	۲	۶		۵	۱	۹
۵		۹	۱		۷	۳	۸	۲
۳	۱	۲		۹	۵	۴	۷	۶

۳

بین دو عدد علامت مناسب (< = >) بگذار.

۹.....۵

۸.....۸

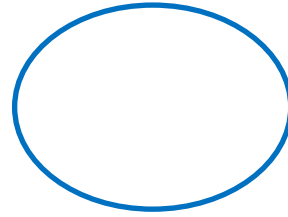
۴.....۷

۳.....۱



۶.....۶

۴

تمام انگشتان دست را باز کن به تعداد شکل ها از انگشتان خود ببند به تعداد انگشت باقی مانده چوب خط





بزن.



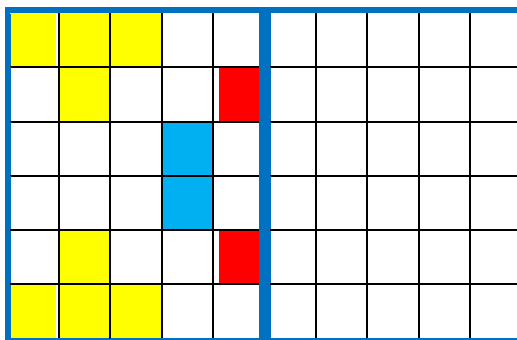
۵

برای شکل های زیر عبارت جمع را بنویس.



۶

شکل را طوری کامل کن که دو نیمه مثل هم شود.



۷

حاصل عبارت های زیر را بنویس.

$$۶ + ۱ =$$

$$۳ + ۲ =$$

$$۵ + ۳ =$$

$$۲ + ۲ =$$

۸