

نام و نام خانوادگی:

پایه: چهارم

نام پدر:

شماره داوطلب:

تعداد صفحه سؤال: ۲ صفحه

جمهوری اسلامی ایران

اداره ی کل آموزش و پرورش شهر تهران

اداره ی آموزش و پرورش شهر تهران منطقه ۵ تهران

پیش دبستان و دبستان غیردولتی دخترانه **نریشتر**

ارزشیابی عملکردی نوبت دوم سال تحصیلی ۱۴۰۱-۱۴۰۰

نام درس: ریاضی

نام دبیر: خانم سمیرا مراد زاده

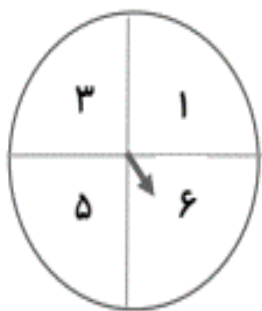
تاریخ امتحان: ۱۴۰۱ / ۲ / ۳۱

ساعت امتحان: ۸:۰۰ صبح / عصر

مدت امتحان: ۱۲۰ دقیقه

ردیف	سؤالات
۱	<p>صحیح و غلط بودن هر یک سوالات زیر را با "ص و غ" مشخص کنید.</p> <ul style="list-style-type: none"> هر متوازی الاضلاع ۸ ارتفاع دارد. $\frac{3}{7}$ سانتی متر برابر با ۳۷ میلی متر است. اگر اضلاع یک متوازی الاضلاع را برابر کنیم به مربع تبدیل میشود. مجموع زاویه های داخلی یک مثلث با زاویه یک دایره کامل برابر است.
۲	<p>مقایسه کنید (<=>)</p> <p>$\frac{2}{7} \square \frac{6}{9}$ $4\frac{2}{4} \square 4\frac{3}{5}$ $25/317 \square 24/999$ $0/4 \square 0/047$</p>
۳	<p>ضرب و تقسیم های زیر را به دست آورید و برای تقسیم رابطه های تقسیم را بنویسید.</p> <p>$\begin{array}{r} 7 \quad 8 \quad 9 \\ \times 3 \quad 6 \quad 4 \\ \hline \end{array}$</p> <p>$\begin{array}{r} 6 \quad 0 \quad 7 \quad 9 \quad \quad 47 \\ \hline \end{array}$</p>
۴	<p>دانش آموزان از ساعت ۷:۵۰ تا ساعت ۸:۴۰ در جشن عید فطر شرکت کردند. آن ها چه مدت در جشن بوده اند؟ از نمودار زیر استفاده کنید و زمان های داده شده را روی ساعت ها رسم کنید.</p> <p></p>
۵	<p>جمع و تفریق های اعشاری داده شده را ابتدا به صورت ستونی بنویسید و سپس پاسخ آن را به دست آورید.</p> <p>$8/0 - 0/7 =$ $7/6 + 9/8 =$</p>

اگر عقربه چرخنده را در شکل مقابل را بچرخانیم احتمال قرار گرفتن آن را در موارد زیر با جملات (احتمال بیشتر - احتمال کمتر - احتمال برابر - به طور حتم اتفاق میفتد - به طور حتم اتفاق نمیفتد) کامل کنید.



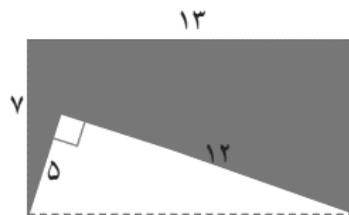
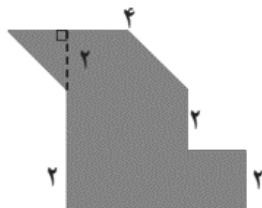
روی عددزوج قرار می گیرد.....

روی عدد فرد قرار می گیرد.....

روی عدد بزرگ تر از ۸ می گیرد.....

۶

مساحت قسمت های رنگی شکل های زیر را به دست آورید.



۷

زهره مقدار ساعت هایی را که در هر هفته ریاضی خوانده است در جدول زیر یادداشت کرده است. محور های افقی و عمودی را نام گذاری کنید و نمودار خط شکسته آن را رسم کنید و سپس به سوالات زیر پاسخ دهید.

ماه	هفته (۱)	هفته (۲)	هفته (۳)	هفته (۴)	هفته (۵)	هفته (۶)	هفته (۷)	هفته (۸)
ساعت	۲۰	۲۰	۱۶	۱۴	۱۸	۱۰	۱۳	۱۵


در کدام هفته ها بیشتر درس خوانده است؟

در کدام هفته کمتر درس خوانده است؟

بین کدام هفته ها مقدار درس خواندنش ثابت بوده است؟

بیشترین تغییر مقدار درس خواندن او بین کدام دو هفته بوده است؟

۸






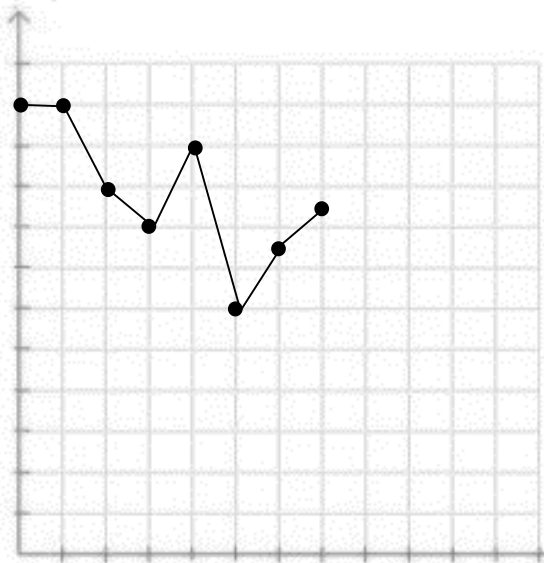


اداره ی کل آموزش و پرورش شهر تهران

اداره ی آموزش و پرورش شهر تهران منطقه ۵ تهران

پیش دبستان و دبستان غیر دولتی دخترانه **نیستار**
کلید سؤالات ارزشیابی عملکردی نوبت دوم سال تحصیلی ۱۴۰۱-۱۴۰۰

نام درس: ریاضیات
نام دبیر: خانم سمیرا مرادزاده
تاریخ امتحان: ۱۳۱ / ۲ / ۱۴۰۱
ساعت امتحان: ۸:۰۰ صبح / عصر
مدت امتحان: ۱۲۰ دقیقه

ردیف	راهنمای تصحیح	محل مهر یا امضاء مدیر
۱	ص - ص - غ - غ	
۲	< - < - > - >	
۳	$\begin{array}{r} 6079 \\ \times 129 \\ \hline 54711 \\ 12158 \\ \hline 776181 \end{array}$ $16 < 47$ و $(47 \times 129) + 16 = 6079$	$\begin{array}{r} 789 \\ \times 34 \\ \hline 316 \\ 2352 \\ \hline 287196 \end{array}$
۴	   ۵۰ دقیقه	
۵	$7/6 + 9/8 = 18/4$	$8/0 - 0/7 = 7/3$
۶	احتمال کمتر - احتمال بیشتر - به طور حتم اتفاق نمیفتد.	
۷	۲۸ - ۶۱	
۸	 هفته اول و دوم - هفته ششم - هفته اول و دوم - هفته پنجم و ششم	
نام و نام خانوادگی مصحح :		امضاء:

