

نام و نام خانوادگی:

مقطع و رشته:

نام پدر:

شماره داوطلب:

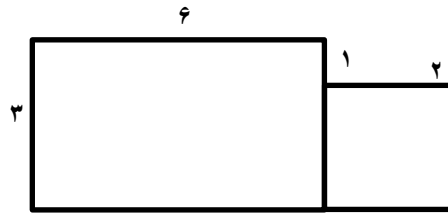
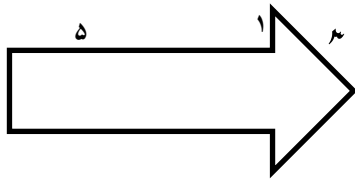
تعداد صفحه سؤال: صفحه

جمهوری اسلامی ایران
اداره ی کل آموزش و پرورش شهر تهران
اداره ی آموزش و پرورش شهر تهران منطقه ۷ تهران
دبستان غیردولتی پسرانه سرای دانش واحد شریعتی
آزمون میانترم دوم سال تحصیلی ۱۴۰۱-۱۴۰۰

نام درس: ریاضی
نام دبیر: فزونی
تاریخ امتحان: ۱۴۰۱/۰۱/۲۷
ساعت امتحان: : صبح / عصر
مدت امتحان : دقیقه

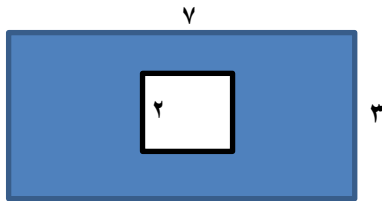
ردیف	سؤالات	نمره
۱	پاسخ عبارت های زیر را بدست آورید. $۹ \times ۷ =$ $۸ \times ۸ =$ $۲۰ \div ۵ =$ $۴۸ \div ۶ =$	
۲	حاصل ضرب و تقسیم زیر را از طریق محور نشان دهید. $۱۲ \div ۴ =$ $۳ \times ۷ =$	
۳	در جاهای خالی عدد مناسب بنویسید. $۸ \times ۹ = (\dots \times \dots) + (۳ \times ۹) = \dots$ $۹ \times ۵ = (۶ \times ۵) + (۳ \times \dots) = ۴۵$	
۴	زهرا ۱۵ هزار تومان را برای عیدی ۳ برادر خود در نظر گرفته است، حساب کنید به هر برادر زهرا چند هزار تومان عیدی می‌رسد؟	
۵	محمد هر روز ۲ هزار تومان پول ذخیره می‌کند، او قصد دارد یک توپ را به ارزش ۱۸ هزار تومان بخرد. محمد چند روز دیگر باید پول ذخیره کند تا بتواند توپ را بخرد.	
۶	برای شکل زیر یک ضرب و دو تقسیم بنویسید. 	
۷	خط، پاره خط و نیم خط های شکل زیر را بدست آورید. 	

محیط شکل های زیر را بدست آورید.



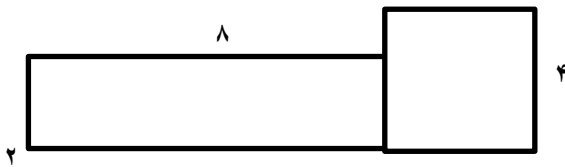
۸

مساحت قسمت رنگی را بدست آورید.



۹

مساحت شکل زیر را بدست آورید.



۱۰

علامت $>$ $=$ $<$ بگذار.

$$۲۲۰ + ۴۰ \bigcirc ۵۱۰ + ۶۰$$

$$۱۸۸ + ۵۰ \bigcirc ۲۴۸$$

$$۳۰۰۰ \bigcirc ۸۷۶$$

۱۱

جمع و تفریق های زیر را به صورت فرآیندی حل کنید.

$$\begin{array}{r} ۷۵۴۳ \\ - ۳۴۵۱ \\ \hline \end{array}$$

$$\begin{array}{r} ۵۶۳۲ \\ + ۲۲۸۵ \\ \hline \end{array}$$

۱۲

	<p>جمع و تفریق های زیر را به صورت تکنیکی حل کنید.</p> $\begin{array}{r} 2974 \\ + \\ \hline 3458 \end{array}$ $\begin{array}{r} 8756 \\ - \\ \hline 3898 \end{array}$	۱۳
	<p>برای تفریق داده شده شکل بکش.</p> $\begin{array}{r} 3468 \\ - \\ \hline 1745 \end{array}$	۱۴
	<p>با رقم های ۸،۶،۲،۳ بزرگترین و کوچکترین عدد ۴ رقمی را بسازید و اختلاف این دو عدد را پیدا کنید.</p>	۱۵
	<p>سارا یک شاخه گل به قیمت ۷۵۰۰ تومان خریده است. اگر او ۸ اسکناس ۱۰۰۰ ریالی به فروشنده بدهد، چقدر باید پس بگیرد؟</p>	۱۶
	<p>موفق باشید عزیزانم</p>	