

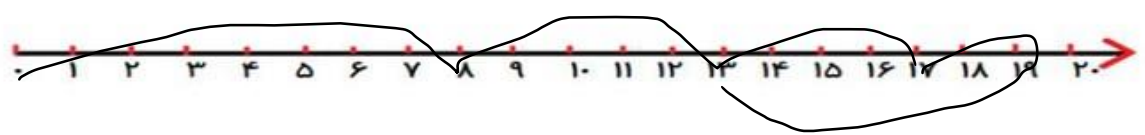



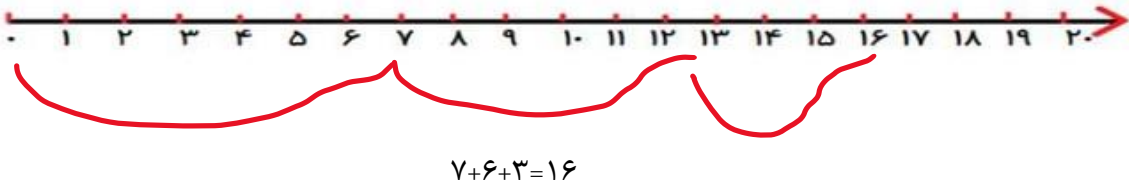



نام و نام خانوادگی: .....  
پایه: .....

جمهوری اسلامی ایران  
اداره ی کل آموزش و پرورش شهر تهران  
اداره ی آموزش و پرورش شهر تهران منطقه ۷ تهران  
دبستان غیردولتی پسرانه سرای دانش واحد شریعتی  
آزمون ترم دوم سال تحصیلی ۱۴۰۲-۱۴۰۱

نام درس: ریاضی  
نام دبیر: پرینا بهرامی  
تاریخ امتحان: ۱۴۰۲/۰۲/۳۰  
ساعت امتحان: ..... : ..... : ..... / صبح / عصر  
مدت امتحان: ۴۵ دقیقه

ردیف	پاسخنامه				
۱	<p>- پسرم عبارت‌های زیر را جواب بده.</p> $50 - 5 = \boxed{45} \quad 20 + 20 + 10 + 3 + 2 = \boxed{55} \quad 64 + 6 = \boxed{70}$ $30 + 50 = \boxed{80} \quad 6 + 7 = \boxed{13} \quad 9 + 8 = \boxed{17}$ $37 + 3 = \boxed{40} \quad 12 + 6 = \boxed{18} \quad 10 + 30 + 20 - 5 = \boxed{55}$ $46 + 10 = \boxed{56} \quad 80 - 20 = \boxed{60} \quad 40 + 20 + 10 - 5 = \boxed{65}$				
۲	<p>- پسرم دسته‌های ده‌تایی درست کن و جاهای خالی را پر کن.</p>  <table border="1" data-bbox="1212 940 1436 1187"> <thead> <tr> <th>ده‌تایی</th> <th>یکی</th> </tr> </thead> <tbody> <tr> <td>۲</td> <td>۱</td> </tr> </tbody> </table> <p>عدد: ..... ۲۱.</p> <p>حروف: ..... بیست و یک.....</p>	ده‌تایی	یکی	۲	۱
ده‌تایی	یکی				
۲	۱				
۳	<p>- پسرم الگوی زیر را ادامه بده.</p> 				
۴	<p>- مینا در سبد اسباب‌بازی‌های خود، ۸ توپ، ۵ آب‌پاش، ۴ عروسک و ۲ ماشین دارد، او ۶ تا از اسباب‌بازی‌هایش را به سامان داد. حالا چند اسباب‌بازی دارد؟ (روی محور نشان بده)</p> 				

	<p>۵ - دسته‌ی ۱۰ تایی و ۶ یکی می‌شود؟ ۵۶</p> <p>۷۳ - می‌شود .....۷..... دسته‌ی ۱۰ تایی و .....۳..... یکی.</p> <p>رضا ۳ دسته‌ی ۱۰ تایی و ۵ یکی سیب دارد. او چند سیب دارد؟ ۳۵</p>	۵
	<p>- پسر م با چوب‌خط جواب بده.</p> <p><math>7 + 3 + 4 = \dots\dots\dots 14</math></p> <p><math>10 + 6 + 8 = \dots\dots\dots 24</math></p> <p><math>9 + 7 = \dots\dots\dots 16</math></p> <div style="border: 1px solid green; padding: 5px; width: fit-content; margin: 5px auto;">  </div> <div style="border: 1px solid green; padding: 5px; width: fit-content; margin: 5px auto;">  </div> <div style="border: 1px solid green; padding: 5px; width: fit-content; margin: 5px auto;">  </div>	۶
	<p>- پسر م از عدد ۱۵ تا ۲۰ به عدد و حروف بنویس.</p> <p style="text-align: center;">۱۵ ۱۶-۱۷-۱۸-۱۹-۲۰</p> <p style="text-align: center;">پانزده- شانزده- هفده- هجده- نوزده- بیست</p>	۷
	<p>- پسر م عبارت زیر را روی محور نشان بده و جواب را بنویس.</p> <div style="text-align: center;">  </div>	۸
	<p>- گلی ۳ دسته‌ی ۱۰ تایی آب‌نبات دارد. پدر بزرگش ۵ دسته‌ی ۱۰ تایی دیگر به او آب‌نبات داد. حالا گلی چند آب‌نبات دارد؟ (رسم شکل)</p> <p style="text-align: right;"><math>30 + 50 = 80</math></p> <div style="text-align: center;">  </div>	۹
	<p>- هامون ۱۰ طناب داشت. برادرش هم ۳ طناب به او داد و عمه لیلیا ۴ طناب از او گرفت. برای هامون چند طناب باقی می‌ماند؟</p> <p style="text-align: center;"><math>10 + 3 = 13</math>      <math>13 - 4 = 9</math></p>	۱۰

- پسرم دنباله‌ی عددی زیر را ادامه بده.

۲۵	۳۰	۳۵	۴۰	۴۵	۵۰	۵۵	۶۰	۶۵	۷۰
	۱۱		۱۳		۱۵		۱۷		۱۹
	۲۲		۲۶		۳۰		۳۴		۳۸
۸		۱۶		۲۴		۳۲			

+۸

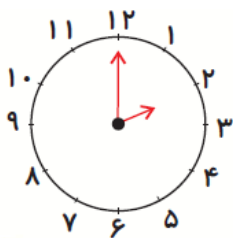
۱۱

- پسرم جدول زیر را کامل کن.

۶	
۰	۶
۱	۵
۲	۴
۳	۳
۴	۲
۵	۱
۶	۰

۱۲

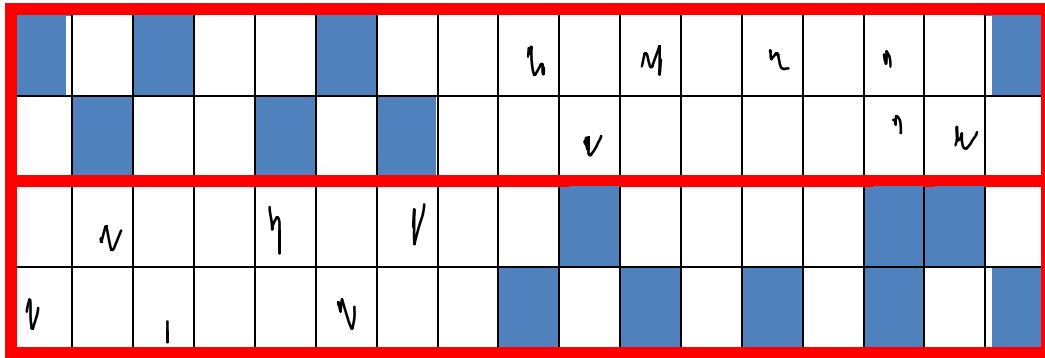
- پسرم با توجه به زمانی که ساعت نشان می‌دهد جاهای خالی را کامل کن.



۱۳

ساعت کمی از .....۳... گذشته است. ساعت بین ...۲..... و .....۳..... است. ساعت .....۲..... است

- پسرم شکل را طوی کامل کن که دو نیمه‌ی آن شبیه هم باشد.



۱۴

جمع بارم : ۲۰ نمره