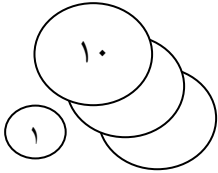
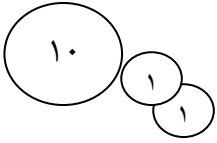
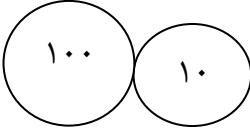

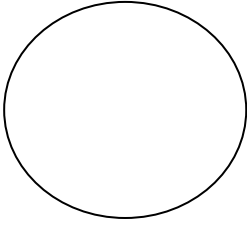
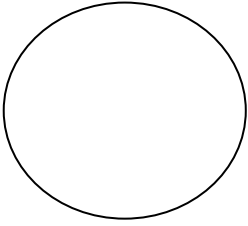



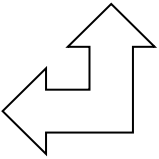


	<p>ارزش سکه های هر قسمت را به عدد و حروف بنویسید.</p> <div style="display: flex; justify-content: space-around;"> <div style="text-align: center;">  <p>ریال.....</p> </div> <div style="text-align: center;">  <p>ریال.....</p> </div> <div style="text-align: center;">  <p>ریال.....</p> </div> <div style="text-align: center;">  <p>ریال.....</p> </div> </div>	۵
	<p>کلاس فارسی در ساعت ۱۲ و ربع به پایان می رسد . دانش آموزان نیم ساعت فرصت ناهار خوردن دارند و کلاس زبان شروع می شود. با رسم عقربه های ساعت ، زمان های داده شده را مشخص کنید؟</p> <div style="display: flex; justify-content: space-around; align-items: center;"> <div style="text-align: center;">  <div style="border: 1px solid black; padding: 5px; width: 150px; margin: 10px auto;">زمان شروع کلاس زبان</div> </div> <div style="text-align: center;">  <div style="border: 1px solid black; padding: 5px; width: 150px; margin: 10px auto;">زمان پایان کلاس فارسی</div> </div> </div>	۶
	<p>خط تقارن شکل های زیر را رسم کنید.</p> <div style="display: flex; justify-content: space-around; align-items: center;">     </div>	۷
	<p>جمع و تفریق زیر را به صورت تقریبی انجام دهید.</p> <div style="display: flex; justify-content: space-around; align-items: center;"> <div style="text-align: center;"> $\begin{array}{r} 57 \rightarrow \\ + 29 \rightarrow \\ \hline \end{array}$ </div> <div style="text-align: center;"> $\begin{array}{r} 74 \rightarrow \\ - 35 \rightarrow \\ \hline \end{array}$ </div> </div>	۸
	<p>همه ی عدد های دو رقمی را بنویسید که رقم یکان آن ها ۳ و ۴ و دهگان آن ها ۵ و ۸ باشد.</p>	۹



اداره ی کل آموزش و پرورش شهر تهران
 اداره ی آموزش و پرورش شهر تهران منطقه ۵ تهران
 پیش دبستان و دبستان غیردولتی دخترانه پرسش
کلید سوالات پایان ترم نوبت اولسال تمصیلی ۱۴۰۱-۱۴۰۰

نام درس: ریاضی
 نام دبیر: مدیث طهماسبی
 تاریخ امتحان: / / ۱۴۰۰
 ساعت امتحان: ۸:۱۵ صبح / عصر
 مدت امتحان: ۴۵ دقیقه

راهنمای تصحیح محل مهر یا امضاء مدیر

ردیف

۱ نادرست - نادرست - درست - نادرست

علی ۶۱ صفحه خوانده است. ۱۲ صفحه باقی مانده است.

$$\begin{array}{r} 23 \\ + 38 \\ \hline 53 \\ + 8 \\ \hline 61 \end{array}$$

$$\begin{array}{r} 73 \\ - 61 \\ \hline 12 \end{array}$$

$$\begin{array}{r} 13 \\ - 1 \\ \hline 12 \end{array}$$

۲

الگوهای زیر را ادامه دهید.



۱۵ و ۱۰ و ۶ و ۳ و ۱

۳۳ و ۲۸

۳

تفاوت: در شکل شماره ی ۱، اندازه همه ضلع ها با هم برابر است. در شکل شماره ی ۲، اندازه ضلع ها با هم برابر نیست.


شباهت: هر دو ۵ ضلع و ۵ گوشه دارند و شکل هندسی هستند.

۴

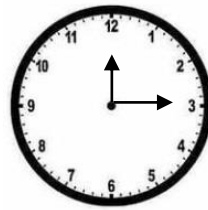
۲۰۰ ریال - ۱۱۰ ریال - ۱۲ ریال - ۳۱ ریال

دویست ریال - صد و ده ریال - دوازده ریال - سی و یک ریال

۵

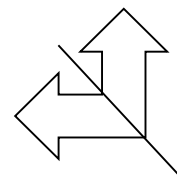

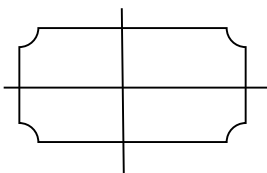
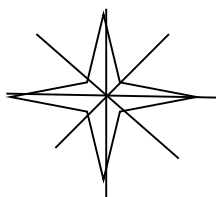


زمان شروع کلاس



زمان پایان کلاس فارسی

۶



۷

$60 + 30 = 90$

$70 - 40 = 30$

۸

دهگان	يکان		
۵	۳	۸۴- ۸۳- ۵۴- ۵۳	۹
۵	۴		
۸	۳		
۸	۴		
		نام و نام خانوادگی مصحح :	امضاء: