

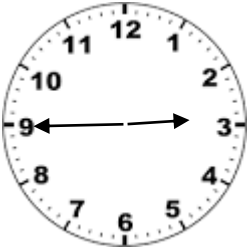
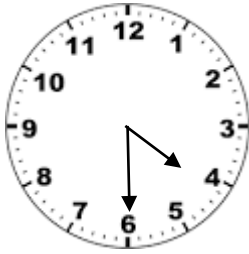
نام و نام خانوادگی: .....  
مقطع و رشته: دوم دبستان  
نام پدر: .....  
شماره داوطلب: .....  
تعداد صفحه سؤال: ۳ صفحه

جمهوری اسلامی ایران  
اداره ی کل آموزش و پرورش شهر تهران  
اداره ی آموزش و پرورش شهر تهران منطقه ۵ تهران  
پیش دبستان و دبستان دخترانه پرسش  
ارزشیابی پایانی نوبت اول سال تحصیلی ۱۴۰۱-۱۴۰۲

نام درس: ریاضی  
نام دبیر: دپارتمان دوم  
تاریخ امتحان: ۱۴۰۱/۱۰/۲۴  
ساعت امتحان: ۱۵ : ۹ صبح / عصر  
مدت امتحان : ۴۵ دقیقه

ردیف	سؤالات	نمره			
۱	<p>عبارت درست را با (ص) و عبارت غلط را با (غ) مشخص کنید.</p> <p>-خط تقارن خطی است که اگر شکل را از روی آن تا کنیم دوطرف شکل کاملاً همدیگر را می پوشانند.</p> <p>-عدد ۵۴ یک عدد فرد است .</p> <p>با کارت های <input type="text" value="۲"/> و <input type="text" value="۵"/> می توان عدد ۲۲ و ۵۵ را ساخت.</p>				
۲	<p>باتوجه به شکل روبه رو :</p> <p>به عدد بنویسید :</p> <p>به حروف بنویسید:</p> <p>در جدول ارزش مکانی قرار دهید.</p> <p>۱۰۰    ۱۰    ۱۰    // // //</p> <p><input type="text" value="۱۰۰"/></p> <p><input type="text" value="۱۰۰"/></p> <p><input type="text" value="۱۰۰"/></p> <table border="1"><tr><td>صدتایی</td><td>ده تایی</td><td>یکی</td></tr></table>	صدتایی	ده تایی	یکی	
صدتایی	ده تایی	یکی			

زمان روبه رو را به دو روش بیان کنید.



---

---

---

---

۳

گسترده ی اعداد زیر را بنویسید.

$$۵۹۴ =$$

$$۳۰۷ =$$

۴

حاصل جمع و تفریق های زیر را به روش فرایندی به دست آورید.

$$\begin{array}{r} ۵۴ \\ - ۱۳ \\ \hline \end{array}$$

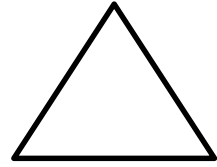

$$\begin{array}{r} ۷۶ \\ + ۲۳ \\ \hline \end{array}$$

۵

علی یک کتاب ۸۷ صفحه ای دارد . او ۲۳ صفحه از کتابش را خوانده است . چند صفحه از کتاب باقی مانده است ؟

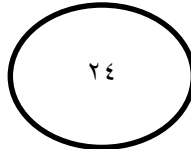
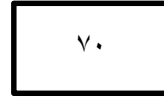
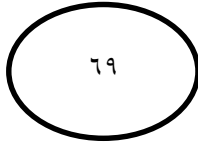
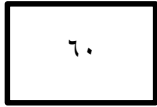
۶

کدام یک از شکل های زیر خط تقارن ندارد؟



۷

هر عدد به کدام دسته ی ده تایی نزدیک تر است؟ (رنگ کن)



۸

صفحه ۳ از ۳

خیلی خوب	خوب	قابل قبول	نیازمند تلاش بیشتر
ارزشیابی توصیفی :			