




سوالات

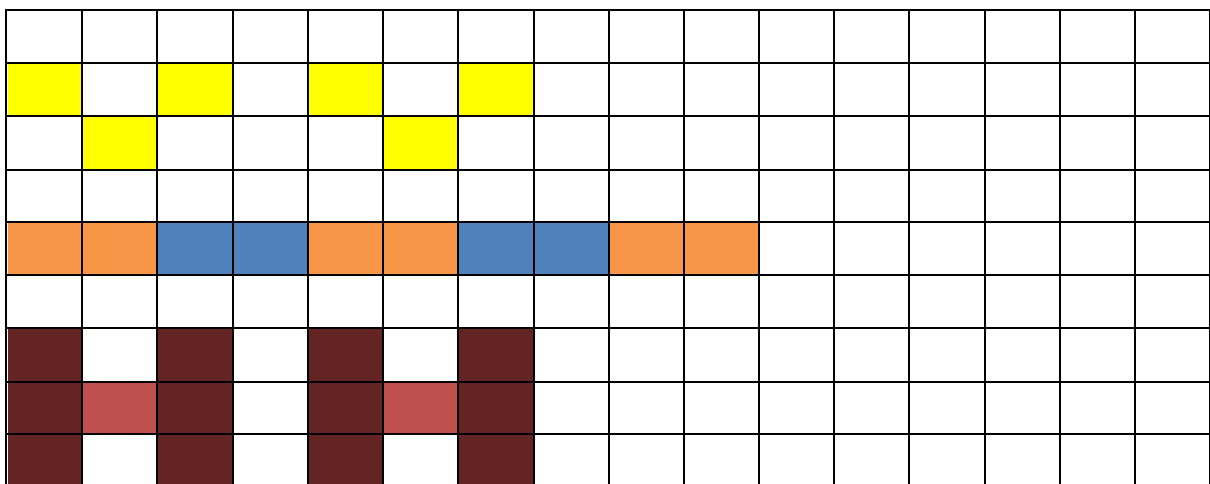
شماره

۱- به تعداد شکل های هر قسمت، کنار آن چوب خط بکش.



۱

۲- دنبندم الگو را پیدا کن و ادامه بده.



۲

۳- بین هر دو عدد، یکی از علامت های < = > را بگذار.

۹ ○ ۷

۶ ○ ۶

۴ ○ ۸

۷ ○ ۵

۳

۴- برای شکل های زیر عبارت جمع بنویس و پاسخ بده.



۴

- پسر باهوشم جمع نظام‌دار زیر را کامل کن.

۴	

۵

- جدول شگفت‌انگیز را با اعداد ۱ تا ۹ کامل کن.

۳	۱	۲		۹	۵	۴	۷	۶
۵	۶	۹	۱		۷	۳	۸	۲
۴	۸	۷	۲	۶		۵	۱	۹
۹	۵	۱	۷	۳	۶		۴	۸
۷	۲	۸	۵	۱	۴	۶	۹	۳
۶	۳	۴	۹	۸	۲	۱	۵	
	۴	۵	۶	۷	۹	۸	۳	۱
۱		۶	۳	۵	۸	۹	۲	۴
۸	۹		۴	۲	۱	۷	۶	۵

۶

- پسر بادقت من از عدد یک تا ده را بنویس.

۷

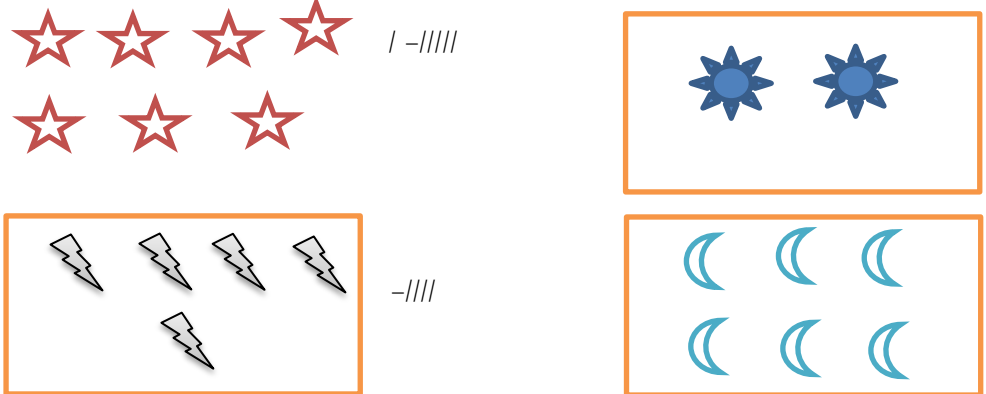
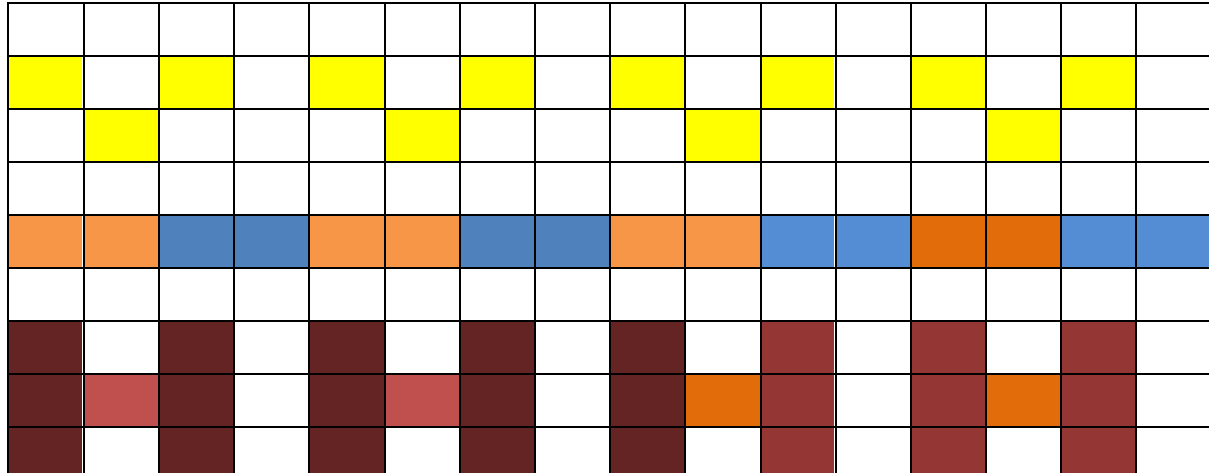
نام و نام خانوادگی: .....

پایه : اول

جمهوری اسلامی ایران

اداره ی کل آموزش و پرورش شهر تهران  
اداره ی آموزش و پرورش شهر تهران منطقه ۷ تهران  
دبستان غیردولتی پسرانه سرای دانش واحد شریعتی  
آزمون ترم اول سال تحصیلی ۱۴۰۲-۱۴۰۱

نام درس: ریاضی  
نام دبیر: پریسا بهرامی  
تاریخ امتحان: ۱۴۰۱/۱۰/۲۰  
ساعت امتحان: ۰۸:۰۰ صبح / عصر  
مدت امتحان: ۴۵ دقیقه

سؤالات	ع. ک.
	۱ - //   -
	۲
$9 > 7$ $6 = 6$ $4 < 8$ $7 > 5$	۳ -
$2+3=5$ $3+1=4$ $4+2=6$	۴

4	
.	4
1	3
2	2
3	1
4	.

3	1	2	8	9	5	4	7	6
5	6	9	1	4	7	3	8	2
4	8	7	2	6	3	5	1	9
9	5	1	7	3	6	2	4	8
7	2	8	5	1	4	6	9	3
6	3	4	9	8	2	1	5	7
2	4	5	6	7	9	8	3	1
1	7	6	3	5	8	9	2	4
8	9	3	4	2	1	7	6	5

1-2-3-4-5-6-7-8-9-10