
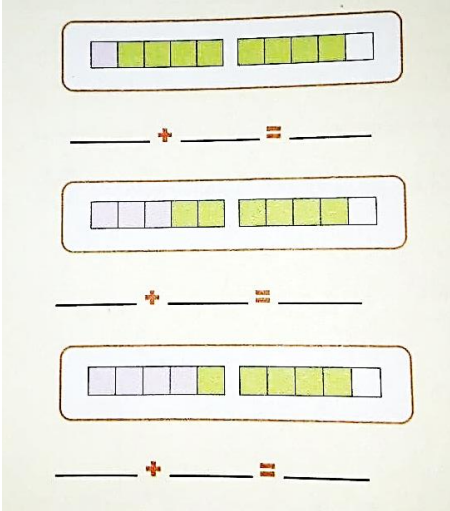
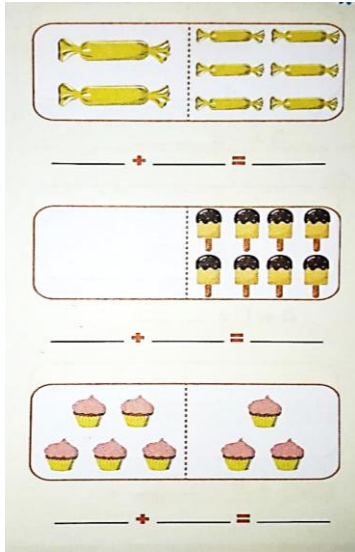
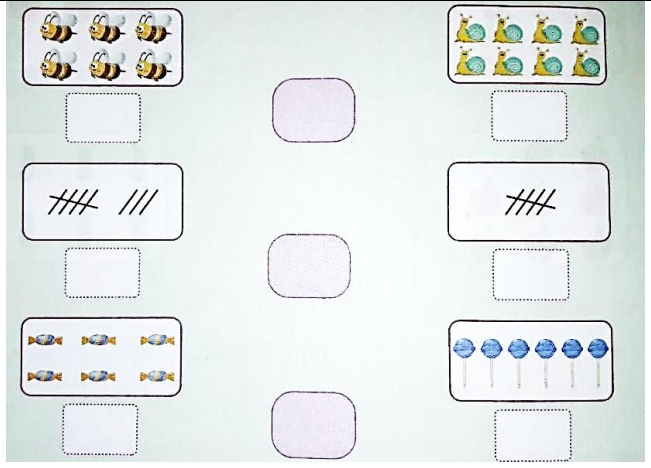


ردیف	سؤالات	نمره
	<p>گل توانمندم مربع شگفت انگیز را کامل کن.</p> 	۱
	<p>عزیزم برای شکل های زیر جمع مناسب بنویس؟</p>  	۲
	<p>عزیزم از ۱ تا ۹ بنویس</p> <p>.....</p>	۳
	<p>دخترم الگوی عددی زیر را ادامه بده</p> <p>۲-۳-۲ - - - - -</p> <p>دانش آموز زرتنگم عدد هر دسته را بنویس و از علامت کمتر بیشتر یا مساوی استفاده کن</p>	۴



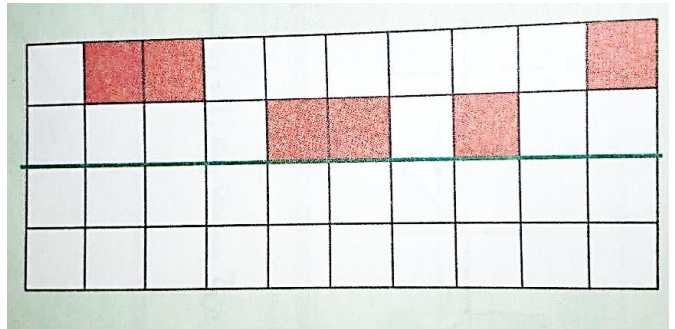
ماه آسمان دور عدد بزرگتر از ۴ خط بکش

۸-۱-۲-۵-۳-۹

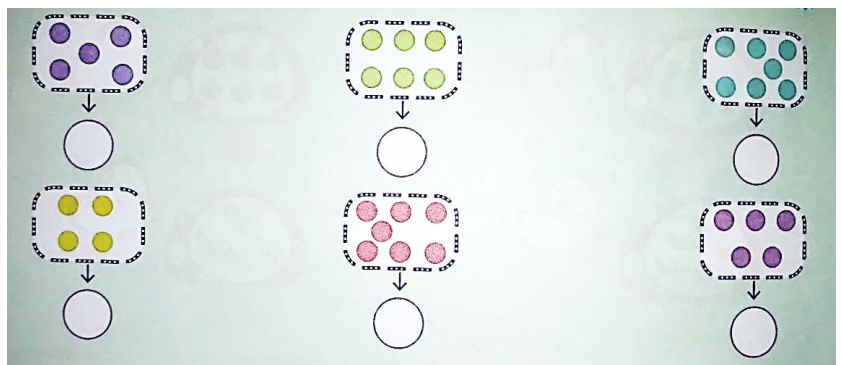
همچنین دور عدد کوچکتر از ۷ خط بکش

۵-۳-۴-۱-۹-۷


دختر خوبم مربع های سمت راست را طوری رنگ کن که مانند شکل سمت چپ دو نیمه مثل هم به دست آیند



زیبا اندیش عدد مناسب هر شکل را بنویس



دختر قشنگم طول هر شکل چند چینه است؟



اداره ی کل آموزش و پرورش شهر تهران
 اداره ی آموزش و پرورش شهر تهران منطقه ۴ تهران
 دبستان غیردولتی دخترانه سرای دانش واحد الغدیر
کلید ارزشیابی توصیفی نوبت اول سال تمصیلی ۱۴۰۱-۱۴۰۰

نام درس : ریاضی اول
 نام دبیر: خانم خاکساری
 تاریخ امتحان: ۱۸ / ۱۰ / ۱۴۰۰
 ساعت امتحان : ۹:۰۰
 مدت امتحان : ۴۵ دقیقه

ردیف	سؤالات	نمره
۱	<p>گل توانمند مربع شگفت انگیز را کامل کن.</p>	۱
۲	<p>عزیزم برای شکل های زیر جمع مناسب بنویس؟</p>	۲
۳	<p>عزیزم از ۱ تا ۹ بنویس</p> <p>۱ ۲ ۳ ۴ ۵ ۶ ۷ ۸ ۹</p>	۳
۴	<p>دخترم الگوی عددی زیر را ادامه بده</p> <p>۲-۲-۳- ۲-۲-۳- ۲-۲-۳</p>	۴

دانش آموز زرتنگم عدد هر دسته را بنویس و از علامت کمتر یا بیشتر یا مساوی استفاده کن

ماه آسمان دور عدد بزرگتر از ۴ خط بکش

⑨ ⑤ ③ ① ۱-۲


همچنین دور عدد کوچکتر از ۷ خط بکش

۹-۷-۸ ③ ④ ①

دختر خوبم مربع های سمت راست را طوری رنگ کن که مانند شکل سمت چپ دو تیمه مثل هم به دست آیند

زیبا اندیش عدد مناسب هر شکل را بنویس

دختر قشنگم طول هر شکل چند چینه است؟



۸

دانش آموز عزیزم سرت سلامت باشه و همیشه به توانمندی مات اعتماد داشته باش 😊

جمع بارم : ۲۰ نمره