

نام و نام خانوادگی :

پایه : دهم یاس

تعداد صفحه سؤال : ۳ صفحه

جمهوری اسلامی ایران

اداره ی کل آموزش و پرورش شهر تهران

اداره ی آموزش و پرورش شهر تهران منطقه ۴ تهران

دبستان غیردولتی دخترانه سرای دانش واحد الغدير

ارزشیابی ترم اول سال تمصیلی ۱۴۰۳-۱۴۰۲



نام درس : ریاضی

نام دبیر: خانم باب الحوایجی

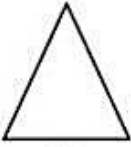
تاریخ امتحان: ۱۶ / ۱۰ / ۱۴۰۲

ساعت امتحان: ۹:۰۰


مدت امتحان : ۵۰ دقیقه

| ردیف | سؤالات | نمره |
|------|--|------|
| ۱ | همه عددهای دو رقمی را بنویسید که رقم یکانش ۲ و ۷ و رقم دهگان آن ۴ و ۶ باشد. | |
| ۲ | جاهای خالی را پر کنید. رقم یکان ° و رقم دهگان ۷ می شود رقم یکان ۳ و رقم دهگان ۴ تا بیشتر از یکان باشد ۶۹ یعنی یکی و ده تایی. | |
| ۳ | جمع و تفریق زیر را به صورت تقریبی بنویسید. $\begin{array}{r} 44 \rightarrow \\ + 19 \rightarrow \\ \hline \end{array}$ $\begin{array}{r} 83 \rightarrow \\ - 65 \rightarrow \\ \hline \end{array}$ | |
| ۴ | با شابلون یک مربع و یک مستطیل بکشید و بگویید چه تفاوت و شباهتی با هم دارند. شباهت : تفاوت | |
| ۵ | امیر دیروز در یک مسابقه ۶۳ امتیاز گرفت و امروز ۴۷ امتیاز از دست داد ، حالا امیر چند امتیاز دارد؟ (روش فرآیندی) | |
| ۶ | الگوها را ادامه دهید. $23 - 26 - 29 \dots\dots\dots$  $\dots\dots\dots, 35, 45$ $0 - 6 - 12 \dots\dots\dots$ $63 - 68 - 73 \dots\dots\dots$  | |


۷ برای هر شکل یک خط تقارن بکشید و بگویید چند ضلع دارند.




ضلع:
گوشه:



ضلع:
گوشه:



ضلع:
گوشه:



ضلع:
گوشه:


۸ جمع و تفریق کنید.

$$\begin{array}{r} 47 \\ + 39 \\ \hline \end{array}$$


$$\begin{array}{r} 92 \\ - 68 \\ \hline \end{array}$$

$50 + 20 + 10 + 3 = \dots\dots\dots$
 $100 + 20 + 30 + 5 + 5 = \dots\dots\dots$
 $30 + 7 + 4 + 6 = \dots\dots\dots$
 $90 - 60 = \dots\dots\dots$


۹ زمان هر ساعت را به دو صورت نشان دهید و بنویسید.



..... ساعت
یا




..... ساعت
یا

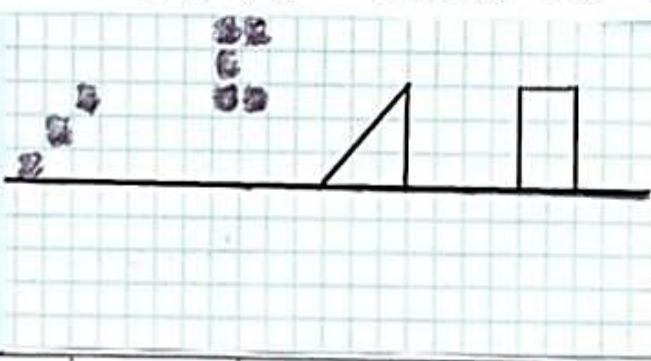


نیم ساعت بعد از ۵
یا

۱۰ نیمه دیگر هر شکل را با توجه به خط تقارن آن کامل کنید


تقارن چهار قسمتی






۱۱ دخترم ساعت های زیر را با دقت روی صفحه ساعت نمایش بده عزیزم.

یک ربع از ۷ گذشته




.....

۲۰ دقیقه از ۱ گذشته




.....

نیم ساعت از ۸ گذشته



.....

یک ربع از ۱۲ گذشته



.....

۱۲ - عزیزم با کارت های زیر هر چند عدد سه رقمی می توانی بنویسی.



۱۳ - به رقم و حروف بنویس عزیز دلم.

پانصد و شصت و هشت

دویست و چهار

۴۹۲

۳۵۰

۱۴ - عدد زیر را در جدول ارزش مکانی قرار بده و به سوالات پاسخ بده گلم.

۸۱۵

الف) بزرگترین عدد در چه مرتبه ای قرار دارد.

ب) رقم دهگان چه عددی است.

۱۵ - جاهای خالی را پر کن عزیزم.

۳ یکی و ۳ ده تایی و ۳ صدتایی می شود

۵ ده تایی و ۸ یکی و ۲ صدتایی شود

۹ صدتایی و ۵ یکی می شود

موق باشی گلم 😊


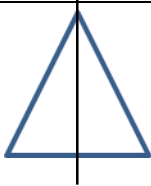
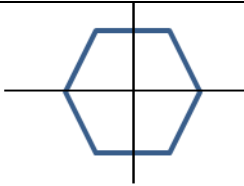
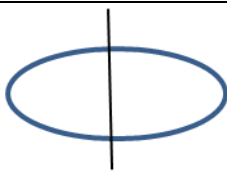
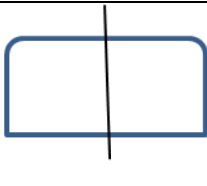



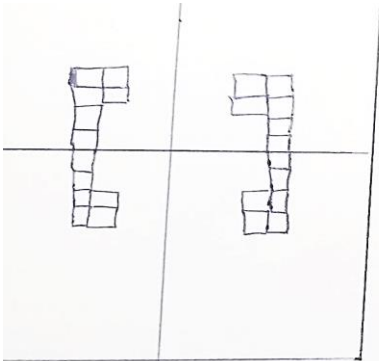
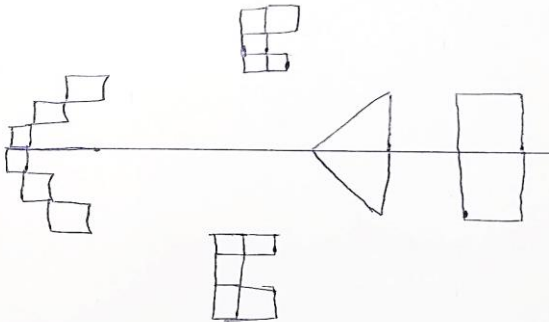
صفحه ی ۲ از ۲

جمع بارم : ۲۰ نمره

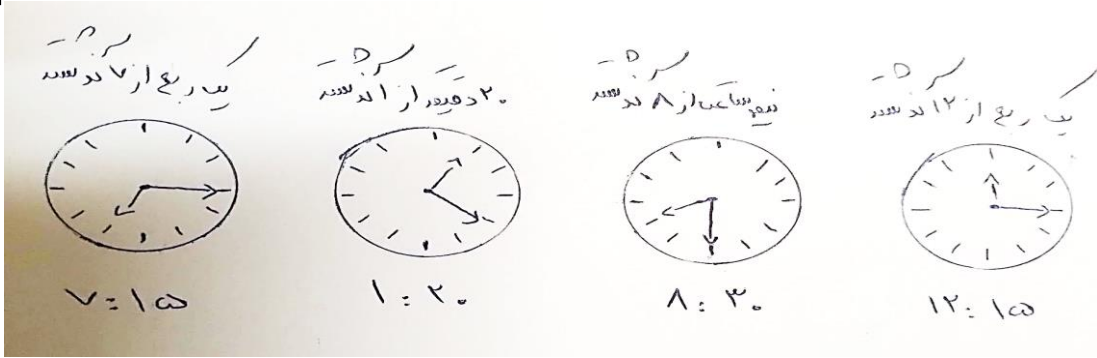
نام درس : ریاضی
 نام دبیر : فانم باب الموابمی
 تاریخ امتحان : ۱۴۰۲/۱۰/۱۶
 ساعت امتحان : ۹:۰۰
 مدت امتحان : ۵۰ دقیقه

اداره ی کل آموزش و پرورش شهر تهران
 اداره ی آموزش و پرورش شهر تهران منطقه ۴ تهران
 دبستان غیر دولتی دخترانه سرای دانش واحد الغدیر
کلید سؤالات ارزشیابی ترم اول سال تمصیلی ۱۴۰۳-۱۴۰۲



| ردیف | راهنمای تصحیح | محل مهر یا امضاء مدیر | | |
|------|---|---|--|---|
| ۱ | ۶۲-۶۷-۴۲-۴۷ | | | |
| ۲ | ۷۰ ۷۳ ۹ یکی و ۶ ده تایی | | | |
| ۳ | ۸۰-۷۰=۱۰ ۴۰+۲۰=۶۰ | | | |
| ۴ | شبهات : هر دو ۴ ضلع و ۴ گوشه دارند. تفاوت : در مربع همه ضلع ها برابرند اما در مستطیل فقط ضلع های رو به رو باهم برابرند. |  | | |
| ۵ | ۶۳-۴۷=۱۶ | | | |
| ۶ | ۲۳-۲۶-۲۹-۳۲-۳۵-۳۸-۴۱-۴۴ ۵-۱۵-۲۵-۳۵-۴۵ ۰-۶-۱۲-۱۸-۲۴-۳۰ ۶۳-۶۸-۷۳-۷۸-۸۳-۸۸ | | | |
| ۷ |  ۳ ضلع و ۳ گوشه دارد |  ۶ ضلع و ۶ گوشه دارد |  ضلع و گوشه ندارد |  ۴ ضلع و ۴ گوشه |
| ۸ | ۹۳-۶۸=۲۵ ۴۷+۳۹=۸۶ به ترتیب از بالا به پایین ۸۳-۷۰-۲۰-۳۰ | | | |
| ۹ |  ساعت شش و ۴۵ یا ۴۵ دقیقه بعد از ۶ یا ۱۵ دقیقه مانده به ۷ |  ساعت یازده در ربع یا یازده دقیقه بعد از یازده |  نیم ساعت بعد از ۱ یا ۵ و نیم | |
| ۱۰ |  |  | | |

You



۱۱

۲۹۶ - ۲۶۹ - ۶۲۹ - ۶۹۲ - ۹۲۶ - ۹۶۲

۱۲

۲۰۴ - ۵۶۸ - سیصد و پنجاه - چهارصد و نود و دو

۱۳

الف) صدگان (ب) ۱

| | | |
|-------|-------|------|
| صدگان | دهگان | یکان |
| ۸ | ۱ | ۵ |

۱۴

۹۰۵ - ۲۵۸ - ۳۳۳

۱۵