

نام و نام خانوادگی: .....  
مقطع: سوم ب

جمهوری اسلامی ایران  
اداره ی کل آموزش و پرورش شهر تهران  
اداره ی آموزش و پرورش شهر تهران منطقه ۷ تهران  
دبستان غیردولتی سرای دانش واحد شریعتی  
آزمون ترم اول سال تمصیلی ۱۴۰۳-۱۴۰۲

نام درس: ریاضی  
نام دبیر: خانم چگنی  
تاریخ امتحان: ۱۸ / ۱۰ / ۱۴۰۲  
ساعت امتحان: ..... : ..... / صبح / عصر  
مدت امتحان: ۴۵ دقیقه

ردیف	سؤالات								
۱	جاهای خالی را کامل کن. الف) ۹ کیلومتر چند متر است؟ _____ ب) ۴۲۰ سانتی متر برابر است با _____ متر و _____ سانتی متر. ج) ۲۷۰۰ گرم یعنی _____ کیلو گرم و _____ گرم. د) ۵۰۰۰ ریال برابر است با _____ تومان.								
۲	اعداد زیر را با حروف و یا رقم بنویس. <table border="1"><tr><td>۳۵۷۶</td><td>۱۹۰۵</td><td>دوهزار و هشتصد و سی و یک</td><td>هفت هزار و سیزده</td></tr><tr><td> </td><td> </td><td> </td><td> </td></tr></table>	۳۵۷۶	۱۹۰۵	دوهزار و هشتصد و سی و یک	هفت هزار و سیزده				
۳۵۷۶	۱۹۰۵	دوهزار و هشتصد و سی و یک	هفت هزار و سیزده						
۳	الگوی شمارشی چند تا چند تا ادامه دهید. ۷، ۱۴، ۲۱، ۲۸، ، ، ، ۱۰۰۰، ۱۲۰۰، ۱۴۰۰، ۱۶۰۰، ، ، ،								
۴	عدد های زیر را بصورت گسترده بنویس. $۱۲۴۳ =$ $۶۰۰۶ =$ $۳۰۶۰ =$ $۵۹۸ =$								
۵	بزرگ ترین عدد چهار رقمی و کوچک ترین عدد سه رقمی را بنویس و سپس اختلاف بین آن ها را پیدا کن. بزرگ ترین عدد چهار رقمی ← <input type="text"/> کوچک ترین عدد سه رقمی ← <input type="text"/> اختلاف بین دو عدد ← <input type="text"/>								

یک دلار کشور شکرستان ۱۲۰۰ تومان است . ۳ دلار این کشور چند تومان ارزش دارد ؟

۶

خط تقارن شکل های زیر را رسم کن.



۷

جدول مربوط به زمان ها را کامل کن .

		۱۹:۲۵	۱۶	زمان
۸:۱۵	۲			بعد از ظهر

۸

مصطفی در تابستان بادکنک می فروشد ، اگر از فروش هر بادکنک ۱۰۰ تومان سود به دست آورد با استفاده از جدول نظام دار بگو :

۹

الف ) باید چند بادکنک بفروشد تا ۳۰۰ تومان سود ببرد ؟

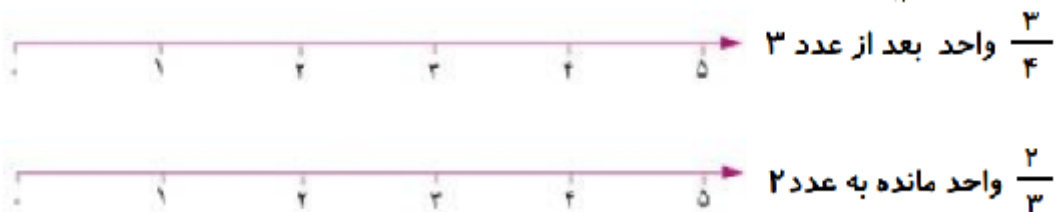
ب ) برای اینکه ۸۰۰ تومان سود کند چند بادکنک باید بفروشد ؟

هر یک از کسر های داده شده را روی شکل نشان دهید.

$$\frac{2}{6} =$$
$$\frac{3}{8} =$$

۱۰

عدد های داده شده را روی محور نشان دهید



۱۱

$$\frac{3}{8} \square \frac{3}{22}$$

$$\frac{1}{4} \square \frac{1}{7}$$

$$\frac{65}{25} \square \frac{14}{25}$$

۱۲

کسر مربوط به هر شکل را نوشته و به سوال پاسخ دهید



.....  
 \_\_\_\_\_  
 .....



.....  
 \_\_\_\_\_  
 .....



..... = .....

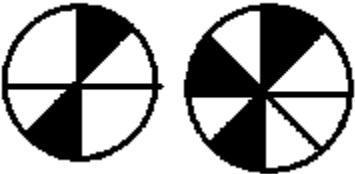
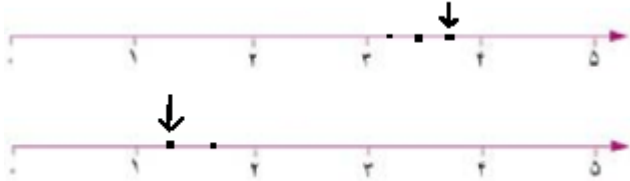
۱۳

به جای کسر  $\frac{3}{3}$  چه عدد می توانیم بنویسیم؟



اداره ی کل آموزش و پرورش شهر تهران  
 اداره ی آموزش و پرورش شهر تهران منطقه ۷ تهران  
 دبستان غیر دولتی پسرانه سرای دانش واحد شریعتی  
**کلید** سوالات میان نوبت اول سال تممیلی ۱۴۰۱-۱۴۰۰

نام درس: ریاضی  
 نام دبیر: خانم یگنی  
 تاریخ امتحان: ۱۸ / ۱۰ / ۱۴۰۱  
 ساعت امتحان: ..... صبح / عصر  
 مدت امتحان: ..... دقیقه

									ردیف
الف) ۹۰۰۰ متر ب) ۴ مترو ۲۰ سانتی متر ج) ۲ کیلو گرم و ۷۰۰ گرم د) ۵۰۰ تومان									۱
۷۰۱۳ ، ۲۸۳۱ ، هزارونهد و پنج ، سه هزار پانصد و هفتاد و شش									۲
۲۲۰۰ ، ۲۰۰۰ ، ۱۸۰۰ ، ۴۹ ، ۴۲ ، ۳۵									۳
۱۰۰۰+۲۰۰+۴۰+۳ ۶۰۰۰+۶ ۳۰۰۰+۶۰ ۵۰۰+۹۰+۸									۴
بزرگترین ۹۹۹۹ ، کوچکترین ۱۰۰ اختلاف ۹۸۹۹									۵
		۱	۲	۳					۶
دلار									
تومان		۱۲۰۰	۲۴۰۰	۳۶۰۰					
مثلث ۳ بیضی ۲									۷
۲۰:۱۵ ، ۱۴:۰۰ ، ۷:۲۵ ، ۴									۸
تعداد	۱	۲	۳	۴	۵	۶	۷	۸	۹
سود	۱۰۰	۲۰۰	۳۰۰	۴۰۰	۵۰۰	۶۰۰	۷۰۰	۸۰۰	
									۱۰
									۱۱
> ، > ، >									۱۲
$\frac{3}{3}$ ، $\frac{2}{3}$ ، $\frac{1}{3}$ به جای $\frac{2}{3}$ میتوانیم ۱ بنویسیم									۱۳