

نام و نام خانوادگی:

مقطع و رشته:

نام پدر:

شماره داوطلب:

تعداد صفحه سؤال: صفحه

جمهوری اسلامی ایران

اداره ی کل آموزش و پرورش شهر تهران

اداره ی آموزش و پرورش شهر تهران منطقه ۷ تهران

دبستان غیردولتی پسرانه سرای دانش واحد شریعتی

آزمون میانترم نوبت دوم سال تحصیلی ۱۴۰۱-۱۴۰۰





نام درس: علوم

نام دبیر: فتاحی

تاریخ امتحان: / / ۱۴۰۱

ساعت امتحان: : / صبح / عصر

مدت امتحان: ۵۰ دقیقه

ردیف	سؤالات
۱	از آب چه استفاده هایی می کنیم؟
۲	آب کدام یک از موارد زیر قابل خوردن نیست. آب دریا آب چشمه آب رودخانه دلیل خود را در یک جمله بنویسید.....
۳	دو راه برای صرفه جویی در مصرف آب بیان کنید.
۴	از سنگ چه استفاده هایی می شود 3 (مورد)
۵	کدام یک از اجسام زیر جذب آهن ربا نمی شود؟ <div style="display: flex; justify-content: space-around; align-items: center;"> <div style="text-align: center;">  <p>(د)</p> </div> <div style="text-align: center;">  <p>(ج)</p> </div> <div style="text-align: center;">  <p>(ب)</p> </div> <div style="text-align: center;">  <p>(الف)</p> </div> </div>

زیر تصویر آلوده کننده‌های هوا، علامت بگذارید.



(د)



(ج)




(ب)



(الف)

۶

کدام تصویر گرما دهنده‌ی زمین است؟



(د)



(ج)



(ب)



(الف)

۷

آهن‌ربا را کنار کدام یک از وسایل زیر نباید قرار داد؟



(د)



(ج)




(ب)



(الف)

۸

کدام سرهای دو آهنرباهای زیر آمده جذب همدیگر هستند؟ به هم وصل کنید.



۹

در راه خانه تا مدرسه چه چیزهایی را در حال حرکت می‌بینی؟ علامت بزن.



(د)



(ج)



(ب)



(الف)

۱۰

وجود کدام یک از موجودات زیر به خاک وابسته است؟ دورشان خط بکش.



(د)



(ج)



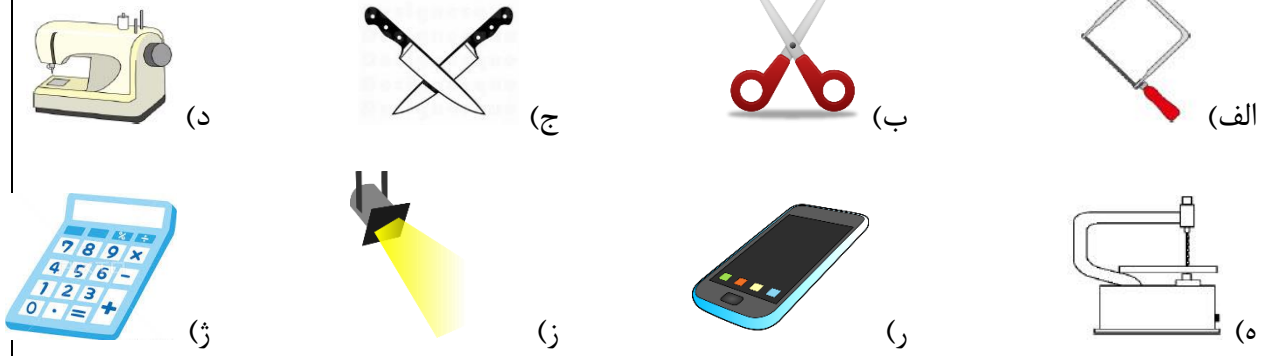
(ب)



(الف)

۱۱

وسایل پیچیده را مشخص کنید.



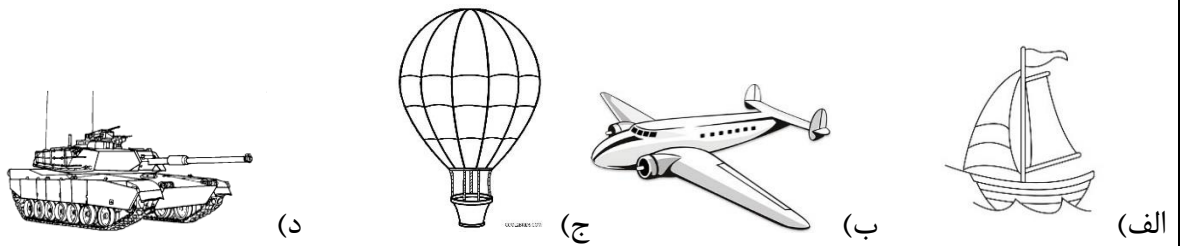
۱۲

آدم برفی کدام منطقه را دوست دارد علامت بزن.



۱۳

کدام یک از وسایل زیر در هوا حرکت می کنند؟ رنگ کن.



۱۴

در کدام یک از مشاغل زیر از گرما استفاده می شود؟ دور آن خط بکش.



۱۵

