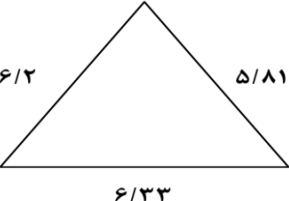
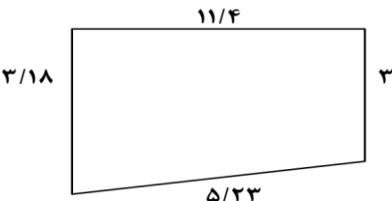
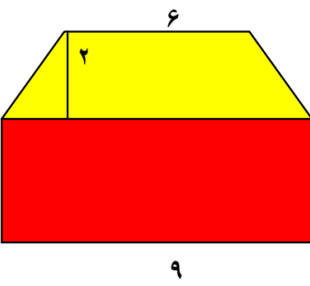


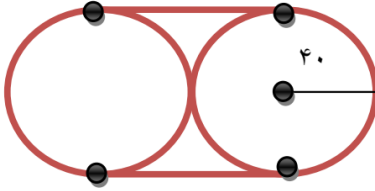


ردیف	سوالات	بارم
۱	اعداد اعشاری زیر را به رقم بنویسید. نوزده و نه هزارم ----- بیست و چهار و نه صدم -----	۱
۲	- با توجه به ارقام، عددرا به حروف بنویسید. ۳۶۵/۰۹۴ ----- به حروف: ----- ۴/۵۶ ----- به حروف: -----	۱
۳	اعداد اعشاری زیر را بصورت کسر و عدد مخلوط بنویسید. ۱/۰۳۳ =      ۵/۹ =      ۳۲/۰۱۸ =      ۸/۰۰۵ =      ۴/۵۲ =	۲
۴	مقایسه کنید. ۱۸/۰۴۹ ○ ۱۸/۱۰      ۰/۷ ○ ۰/۷۰      ۱۲/۸۳۰ ○ ۱۲/۸۰۳      ۲۶/۹۸ ○ ۲۷	۲
۵	کسرها و اعداد مخلوط را به عدد اعشاری تبدیل کنید. $\frac{۴۵۲}{۱۰۰} =$ $۷\frac{۲۱}{۱۰۰۰} =$ $\frac{۸۵۶۰}{۱۰۰۰} =$ $۲۵\frac{۰۹}{۱۰۰} =$	۲
۶	محیط شکل های زیر را بدست آورید.  	۲
۷	آپارتمانی ۱۶ پنجره دارد. اگر هر پنجره ۲ شیشه مستطیل شکل به طول ۱/۰۷ متر و عرض ۰/۹۵ متر داشته باشد، این آپارتمان چند متر مربع شیشه نیاز دارد؟	۲

۲	<p>مساحت شکل زیر را بدست آورید .</p> 	۸
۲	<p>در هر شکل مساحت قسمت رنگی را بدست آورید.</p>  <p>(قاعده بزرگ = ۸ و قاعده کوچک = ۴)</p>	۱۰
۲	<p>محیط شکل های زیر را حساب کنید.</p> 	۱۱
۲	<p>▪ طول تسمه ای که این دو چرخ را به هم وصل کرده چند سانتی متر است؟</p> 	۱۲

با آرزوی موفقیت