

نام و نام خانوادگی :

پایه : سوم

تعداد صفحه سؤال : ۳ صفحه

جمهوری اسلامی ایران

اداره ی کل آموزش و پرورش شهر تهران

اداره ی آموزش و پرورش شهر تهران منطقه ۴ تهران

دبستان غیردولتی دخترانه سرای دانش واحد الغدیر

ارزشیابی ترم دوم سال تحصیلی ۱۴۰۲-۱۴۰۱

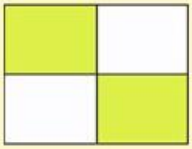
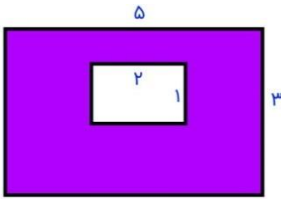


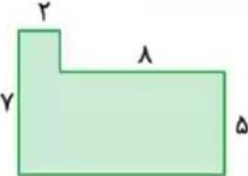
نام درس : ریاضی

نام دبیر: نوشین نصری

تاریخ امتحان: ۱۴۰۲ / ۲ / ۳۱

ساعت امتحان : ۹ صبح

مدت امتحان : ۹۰ دقیقه

ردیف	سؤالات	نمره
۱	برای شکل زیر دو کسر مساوی بنویسید. 	
۲	مساحت قسمت رنگی شکل زیر را حساب کنید. 	
۳	محیط و مساحت شکل های زیر را حساب کنید. 	
۴	مریم ۳۲ آب نبات را بین ۶ نفر به طور مساوی تقسیم کرد. به هر نفر چند آب نبات می رسد؟ چند آب نبات باقی می ماند؟ 	
۵	محیط و مساحت شکل زیر را حساب کنید. 	
۶	علامت < = > بگذارید. $\frac{1}{5} \bigcirc \frac{1}{6}$ $۲۰۰ + ۳۰۰ \bigcirc ۲۰۰۰$ $\frac{۳}{۷} \bigcirc \frac{۴}{۷}$ $۲۰۰ \text{ تومان} \bigcirc ۲۰۰ \text{ ریال}$ $۴۳۶۷ \bigcirc ۴۵۷$	

۷ پدر نازنین به او ۵۴۳۰ تومان پول داد و مادرش ۲۵۰۰ تومان به او پول داد. اگر نازنین ۶۱۴۰ تومان پولش را خرج کند، چقدر از پولش باقی می ماند؟



۸ سارا ۶ دسته ی ۱۴ تایی مداد را بین ۹ نفر به طور مساوی تقسیم می کند. به هر نفر چند مداد می رسد؟

۹ حاصل عبارت های زیر را بدست آورید

$$\begin{array}{r} 364 \\ \times 5 \\ \hline \end{array}$$

$18 \div 3 =$

$3 \times 3 =$

$9 \times 4 =$


$7 \times 0 =$

$8 \times 3 =$

$100 \times 16 =$

$20 \times 40 =$

$12 \div 3 =$



۱۰ ۵۵۰ تومان یعنی ریال

۳ کیلوگرم و ۶۵۰ گرم یعنی گرم

۷ متر یعنی سانتی متر

۶۷۰۰ متر یعنی کیلومتر و متر

۱۱ الگوها را ادامه دهید.

..... - - - ۲۰۰۶ - ۲۰۰۴

..... - - - ۱۸۵۰ - ۱۷۵۰

۱۲ جدول زمان و ساعت بعدازظهر را کامل کنید.

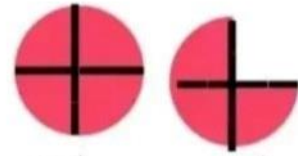
زمان	۱۵		۲۰	
بعدازظهر		۶		۲

۱۳ قطاری ساعت ۱۰:۳۰ صبح از تهران به سمت مشهد حرکت کرد و پس از ۶ ساعت به مشهد رسید. قطار در چه ساعتی به مشهد رسیده است؟ به دو صورت بیان کنید.





..... واحد و واحد



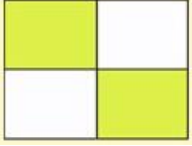
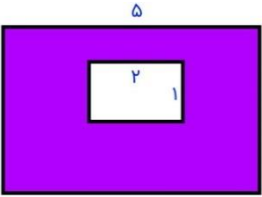


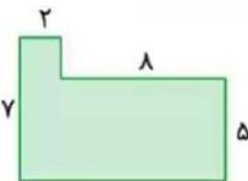
..... واحد و واحد

موفق باشید عزیزانم 😊



اداره ی کل آموزش و پرورش شهر تهران
 اداره ی آموزش و پرورش شهر تهران منطقه ۴ تهران
 دبستان غیر دولتی دخترانه سرای دانش واحد الغدیر
کلید سؤالات ارزشیابی ترم دوم سال تحصیلی ۱۴۰۲-۱۴۰۱

نام درس : ریاضی
 نام دبیر : نوشین نصری
 تاریخ امتحان : ۳۱ / ۲ / ۱۴۰۲
 ساعت امتحان : ۹ صبح
 مدت امتحان : ۹۰ دقیقه

ردیف	راهنمای تصحیح	محل مهر یا امضاء مدیر
1	برای شکل زیر دو کسر مساوی بنویسید. $\frac{2}{4} = \frac{1}{2}$	
۲	مساحت قسمت رنگی شکل زیر را حساب کنید. $5 \times 3 = 15$ $2 \times 1 = 2$ $15 - 2 = 13$	
۳	محیط و مساحت شکل های زیر را حساب کنید. محیط مستطیل : $(5+3) \times 2 = 16$ مساحت مستطیل : $5 \times 3 = 15$ محیط مربع : $3 \times 4 = 12$ مساحت مربع : $3 \times 3 = 9$	
۴	علی ۳۲ آب نبات را بین ۶ نفر به طور مساوی تقسیم کرد. به هر نفر چند آب نبات می رسد؟ ۵ چند آب نبات باقی می ماند؟ ۲	 $\begin{array}{r} 32 \overline{) 6} \\ - 30 \quad 5 \\ \hline 2 \end{array}$
۵	محیط و مساحت شکل زیر را حساب کنید. محیط : $2+8+5+10+7+2=34$ مساحت : $5 \times 8 = 40$ $2 \times 7 = 14$ $40+14=54$	

علامت < = > بگذارید.

$$\frac{1}{5} > \frac{1}{6}$$

$$200 + 300 < 2000$$

$$\frac{3}{7} < \frac{4}{7}$$

$$200 \text{ تومان} < 200 \text{ ریال}$$

$$4367 > 457$$

۶

پدر نازنین به او ۵۴۳۰ تومان پول داد و مادرش ۲۵۰۰ تومان به او پول داد. اگر نازنین ۶۱۴۰ تومان پولش را خرج کند، چقدر از پولش باقی می ماند؟

$$5420 + 2500 = 7920$$

$$7920 - 6140 = 1780$$

۷

سارا ۶ دسته ی ۱۴ تایی مداد را بین ۹ نفر به طور مساوی تقسیم می کند. به هر نفر چند مداد می رسد؟



$$14 \times 6 = 84$$

$$\begin{array}{r} 84 \quad 9 \\ - 81 \quad 9 \\ \hline 3 \end{array}$$

۸

حاصل عبارت های زیر را بدست آورید

$$\begin{array}{r} 364 \\ \times 5 \\ \hline 1820 \end{array}$$

$$18 \div 3 = 6$$

$$9 \times 4 = 36$$

$$8 \times 3 = 24$$

$$20 \times 40 = 800$$


$$3 \times 3 = 9$$

$$7 \times 0 = 0$$

$$100 \times 16 = 1600$$

$$12 \div 3 = 4$$

۹



جاهای خالی را کامل کنید.

۵۵۰ تومان یعنی... 5500... ریال

۷ متر یعنی ... 700... ساتی متر

۳ کیلوگرم و ۶۵۰ گرم یعنی... 3650... گرم

۶۷۰۰ متر یعنی ... 6... کیلومتر و .. 700... متر

۱۰

الگوها را ادامه دهید.

۲۰۰۴ - ۲۰۰۶ - ۲۰۰۸... - ۲۰۱۰ - ۲۰۱۲

۱۷۵۰ - ۱۸۵۰ - ۱۹۵۰... - ۲۰۵۰ - ۲۱۵۰

۱۱

جدول زمان و ساعت بعدازظهر را کامل کنید.

۳ - ۱۸ - ۸ - ۱۴

۱۲

زمان	۱۵		۲۰	
بعدازظهر		۶		۲

قطاری ساعت ۱۰:۳۰ صبح از تهران به سمت مشهد حرکت کرد و پس از ۶ ساعت به مشهد رسید. قطار در چه ساعتی به مشهد رسیده است؟ به دو صورت بیان کنید.

۱۶:۳۰

۴,۵

۱۳

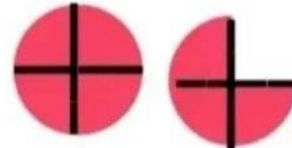


جاهای خالی را کامل کنید.



..... واحد و واحد

۲ واحد و $\frac{1}{3}$



..... واحد و واحد

۱ واحد و $\frac{3}{4}$

۱۴