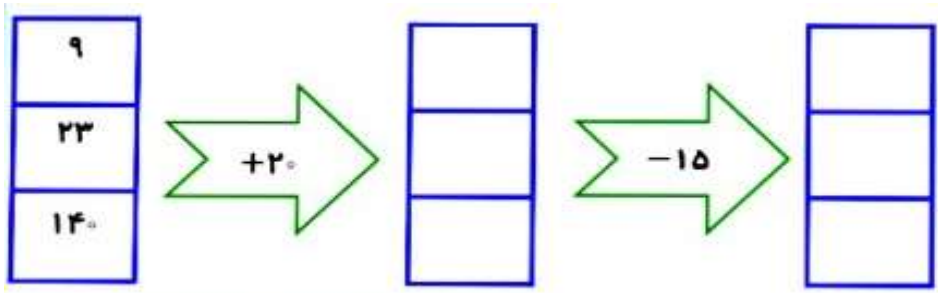
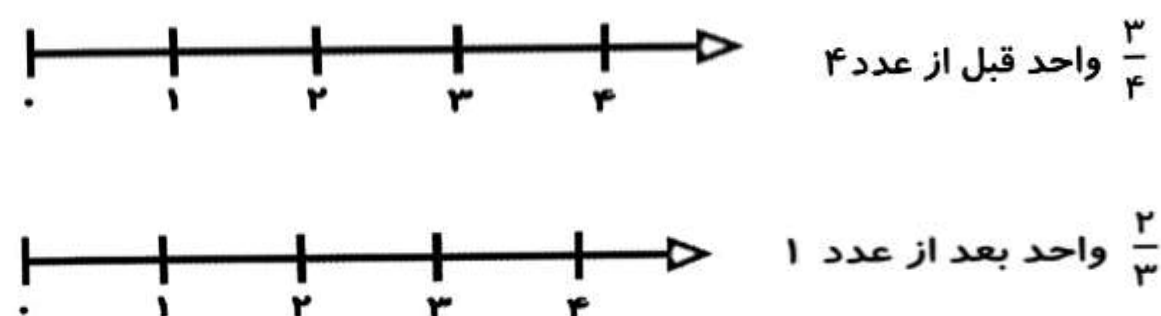


ردیف	سؤالات	نمره
۱	<p>جاهای خالی را با عدد مناسب پر کنید.</p> 	
۲	<p>جای خالی را کامل کنید.</p> <p>الف) ۱۴۷ سانتی متر یعنی ..... متر و ..... سانتی متر.</p> <p>ب) خارج قسمت تقسیم ۷۵ بر ۹ ..... است.</p> <p>ج) ۲۷۵۰ گرم ..... کیلو و ..... گرم است.</p> <p>د) عدد ۵۳۲۱ ..... یکی و ..... ده تایی و ..... صدتایی و ..... هزارتایی دارد.</p>	
۳	<p>عدد های کسری داده شده را روی محور نشان دهید.</p> 	
۴	<p>محیط مربعی ۳۲ سانتی متر است، مساحت آن چقدر است؟</p>	

جدول زیر را کامل کنید.

زمان	۱۵	۲۳		۲۰
بعد از ظهر	۳		۵	

۵

جمع و تفریق های زیر را به روش فرایندی حل کنید.

$$\begin{array}{r} 6573 \\ + 3126 \\ \hline \end{array}$$

$$\begin{array}{r} 7465 \\ - 1512 \\ \hline \end{array}$$

۶

اطلاعات جدول زیر را که مربوط به تعداد انواع درختان یک جنگل است به کمک نمودار دایره ای نشان دهید.

نوع درخت	کاج	توت	بلوط	چنار
تعداد	۲۰۰	۱۰۰	۵۰	۵۰

۷

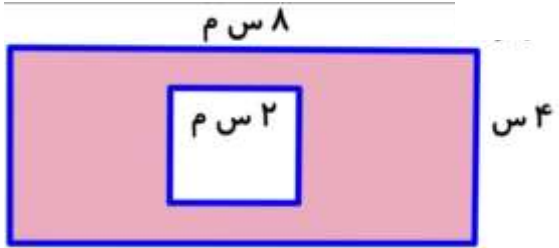
حاصل ضرب و تقسیم زیر را بدست آورید.

$$\begin{array}{r} 7 \quad 8 \quad 9 \\ \times \quad \quad 4 \\ \hline \end{array}$$

$$57 \overline{) 6}$$

۸

مساحت قسمت رنگی را حساب کنید.



۹

جدول ضرب زیر را کامل کنید.

×	۲	۳	۴	۵	۶	۷	۸	۹
۳								
۴								

۱۰