


نام و نام خانوادگی: .....  
مقطع : سوم

جمهوری اسلامی ایران  
اداره ی کل آموزش و پرورش شهر تهران  
اداره ی آموزش و پرورش شهر تهران منطقه ۷ تهران  
دبستان غیردولتی سرای دانش واحد شریعتی  
آزمون میان ترم نوبت اول سال تمصیلی ۱۴۰۳-۱۴۰۲

نام درس: ریاضی  
نام دبیر: خانم چگنی  
تاریخ امتحان: ..... / ..... / ۱۴۰۲  
ساعت امتحان: ..... : ..... صبح / عصر  
مدت امتحان : ..... دقیقه

ردیف	سؤالات																
۱	<p>تعداد مربع های زیر را به روش شمارش چندتاچندتا به دست بیاور.</p> <table border="1" data-bbox="183 481 734 649"><tr><td></td><td></td><td></td><td></td><td></td><td></td><td></td><td></td></tr><tr><td></td><td></td><td></td><td></td><td></td><td></td><td></td><td></td></tr></table> <p>نوع اول : نوع دوم : نوع سوم :</p>																
۲	<p>دوچرخه سواری ساعت ۸ صبح از شهر چابهار به سمت تهران حرکت کرد و ساعت ۲ بعدازظهر به تهران رسید . این دوچرخه سوار چند ساعت در راه بوده است ؟</p>																
۳	<p>خط تقارن شکل های زیر را رسم کنید .</p> 																
۴	<p>مهدی با لگوهایش یک ساختمان ۵ طبقه درست کرده است او در هر طبقه ۲ واد ساخته است . اگر داخل هر واحد ۳ آدمک گذاشته باشد ساختمان او چند آدمک دارد ؟ (با استفاده از جدول نظام دار )</p>																


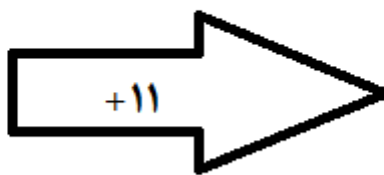
الگوی شمارشی رو به عقب کامل کنید .

\_\_\_\_\_ ، \_\_\_\_\_ ، \_\_\_\_\_ ۲۰ ، ۲۴ ، ۲۸

\_\_\_\_\_ ، \_\_\_\_\_ ، \_\_\_\_\_ ۴۷ ، ۴۵ ، ۴۳

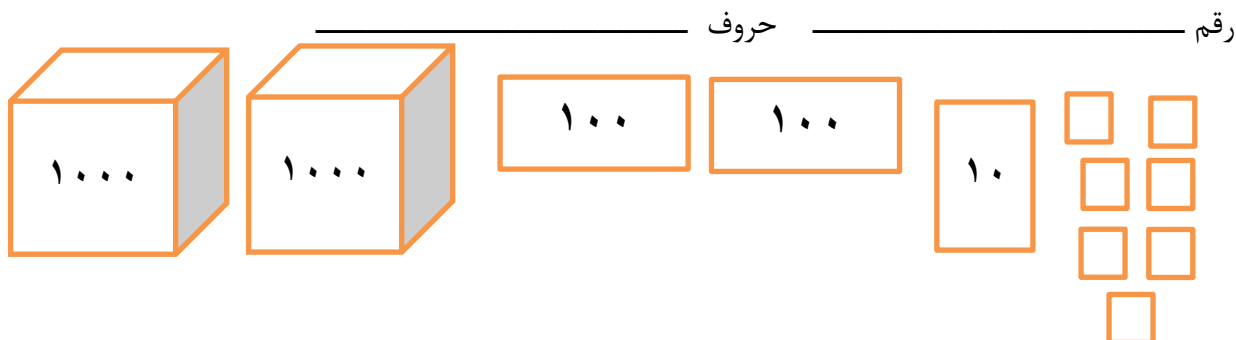
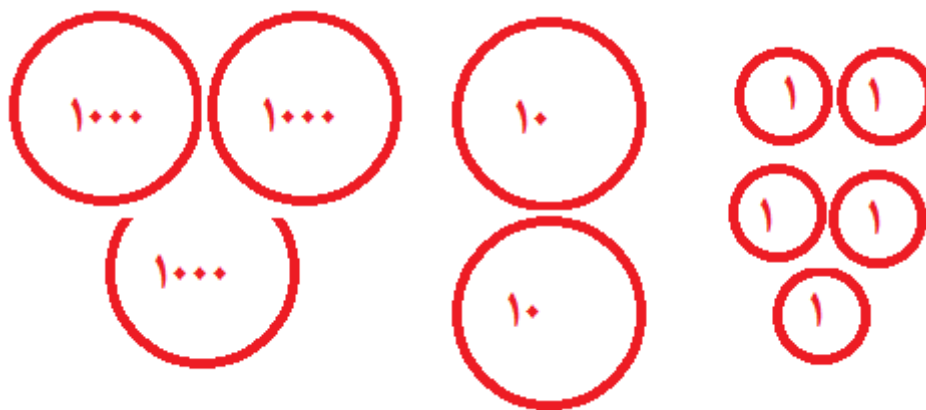
۵

با توجه به کاری که هر ماشین انجام می دهد در جاهای خالی عدد مناسب بنویسید .



۶

عددی را که هر شکل نشان می دهد با رقم و حروف بنویسید .



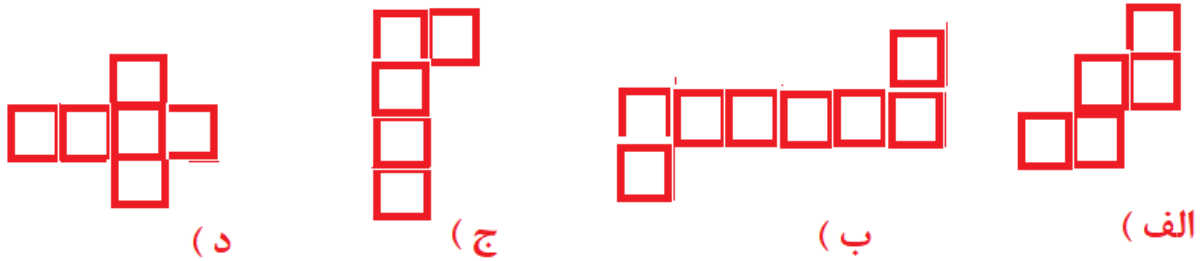
رقم \_\_\_\_\_ حروف \_\_\_\_\_

۷

همه عدد های سه رقمی را که رقم صدگان آن ها ۸ و ۳، رقم دهگان آن ها ۰ و ۵، و رقم یکان آن ها ۹ و ۲ باشد را در مکان مناسب در نمودار بنویسید .

۸

کدام شکل باز شده یک مکعب است ؟



۹

با آرزوی موفقیت