

نام و نام خانوادگی :

پایه : دهه

تعداد صفحه سؤال : ۴ صفحه

جمهوری اسلامی ایران

اداره ی کل آموزش و پرورش شهر تهران

اداره ی آموزش و پرورش شهر تهران منطقه ۴ تهران

دبستان غیردولتی دخترانه سرای دانش واحد الغدیر

ارزشیابی ترم اول سال تمصیلی ۱۴۰۲-۱۴۰۱

نام درس : ریاضی

نام دبیر: خانم موسوی / خانم عرفانیان

تاریخ امتحان: ۱۴۰۱ / ۱۰ / ۲۴

ساعت امتحان : ۰۰ : ۸

مدت امتحان : ۹۰ دقیقه

شماره	سؤالات	نمره												
۱	عددهای دو رقمی زیر را پیدا کن و با عدد و با حروف بنویس. (الف) رقم یکان ۴ و رقم دهگان ۷ ⇐ به حروف (ب) رقم یکان صفر و رقم دهگان ۹ ⇐ به حروف (ج) رقم یکان ۳ و رقم دهگان ۵ تا از رقم یکان بیشتر باشد ⇐ به حروف (د) رقم دهگان ۹ و رقم یکان ۶ تا از رقم دهگان کمتر باشد ⇐ به حروف	۱												
۱۵	عددهای زیر را در جدول ارزش مکانی بنویس. <table style="display: inline-table; margin-right: 20px;"><tr><td>یکان</td><td>دهگان</td></tr><tr><td> </td><td> </td></tr></table> <table style="display: inline-table; margin-right: 20px;"><tr><td>یکان</td><td>دهگان</td></tr><tr><td> </td><td> </td></tr></table> <table style="display: inline-table; margin-right: 20px;"><tr><td>یکان</td><td>دهگان</td></tr><tr><td> </td><td> </td></tr></table>	یکان	دهگان			یکان	دهگان			یکان	دهگان			۲
یکان	دهگان													
یکان	دهگان													
یکان	دهگان													
۱۵	امروز ۲۴ دی ماه است. ۸ روز قبل چه روزی بوده است؟ (روی محور نشان بده) 	۳												
۱	ساعت چند است؟ یک ربع مانده به ۱۱ : : : :	۴												
۱۵	اگر به ۲ دسته‌ی ده‌تایی و ۴ دسته‌ی ده‌تایی مداد رنگی، ۷ تا مداد رنگی اضافه کنیم، حالا چند مداد رنگی داریم؟	۵												

با رقم های ۳ و ۴ و صفر، همهی عددهای دو رقمی را که می توان درست کرد، بنویس. (منظم بنویس)

۶

۲

جواب جمع و تفریق ها را بنویس.

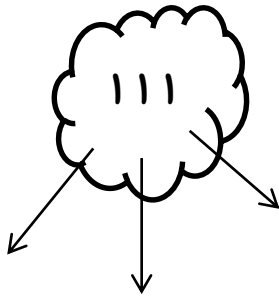
۷

۱ $۸۰ - ۷۰ =$ $۴۰ + ۶۰ =$ $۴۰ + ۳۰ =$ $۹۰ - ۵۰ =$
 $۱۵۰ + ۱۵۰ =$ $۱۰۰ + ۱۰۰ =$ $۵۰۰ - ۲۰۰ =$ $۴۰۰ + ۱۰۰ =$

رقم یکان و دهگان و صدگان عددهای زیر را بنویس.

۸

۱/۵



..... رقم صدگان رقم دهگان رقم یکان ← ۸۹۰

..... رقم صدگان رقم دهگان رقم یکان ← ۳۷۸

فرآیندی حل کن.

۹

۲

$$\begin{array}{r} ۵۴ \\ - ۲۶ \\ \hline \end{array}$$

$$\begin{array}{r} ۱۷ \\ + ۱۸ \\ \hline \end{array}$$

$$\begin{array}{r} ۳۷ \\ - ۱۴ \\ \hline \end{array}$$

$$\begin{array}{r} ۵۷ \\ + ۱۴ \\ \hline \end{array}$$

تقریب بزن.

۱۰

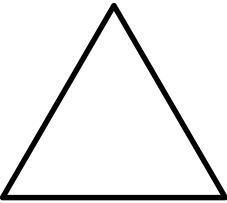



۲

$۱۳ \Rightarrow$ $۷۶ \Rightarrow$ $۵۲ \Rightarrow$ $۴۴ \Rightarrow$
 $۱۰۲ \Rightarrow$ $۱۲۳ \Rightarrow$ $۴۲۸ \Rightarrow$ $۲۳۹ \Rightarrow$

۱	همه‌ی عددهای دو رقمی را بنویس که رقم‌های یکان آن‌ها ۳ و ۴ و رقم دهگان آن‌ها ۵ و ۷ باشد. (منظم بنویس)	۱۱
---	--	----

۱/۵	الگو را ادامه بده. ۵ - ۱۰ - ۱۵ - - - ۲۴ - ۲۰ - ۱۶ - - - ۱ - ۳ - ۶ - ۱۰ - - -	۱۲
-----	---	----

۲	با حذف رقم یکان و دهگان، تقریب بزن و حل کن. $\begin{array}{r} 473 \rightarrow \\ + 210 \rightarrow \\ \hline \end{array}$ $\begin{array}{r} 521 \rightarrow \\ - 254 \rightarrow \\ \hline \end{array}$ $\begin{array}{r} 243 \rightarrow \\ - 121 \rightarrow \\ \hline \end{array}$ $\begin{array}{r} 375 \rightarrow \\ + 214 \rightarrow \\ \hline \end{array}$	۱۳
---	--	----

۱	هر شکل چند ضلع و چند گوشه دارد؟    	۱۴								
	<table style="width: 100%; border: none;"> <tr> <td style="width: 25%;">..... ضلع</td> <td style="width: 25%;">..... ضلع</td> <td style="width: 25%;">..... ضلع</td> <td style="width: 25%;">..... ضلع</td> </tr> <tr> <td>..... گوشه</td> <td>..... گوشه</td> <td>..... گوشه</td> <td>..... گوشه</td> </tr> </table> ضلع ضلع ضلع ضلع گوشه گوشه گوشه گوشه	
..... ضلع ضلع ضلع ضلع							
..... گوشه گوشه گوشه گوشه							

الف) با سه کارت روبرو همه‌ی عددهای سه رقمی را که می‌توان درست کرد، بنویس.

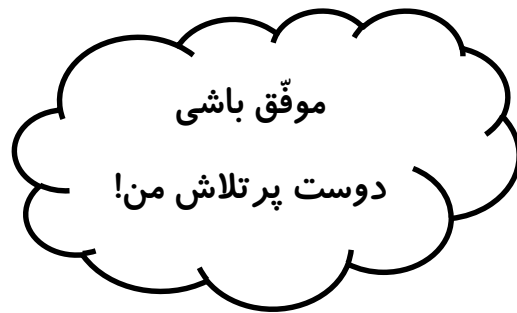

۷

۰

۹

ب) کوچک‌ترین عدد کدام است؟

ج) عددهایی را پیدا کن که رقم صدگان و دهگان آنها از رقم یکان کمتر باشد.





اداره ی کل آموزش و پرورش شهر تهران
 اداره ی آموزش و پرورش شهر تهران منطقه ۴ تهران
 دبستان غیر دولتی دخترانه سرای دانش واحد الغدیر
کلید سؤالات ارزشیابی ترم اول سال تحصیلی ۱۴۰۲-۱۴۰۱

نام درس : ریاضی
 نام دبیر: خانم موسوی / خانم عرفانیان
 تاریخ امتحان: ۱۴۰۱/۱۰/۲۴
 ساعت امتحان : ۰۰ : ۸
 مدت امتحان : ۹۰ دقیقه

ردیف	راهنمای تصحیح	محل مهر یا امضاء مدیر
۱	۷۴- هفتاد و چهار ۹۰- نود ۸۳- هشتاد و سه ۹۳- نود و سه	
۲	۹۰ : ۹ ده تایی و ۰ یکی ۷۸ : ۷ ده تایی و ۸ یکی ۱۹ : ۱ ده تایی و ۹ یکی	
۳	۱۶ دی ماه	
۴	۳:۱۵ ۱:۵۰ ۳:۳۰	
۵	۶۷	
۶		۳۰-۳۳-۴۳-۴۴-۴۰-۳۴-
۷	۴۰ ۵۰۰ ۷۰ ۳۰۰ ۱۰۰ ۲۰۰ ۱۰ ۳۰۰	
۸	۸-۹-۰ ۳-۷-۸	
۹	۷۱ ۲۳ ۲۸ ۳۵	
۱۰	۴۰ ۲۴۰ ۵۰ ۴۳۰ ۸۰ ۱۲۰ ۱۰ ۱۰۰	
۱۱		۵۴-۵۳-۷۴-۷۳
۱۲	۲۰-۲۵-۳۰ ۱۲-۸-۴	۱۵-۲۱-۲۸
۱۳	۵۰۰ ۱۰۰ ۶۰۰ ۳۰۰	
۱۴	۸ ۸ ۵ ۵ ۳ ۳	
۱۵	الف) ۷۰۹ - ۷۹۰ - ۹۰۷ - ۹۷۰ ب) ۷۰۹ ج) ۷۰۹	