

نام و نام خانوادگی:

باسمه تعالی

شماره ردیف دانش‌آموزی:

جمهوری اسلامی ایران

وزارت آموزش و پرورش

اداره کل آموزش و پرورش استان تهران

نام دبستان:

مدیریت آموزش و پرورش منطقه شهر ۴ تهران

پایه: **ششم**

مطالعات اجتماعی

آزمون درس: تاریخ آزمون: ۱۴۰۰/۰۳/۰۷

ساعت آزمون: ۸ صبح

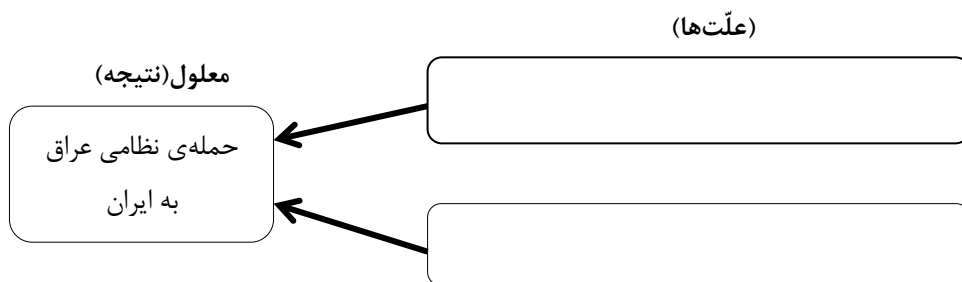
مدت آزمون: ۶۰ دقیقه

ردیف	دستور کار قسمت الف - پاسخ درست را با علامت ( × ) مشخص کنید.								
۱	به فرموده‌ی پیامبر اسلام(ص) بدترین افراد چه کسانی هستند؟ الف) افراد بخیل <input type="checkbox"/> ب) افراد دروغ‌گو <input type="checkbox"/> ج) افراد سخن‌چین <input type="checkbox"/> د) افراد حسود <input type="checkbox"/>								
۲	از فکر و تجربه‌ی دیگران استفاده کردن را، چه می‌گویند؟ الف) مشورت <input type="checkbox"/> ب) انتخاب <input type="checkbox"/> ج) تصمیم‌گیری <input type="checkbox"/> د) بررسی پیشنهادات <input type="checkbox"/>								
۳	سم‌پاشی جزء کدام یک از مراحل کشاورزی می‌باشد؟ الف) برداشت <input type="checkbox"/> ب) کاشت <input type="checkbox"/> ج) داشت <input type="checkbox"/> د) هیچ کدام <input type="checkbox"/>								
۴	کدام گروه از محصولات زیر جزء گیاهان زراعی می‌باشند؟ الف) گندم، ذرت، برنج، جو <input type="checkbox"/> ب) گندم، جو، گوجه‌فرنگی، پرتقال <input type="checkbox"/> ج) خرما، انار، خیار، کاهو <input type="checkbox"/> د) نخود، گوجه‌سبز، سیب، کدو <input type="checkbox"/>								
۵	از شکافتن هسته‌ی اتم‌های بعضی از عناصر مثل اورانیوم کدام انرژی پدید می‌آید؟ الف) انرژی خورشیدی <input type="checkbox"/> ب) انرژی حرارتی <input type="checkbox"/> ج) انرژی هسته‌ای <input type="checkbox"/> د) انرژی تجدید پذیر <input type="checkbox"/>								
۶	کوه‌های آرات بخشی از مرز بین کدام کشورها را تشکیل می‌دهد؟ الف) عراق و ترکیه <input type="checkbox"/> ب) ایران و ترکمنستان <input type="checkbox"/> ج) ترکیه و ایران <input type="checkbox"/> د) عراق و ایران <input type="checkbox"/>								
ب	دستور کار قسمت ب - در جاهای خالی، کلمات مناسب بنویسید.								
۱	دین اسلام از سرزمین ----- طلوع کرد.								
۲	مسلمانان فنّ کاغذسازی را از ----- آموختند.								
۳	از مهم‌ترین دلایل اهمّیت خلیج‌فارس، وجود منابع سرشار از ----- و ----- است.								
۴	با سوزاندن سوخت‌های فسیلی و تبدیل آب به بخار برق ----- تولید می‌کنند.								
۵	یکی از آبریزان مهمّ دریا‌های جنوب، ----- می‌باشد.								
پ	دستور کار قسمت پ - جملات درست را با حرف (د) و جملات نادرست را با حرف (ن) مشخص کنید.								
۱	گنبد یکی از نشانه‌های معماری اسلامی است. ( )								
۲	بزرگ‌ترین تجارت در جهان امروزی، فقط صادرات و واردات نفت می‌باشد. ( )								
۳	میزان شوری آب دریای خزر از دیگر دریاها و اقیانوس‌ها کمتر است. ( )								
ت	دستور کار قسمت ت - هر یک از عبارات زیر را به کلمه‌ی مناسب وصل کنید.								
	<table border="1"> <tr> <td>عمده‌فروش</td> <td>۱. توان مالی یا مقدار پولی که می‌توانیم برای تهیه‌ی یک چیز بپردازیم.</td> </tr> <tr> <td>تولید انبوه</td> <td>۲. به تولید کالاها به مقدار زیاد و به صورت یک‌شکل و همسان گفته می‌شود.</td> </tr> <tr> <td>بودجه</td> <td>۳. به همکاری افراد مختلف برای تولید یک کالا و انجام هر مهارت توسط یک نفر.</td> </tr> <tr> <td>خط تولید</td> <td></td> </tr> </table>	عمده‌فروش	۱. توان مالی یا مقدار پولی که می‌توانیم برای تهیه‌ی یک چیز بپردازیم.	تولید انبوه	۲. به تولید کالاها به مقدار زیاد و به صورت یک‌شکل و همسان گفته می‌شود.	بودجه	۳. به همکاری افراد مختلف برای تولید یک کالا و انجام هر مهارت توسط یک نفر.	خط تولید	
عمده‌فروش	۱. توان مالی یا مقدار پولی که می‌توانیم برای تهیه‌ی یک چیز بپردازیم.								
تولید انبوه	۲. به تولید کالاها به مقدار زیاد و به صورت یک‌شکل و همسان گفته می‌شود.								
بودجه	۳. به همکاری افراد مختلف برای تولید یک کالا و انجام هر مهارت توسط یک نفر.								
خط تولید									

ث	دستور کار قسمت ث - به سؤالات زیر پاسخ کوتاه دهید.
	<p>(۱) کدام سلسله مذهب شیعه را مذهب رسمی کشور اعلام کرد؟</p> <p>(۲) پهنه‌های بسیار بزرگ آبی کره‌ی زمین چه نام دارد؟</p> <p>(۳) چرا پوشاک مردم کشورمان در نواحی مختلف متفاوت می‌باشد؟</p> <p>(۴) به نیروهای مردمی که در زمان جنگ به یاری ارتش و سپاه آمدند، چه می‌گفتند؟</p>
ج	دستور کار قسمت ج - هر کدام از اصطلاحات زیر را تعریف کنید.
	<p>گذرنامه =</p> <p>مستعمره =</p>
چ	دستور کار قسمت چ - به سؤالات زیر پاسخ کامل دهید.
۱	<p>هنگام بهترین انتخاب چه سؤالاتی را باید از خودمان بپرسیم؟ (۳ مورد)</p>
۲	<p>آقای رضوانی هزینه‌ی زیادی را در هر دوره بابت مصرف برق می‌پردازد. شما چه پیشنهاداتی می‌توانید به خانواده‌ی آقای رضوانی بدهید تا کمکی به کاهش مصرف برق و هزینه‌ی آن‌ها شود. (۲ مورد)</p>
۳	<p>برای نوشتن یک برنامه‌ی متعادل، چه نکاتی را باید رعایت کرد؟ (۲ مورد)</p>
۴	<p>ضررهای استفاده‌ی زیاد از بازی‌های رایانه‌ای را بنویسید. (۲ مورد)</p>
۵	<p>استعمارگران از چه راه‌هایی در کشورهای دیگر نفوذ می‌کردند؟ (۱ مورد کافی است.)</p>
۶	<p>استعمارگران از چه راه‌هایی در کشورهای دیگر نفوذ می‌کردند؟</p>


دستور کار قسمت ح - نمودار علت و معلولی زیر را کامل کنید.

ح



دستور کار قسمت خ - با توجه به خط زمان زیر، به سؤالات پاسخ دهید.

خ

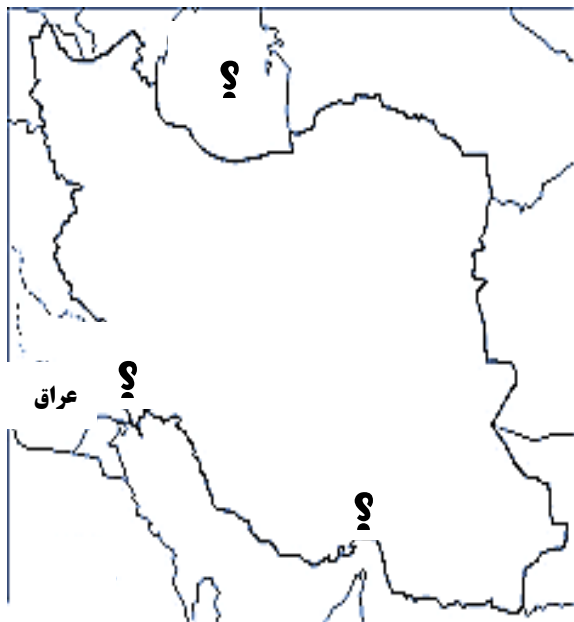


الف) زکریای رازی در نیمه‌ی ----- قرن ----- هجری به دنیا آمد.

ب) ابن سینا در ۳۷۰ هجری به دنیا آمده است. آن را روی خط زمان نشان دهید.

دستور کار قسمت د - موارد خواسته شده را روی نقشه بنویسید.

د



۱. نام بزرگ‌ترین دریاچه‌ی جهان
۲. بندری در جنوب
۳. رود مرزی ایران و عراق

نظر نهایی معلم:

\* پیروز باشید \*

تاریخ و امضا:

نام و نام خانوادگی معلم: