

ردیف	سؤالات	نمره
	<p>من چه عددی هستم؟</p> <p>الف) رقم یکان ۴، رقم دهگان ۷ و رقم صدگان ۵ \Leftarrow به حروف پانصد و هفتاد و چهار</p> <p>ب) رقم یکان صفر و رقم دهگان ۹ و رقم صدگان ۱ \Leftarrow به حروف صد و نود</p> <p>ج) رقم یکان ۳ و رقم دهگان و صدگان ۵ تا از رقم یکان بیشتر است \Leftarrow ۸۸۳</p> <p>به حروف هشتصد و هشتاد و سه</p>	۱
	<p>الگو را ادامه بده.</p> <p>۱ - ۴ - ۸ - ۱۳ ۱۹ ۲۴ ۳۴</p> <p>۶ - ۱۲ - ۱۸ ۲۴ ۳۰ ۳۶</p>	۲
	<p>الف) با رقم های ۴ و ۸ عددهای سه رقمی بنویس. (جدول بکش و منظم بنویس)</p> <p>ب) عددهایی را بنویس که همهی رقم های آن تکراری باشد. ۸۸۸ - ۴۴۴</p> <p>ج) عددهایی را بنویس که جمع رقم صدگان و یکان آن مساوی با رقم دهگان باشد. ۴۸۴</p> <p>ص د ی</p> <p>۴ ۴ ۴</p> <p>۴ ۸ ۸</p> <p>۸ ۴ ۴</p> <p>۸ ۸ ۸</p> <p>۴۴۴ - ۴۴۸ - ۴۸۴ -</p> <p>۴۸۸ - ۸۴۴ - ۸۴۸ -</p> <p>۸۸۴ - ۸۸۸</p>	۳

ترانه ۳۲ صفحه از کتابش را در روز اول خواند. او فردا ۱۹ صفحه‌ی دیگر هم خواند. او چند صفحه

کتاب خوانده است؟

۵۱ صفحه را خوانده است.

اگر کتاب او ۷۶ صفحه داشته باشد، او چند صفحه‌ی دیگر باید بخواند؟

۲۵ صفحه‌ی دیگر باید بخواند.

$$\begin{array}{r} 32 \\ + 19 \\ \hline 42 \\ + 9 \\ \hline 51 \end{array}$$

$$\begin{array}{r} 76 \\ - 51 \\ \hline 25 \end{array}$$

ستونی بنویس و فرایندی حل کن.


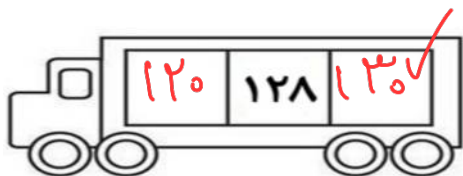
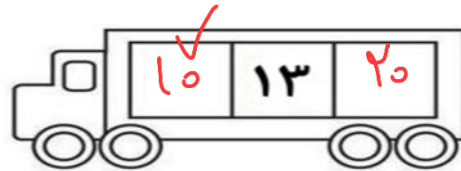
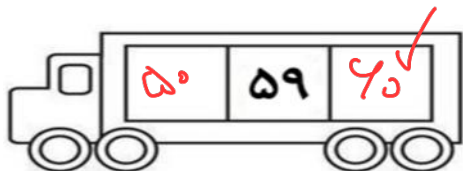
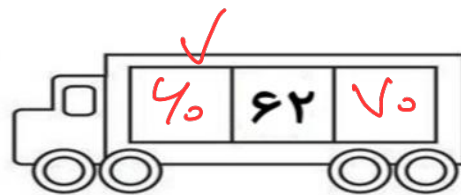

۹۴ - ۷۸ =

$$\begin{array}{r} 94 \\ - 78 \\ \hline 24 \\ - 8 \\ \hline 16 \end{array}$$

۵۸ + ۳۳ =


$$\begin{array}{r} 58 \\ + 33 \\ \hline 88 \\ + 3 \\ \hline 91 \end{array}$$

تقریب بزن.



الف) ساعت پنج و ربع را روی ساعت نشان بده. ب) ۴۵ دقیقه‌ی بعد ساعت چند می‌شود؟

۶:۰۰



نام شکل‌های زیر را بنویس. آن‌ها چه تفاوت و چه شباهت‌هایی با هم دارند؟



برای هر شکل خط تقارن بکش.

تفاوت‌ها ⇐ اولی ۳ ضلع و نوشته دارد. دومی ۵ ضلع و نوشته دارد.

اولی ۳ خط تقارن دارد و دومی ۵ خط تقارن دارد.

شباهت‌ها ⇐ هر دو شکل هندسی اند. هر دو ضلع و نوشته دارند.

هر دو خط تقارن دارند. اندازه ضلع‌های هر دو برابر است.

جواب جمع و تفریق‌ها را به دست بیاور.

$$60 + 40 = 100$$

$$80 - 70 = 10$$

$$40 + 20 = 60$$

$$90 - 50 = 40$$

۸

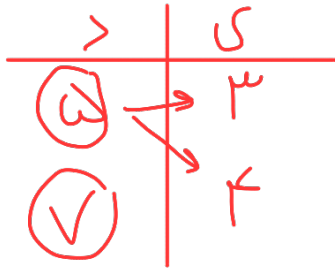
$$150 + 150 = 300$$

$$100 + 100 = 200$$

$$500 - 200 = 300$$

$$400 + 100 = 500$$


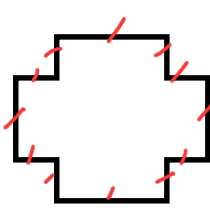

عددهای دو رقمی بنویس که رقم یکان آن ۳ و ۴ و رقم دهگان آن ۵ و ۷ باشد. (منظم بنویس)



۵۳، ۵۴
۷۳، ۷۴

۹

هر شکل چند ضلع و گوشه دارد؟



۱۰ ضلع
۱۰ گوشه

۱۲ ضلع و ۱۲ گوشه

ضلع و نوشته ندارد.

۱۰

با حذف رقم یکان و دهگان، تقریب بزن و حل کن.

۱۱