

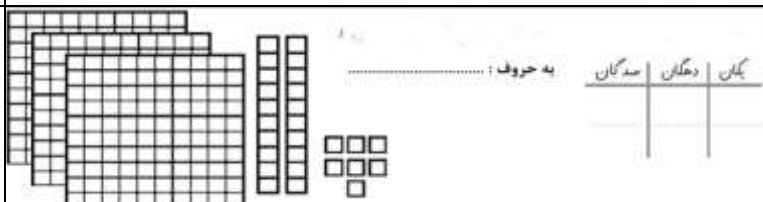



نام و نام خانوادگی:
 مقطع و رشته:
 نام پدر:
 شماره داوطلب:
 تعداد صفحه سؤال: ۲ صفحه

جمهوری اسلامی ایران
 اداره ی کل آموزش و پرورش شهر تهران
 اداره ی آموزش و پرورش شهر تهران منطقه ۴ تهران
 دبستان غیردولتی دخترانه سرای دانش واحد رسالت
 جمع بندی پایان ترم نوبت اول سال تحصیلی ۱۴۰۳ - ۱۴۰۲

نام درس: ریاضی
 نام دبیر: مریم سادات آقاحسینی
 تاریخ امتحان: ۱۴۰۲/۰۲/۱۶
 ساعت امتحان: ۳۰ : ۰۷ صبح / عصر
 مدت امتحان: ۹۰ دقیقه

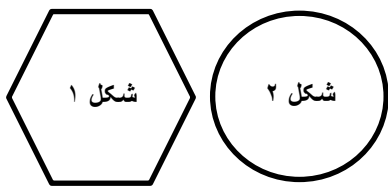
نام مدیر و امضاء مدیر	نمره به عدد:	نمره به حروف:
	نمره تجدید نظر به عدد:	نمره به حروف:
نام دبیر:	تاریخ و امضاء:	نام دبیر:
نام	سؤالات	نوع
	<p>الگو را ادامه بده:</p>  <p>شکل ۱ شکل ۲ شکل ۳ شکل ۴ شکل ۵</p> <p>صد،، سیصد، چهارصد،،،</p>	۱
	<p>جواب جمع و تفریق های زیر را به صورت تقریبی به دست آورید:</p> <p>(الف)</p> $\begin{array}{r} ۳۵ \\ +۲۵ \\ \hline \end{array}$ $\begin{array}{r} ۱۶ \\ -۴۱ \\ \hline \end{array}$ <p>(ب) با حذف یکان و دهگان به صورت تقریبی بنویسید:</p> $\begin{array}{r} ۵۴۸ \\ +۲۸۷ \\ \hline \end{array}$ $\begin{array}{r} ۳۴۸ \\ -۱۱۷ \\ \hline \end{array}$	۲
	<p>به سوالات زیر پاسخ دهید:</p> <p>الف) زمانی را که ساعت نشان می دهد به دو صورت بنویس:</p> <p>.....</p> <p>یک ربع بعد از این ساعت چه ساعتی است.....</p> <p>نیم ساعت بعد از ساعت ۹:۳۰ ساعت چند است.....</p> <p>بیست دقیقه بعد از ساعت ۸:۱۵ چه ساعتی است.....</p> 	۳
	<p>جدول زیر را کامل کن:</p> 	۴

با کارت های رو به رو تمام عدد های سه رقمی را که می توان بنویس:



۵

شکل های رو به رو چه شباهت ها و چه تفاوت هایی دارد؟



شباهت:
.....
تفاوت :
.....

۶

جواب جمع و تفریق های زیر را به صورت فرایندی و رسم شکل به دست آورید:

$$\begin{array}{r} ۵۲ \\ - ۲۲ \\ \hline \end{array}$$

$$\begin{array}{r} ۳۹ \\ + ۲۵ \\ \hline \end{array}$$

$$۱۰+۲+۳+۵+۵+۱۰+۲۰ =$$

۷

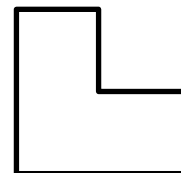




یک سکه ی ۲۵۰ ریالی را با چه سکه هایی می توان جا به جا کرد:

۸

زهرا ۶۳ گردو دارد. اگر ۱۸ عدد گردو را به برادرش علی بدهد، چند گردو برای زهرا باقی می ماند؟ (فرآیندی)

۹

برای هر کدام از شکل های زیر خط تقارن رسم کنید:



۱۰



اداره ی کل آموزش و پرورش شهر تهران
 اداره ی آموزش و پرورش شهر تهران منطقه ۴ تهران
 دبستان غیر دولتی دخترانه سرای دانش واحد رسالت
کلید سؤالات پایان نوبت اول سال تحصیلی ۱۴۰۳-۱۴۰۲

نام درس: ریاضی دوم
 نام دبیره: مریم آقامسینی
 تاریخ امتحان: ۱۴۰۲/۱۰/۱۶
 ساعت امتحان: ۷:۳۰ صبح / عصر
 مدت امتحان: ۹۰ دقیقه

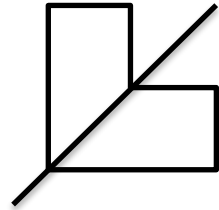

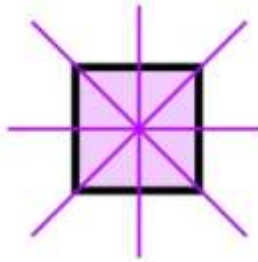
ردیف	راهنمای تصحیح	محل مهر یا امضاء مدیر												
۱	<p>صد، دویست، سیصد، چهارصد، پانصد، ششصد، هفت صد، هشت صد، نه صد</p>													
۲	<p>(الف)</p> <table style="width: 100%; text-align: center;"> <tr> <td>۳۵</td> <td>۱۶</td> <td>۵۰۰</td> <td>۳۰۰</td> </tr> <tr> <td><u>+۲۵</u></td> <td><u>-۴۱</u></td> <td><u>+۲۰۰</u></td> <td><u>-۱۰۰</u></td> </tr> <tr> <td>۶۰</td> <td>۴۵</td> <td>۷۰۰</td> <td>۲۰۰</td> </tr> </table> <p>(ب)</p>	۳۵	۱۶	۵۰۰	۳۰۰	<u>+۲۵</u>	<u>-۴۱</u>	<u>+۲۰۰</u>	<u>-۱۰۰</u>	۶۰	۴۵	۷۰۰	۲۰۰	
۳۵	۱۶	۵۰۰	۳۰۰											
<u>+۲۵</u>	<u>-۴۱</u>	<u>+۲۰۰</u>	<u>-۱۰۰</u>											
۶۰	۴۵	۷۰۰	۲۰۰											
۳	<p>(الف) ۷:۱۵ ، هفت و ربع (ب) یک ربع بعد از این ساعت چه ساعتی است. ۷:۳۰ نیم ساعت بعد از ساعت ۹:۳۰ ساعت چند است. ۱۰ بیست دقیقه بعد از ساعت ۸:۱۵ چه ساعتی است ۸:۳۵</p>													
۴	۳۲۷													
۵	۷۵۲ - ۷۲۵ - ۵۷۲ - ۵۲۷ - ۲۷۵ - ۲۵۷													
۶	<p>شباهت : هر دو شکل هندسی هستند . هر دو خط تقارن دارند . تفاوت : شکل ۱ شش ضلع و شش گوشه دارد ولی شکل ۲ گوشه و ضلع ندارد.</p>													
۷	<p>$۱۰+۲+۳+۵+۵+۱۰+۲۰=۵۳$</p> <table style="width: 100%; text-align: center;"> <tr> <td>۵۲</td> <td>۳۹</td> </tr> <tr> <td><u>-۲۲</u></td> <td><u>+۲۵</u></td> </tr> <tr> <td>۲۰</td> <td>۶۴</td> </tr> </table>	۵۲	۳۹	<u>-۲۲</u>	<u>+۲۵</u>	۲۰	۶۴							
۵۲	۳۹													
<u>-۲۲</u>	<u>+۲۵</u>													
۲۰	۶۴													

دو سکه ی ۱۰۰ ریالی و ۵ سکه ی ۱۰ ریالی
پنج سکه ی ۵۰ ریالی
دو سکه ی ۱۰۰ ریالی و یک سکه ی ۵۰ ریالی
یک سکه ی ۱۰۰ ریالی و سه سکه ی ۵۰ ریالی
و.....

۸

۴۵

۹



۱۰

امضاء:

نام و نام خانوادگی مصحح : مریم سادات آقاسینی

جمع بارم : ۲۰ شماره