









نام درس: ریاضی  
نام دبیر: شریعت ظهیری

جمهوری اسلامی ایران  
اداره ی کل آموزش و پرورش شهر تهران  
اداره ی آموزش و پرورش شهر تهران منطقه ۲ تهران  
دبستان غیردولتی پسرانه سرای دانش واحد مرزداران  
(ازشیابی توصیفی نیمسال اول سال تحصیلی ۱۴۰۱-۱۴۰۰)

نام و نام خانوادگی: .....  
مقطع و رشته: سوم  
تعداد صفحه سؤال: ۲ صفحه

ردیف	سؤالات	نمره
۱	فروشنده ای هرشاخه گل را ۴۵۰ ریال می خرد و ۶۰۰ ریال می فروشد؛ (الف) او با فروش هر شاخه گل ، چند ریال سود می کند؟ (ب) او چند شاخه گل باید بفروشد تا با سود آن ها بتواند یک شاخه گل بخرد؟	
۲	محمد ساعت ۶ صبح از تهران به سمت مشهد حرکت کرد . او بعد از ۹ ساعت به مشهد رسید . او چه زمانی به مشهد رسید ؟ ( به دو صورت بیان کنید).	
۳	عددی چهار رقمی بنویسید که یکانش ۲ ، دهگانش ۴ ، صدگانش ۰ و هزارگان آن ۳ تا کمتر از دهگانش باشد . (الف) به عدد : (ب) به حروف : (ج) به صورت باز شده: (د) به صورت تقریبی ( با حذف یکان و دهگان )	
۴	عدد های داخل مربع به کدام عدد داخل دایره نزدیک تر است؟ 	

	<p>کامل کنید.</p> <p>الف) ۵ کیلومتر و ۲۰۰ متر همان ..... متر است.</p> <p>ب) ۴۱۵ سانتی متر همان ..... متر و ..... سانتی متر است.</p> <p>ج) ۲۰۰۰ گرم همان ..... کیلوگرم است.</p> <p>د) ۶ کیلوگرم و ۲۰۰ گرم همان ..... گرم است.</p>	۵
	<p>به اندازه ی کسر داده شده شکل ها را رنگ کنید.</p> <div style="display: flex; justify-content: space-around; align-items: center;"> <div style="text-align: center;"> <math>\frac{2}{3}</math>  </div> <div style="text-align: center;"> <math>\frac{1}{2}</math>  </div> <div style="text-align: center;"> <math>\frac{1}{6}</math>  </div> </div>	(۶)
	<p>مقایسه کنید.</p> <div style="display: flex; justify-content: space-around; align-items: center;"> <div style="text-align: center;"> <math>\frac{1}{3}</math>  <math>\frac{1}{2}</math> </div> <div style="text-align: center;"> <math>\frac{26}{3}</math>  <math>\frac{3}{6}</math> </div> <div style="text-align: center;"> <math>\frac{12}{3}</math>  <math>\frac{2}{4}</math> </div> </div>	(۷)
	<p>کسرهای زیر را روی محور نشان دهید.</p> <div style="display: flex; align-items: center;"> <div style="margin-right: 20px;">  </div> <div> <p>الف) <math>\frac{12}{3}</math> واحد بعد از ۳</p> <p>ب) <math>\frac{13}{3}</math> واحد مانده به ۴</p> </div> </div>	(۸)
	<p>علی ۳ بسته ی ۴ تایی مداد زرد و ۵ بسته ی ۴ تایی مداد قرمز خرید . او چند مداد زرد و قرمز خریده است ؟</p>	(۹)
	<p>حاصل ضرب های زیر را با روش مشخص شده ، به دست آورید.</p> <p>الف) <math>4 \times 2 =</math> ( با کمک شکل )</p> <p>ب) <math>5 \times 3 =</math> ( با استفاده از محور )</p> <p>ج) <math>3 \times 7 =</math> ( با نوشتن جمع )</p>	(۱۰)
	<p>پیروز باشید عزیزانم</p> <p>ظهیری</p>	

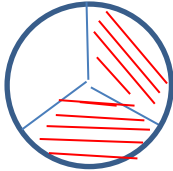
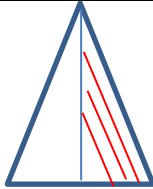

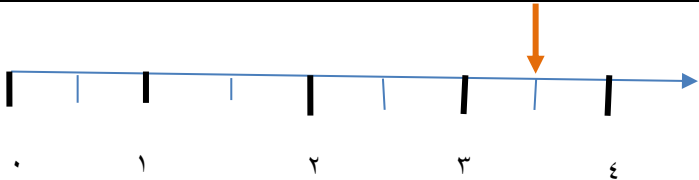
نام درس: ریاضی

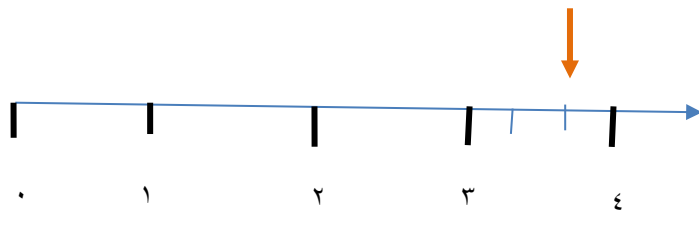
نام دبیره: شریعت ظهیری

اداره ی کل آموزش و پرورش شهر تهران  
اداره ی آموزش و پرورش شهر تهران منطقه ۲ تهران  
دبستان غیر دولتی پسرانه سرای دانش واحد مرزداران



کلید (ارزشیابی توصیفی نوبت اول سال تمصیلی ۱۴۰۱-۱۴۰۰)


ردیف	راهنمای تصحیح	محل مهر یا امضاء مدیر
۱	الف) ۱۵۰ تومان ب) $۱۵۰ + ۱۵۰ + ۱۵۰ = ۴۵۰$ سه شاخه گل	
۲	$۹ + ۶ = ۱۵$ ساعت ۱۵ یا ۳ بعد از ظهر	
۳	الف) ۱۰۴۲ ب) هزار و چهل و دو ج) $۱۰۴۲ = ۱۰۰۰ + ۴۰ + ۲$ د) ۱۰۰۰	
۴	$۸۶۹۰ \rightarrow 9000$ $2250 \rightarrow 2000$	
۵	الف) ۵۲۰۰ متر ب) ۴ متر و ۱۵ سانتی متر ج) ۲ کیلوگرم د) ۶۲۰۰ گرم	
۶	  	
۷	$\frac{1}{3} < \frac{1}{2}$ $\frac{26}{3} < \frac{3}{6}$ $\frac{12}{3} = \frac{2}{4}$	
۸	 (الف)	



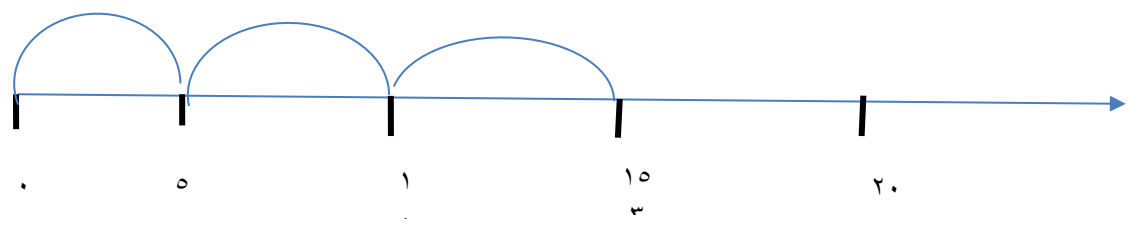
(ب)

$$(3 \times 4) + (5 \times 4) = 12 + 20 = 32$$

٩



(الف)



(ب)

١٠

$$7 + 7 + 7 = 21 \text{ (ج)}$$