


نام و نام خانوادگی:
مقطع: سوم دبستان
تعداد صفحه: سؤال: ۳۰ صفحه

جمهوری اسلامی ایران
اداره ی کل آموزش و پرورش شهر تهران
اداره ی آموزش و پرورش شهر تهران منطقه ۵ تهران
دبستان غیردولتی سرای دانش واحد پرسش
آزمون پایان ترم نوبت اول سال تحصیلی ۱۴۰۳-۱۴۰۲

نام درس: ریاضی
نام دبیر: خانم اسفندیاری
تاریخ امتحان: ۱۴۰۲/۱۰/۰۹
ساعت امتحان: ۸:۰۰ صبح
مدت امتحان: ۷۵ دقیقه

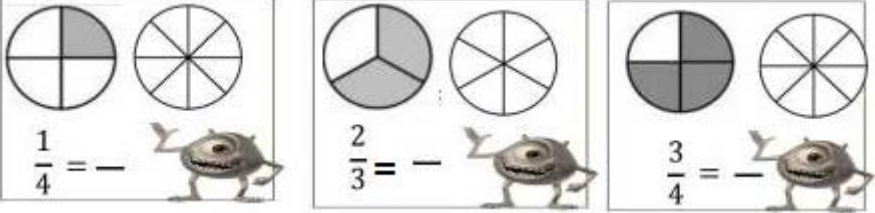
محل مهر و امضا: مدیر		نمره:								
		نام دبیر:								
		تاریخ و امضاء:								
بارم	سؤالات	ردیف								
	<p>جاهای خالی را با اعداد مناسب کامل کنید :</p>	۱								
	<p>زمان های خواسته شده را با کشیدن عقربه ها بر روی ساعت نشان دهید :</p>	۲								
	<p>عدد زیر را در جدول ارزش مکانی روبه رو وارد کنید و به سوالات زیر پاسخ دهید :</p> <p>عدد ۳ یکی، ۴ ده تایی، صفر صد تایی و ۵ هزار تایی</p> <p>این عدد را به حروف بنویسید</p> <p>عدد ۴ در کدام مرتبه قرار دارد؟</p> <table border="1" style="margin-left: auto; margin-right: auto;"> <tr> <td>یکان</td> <td>دهگان</td> <td>صدگان</td> <td>هزارگان</td> </tr> <tr> <td> </td> <td> </td> <td> </td> <td> </td> </tr> </table>	یکان	دهگان	صدگان	هزارگان					۳
یکان	دهگان	صدگان	هزارگان							
	<p>عدد داخل دایره به کدام عدد در مربع ها نزدیک تر است ؟</p>	۴								
	<p>عبارت زیر چه کسری را نشان میدهد ؟</p> <p>اندازه ی یک دانه لوبیای ۸ میلی متریسانتی متر است.</p>	۵								

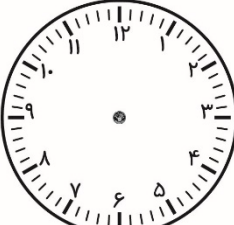
	<p>جاهای خالی را کامل کنید :</p> <p>الف_ ۳۲۵ سانتی مترمتر وسانتی متر است.</p> <p>ب_ ۳ کیلومتر و ۲۰۰ مترمتر است.</p> <p>پ_ ۵۶۰۰ گرمکیلوگرم وگرم است.</p> <p>ت_سانتی متر یعنی ۲متر و ۲۷ سانتی متر است.</p> <p>ج_ عددیعنی ۴ هزارتایی و ۲ یکی.</p> <p>د_ ۲۰۰۰ ریال همانتومان است.</p>	۶
--	---	---

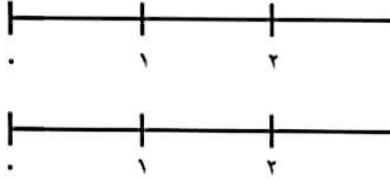
	<p>کسر مربوط به هر شکل را بنویسید :</p> 	۷
--	--	---

	<p>کسری را که هر شکل نشان میدهد بنویسید و به همان اندازه از مستطیل ها را رنگ کنید.</p> 	۸
--	---	---

	<p>مقایسه کنید :</p> <p>۲۴۰۰ ○ ۲۳۵۶ ۳۵۰ سانتی متر ○ ۲ متر و ۵۰ سانتی متر ۲۵۶۰ ریال ○ ۲۵۶ تومان</p> <p>۳۶۵۰ گرم ○ ۲ کیلوگرم و ۵۰ گرم $\frac{3}{8}$ ○ $\frac{6}{8}$</p>	۹
--	--	---

	<p>دانش آموز تلاشگرم با توجه به شکل های زیر تساوی کسرها را کامل کنید و سپس روی شکل نشان دهید :</p> 	۱۰
--	---	----

	<p>زمان ۱۸:۳۰ دقیقه را بر روی ساعت نشان دهید :</p> <p>چه کسری از یک ساعت به ساعت ۱۹ مانده است؟</p>	۱۱
---	--	----

	<p>$\frac{1}{4}$ واحد بعد از عدد ۱</p> <p>$\frac{2}{3}$ واحد</p>	۱۲
---	--	----

مغازه داری یک بسته بیسکویت را ۲۰۰ تومان می خرد و ۲۳۰ تومان میفروشد .

الف (سود هر بیسکویت را بدست آورید .

ب) ۵ بسته بیسکویت چقدر سود دارد ؟

ج) چند بسته بیسکویت بفروشد تا با سود آن یک بسته بخرد ؟

۱۳

یک دلار کشوری ۱۲۰۰ تومان شده است. ۴ دلار و ۵ دلار این کشور هر کدام چند تومان می شود ؟

۱۴

شب گذشته مهدی یک پیتزا خرید و با خود به خانه برد . او پیتزا را به ۳ قسمت مساوی تقسیم کرد و خودش و خواهرش زهرا هر کدام یک تکه پیتزا خوردند . سپس باقی مانده کیک را بین پدر و مادر خود تقسیم کرد . هر کدام چه کسری از پیتزا خوردند ؟

۱۵



