

نام و نام خانوادگی:

پایه: سوم

تعداد صفحه سؤال: ۲ صفحه

جمهوری اسلامی ایران

اداره ی کل آموزش و پرورش شهر تهران

اداره ی آموزش و پرورش شهر تهران منطقه ۴ تهران

دبستان غیردولتی دخترانه سرای دانش واحد **الغدیر**

ارزشیابی میان ترم اول سال تحصیلی ۱۴۰۱-۱۴۰۰



نام درس: ریاضی


نام دبیر: مهرناز باطنی

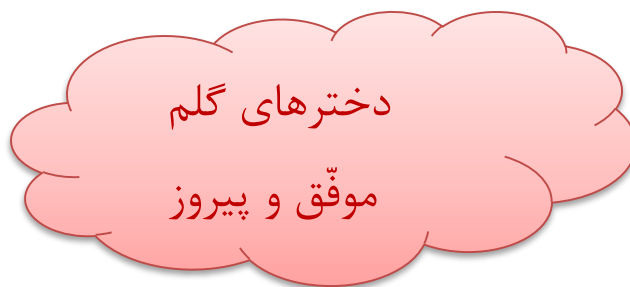
تاریخ امتحان: ۱۴۰۰/۰۹/۰۱

ساعت امتحان: ۹:۰۰

مدت امتحان: ۴۵ دقیقه

ردیف	سؤالات	نمره												
۲	<p>صیحیح و غلط بودن جملات زیر را مشخص کنید.</p> <p>الف) در عدد ۱۳۴۶، رقم ۶ بیشترین ارزش مکانی را دارد.</p> <p>ب) کوچکترین عدد سه رقمی، ۱۰۱ می باشد.</p>	۱												
۴	<p>جاهای خالی را در الگوهای عددی زیر، پر کنید.</p> <p>.....،،، ۱۰، ۱۶، ۲۳، (ب)</p> <p>.....،، ۹، ۱۸، (الف)</p>	۲												
۲	<p>پاسخ کوتاه دهید:</p> <p>الف) ۵ کیلومتر و ۴۰۰ متر چند متر می شود؟</p> <p>ب) ۱۷۰۰ گرم، چند کیلو گرم و چند گرم می شود؟</p>	۳												
۳	<p>معادل هر یک از ساعت های زیر را در جدول زیر قرار دهید.</p> <table border="1"><tr><td>زمان</td><td>۱۶</td><td>۲۲:۳۰</td><td></td></tr><tr><td>بعد از ظهر</td><td></td><td></td><td>پنج و</td></tr><tr><td>ر</td><td></td><td></td><td>ربع</td></tr></table>	زمان	۱۶	۲۲:۳۰		بعد از ظهر			پنج و	ر			ربع	۴
زمان	۱۶	۲۲:۳۰												
بعد از ظهر			پنج و											
ر			ربع											
۱	<p>کدام یک از شکل های زیر خط تقارن ندارد؟</p> 	۵												
۱	<p>قطاری ساعت ۵ صبح از تهران به سمت شیراز حرکت کرده و ۱۳ ساعت بعد به شیراز رسیده است، این قطار چه ساعتی به شیراز رسیده است؟</p> 	۶												

۳	به چند حالت می‌توان با سکه‌های ۱۰ و ۲۰ ریالی ۵۰ ریال درست کرد؟ (با رسم شکل)	۷
۱	<p>اعداد رو به رو را مقایسه کنید.</p> <p style="text-align: center;">۴۸۵  ۴۸۶۰</p>	۸
۲	<p>الف) عدد ۳۴۷۲ را در جدول ارزش مکانی قرار دهید.</p> <p>ب) عدد را به حروف بنویسید:</p>	۹
۲	<p>هر ۱۰۰ ریال کشور قندستان به اندازه‌ی ۱۳۰۰ لیره‌ی کشور شکرستان ارزش دارد. ۵۰ تومان قندستان ارزش بیشتری دارد یا ۷۰۰۰ لیره‌ی شکرستان؟ چرا؟ (با رسم جدول)</p>	۱۰





اداره ی کل آموزش و پرورش شهر تهران
 اداره ی آموزش و پرورش شهر تهران منطقه ۴ تهران
 دبستان غیر دولتی دخترانه سرای دانش واحد الغدیر
 کلید سؤالات میان ترم اول سال تحصیلی ۱۴۰۱-۱۴۰۰

نام درس: ریاضی
 نام دبیر: مهرناز باطنی
 تاریخ امتحان: ۱۴۰۰/۰۹/۰۱
 ساعت امتحان: ۹:۰۰ صبح
 مدت امتحان: ۴۵ دقیقه

ردیف	راهنمای تصحیح	محل مهر یا امضاء مدیر												
۱	الف) این جمله غلط می باشد. غ ب) این جمله غلط می باشد. غ													
۲	الف) اعداد ۹ تا ۹ تا اضافه می شوند. ب) به عدد اول ۶ تا اضافه شده، به عدد دوم ۷ تا، پس به عدد بعدی ۸ تا اضافه می شود و یکی یکی بالاتر می رود. پس: ۰، ۹، ۱۸، ۲۷، ۳۶، ۴۵													
۳	الف) ۵ کیلومتر برابر با ۵۰۰۰ متر است. پس ب) (هر ۱۰۰۰ گرم برابر با ۱ کیلوگرم است.) و چون $۱۷۰۰ = ۱۰۰۰ + ۷۰۰$ ؛ پس با ۱۰۰۰ گرم آن یک کیلوگرم تشکیل می شود و ۷۰۰ گرم آن باقی می ماند. الف) $۵۰۰۰ + ۴۰۰ = ۵۴۰۰$ متر													
۴	<table border="1"> <tr> <td>۱۷:۱۵</td> <td>۲۲:۳۰</td> <td>۱۶</td> <td>زمان</td> </tr> <tr> <td>پنج و</td> <td>۱۰:۳۰</td> <td>۴</td> <td>بعد از ظهر</td> </tr> <tr> <td>ربع</td> <td></td> <td></td> <td>ر</td> </tr> </table>	۱۷:۱۵	۲۲:۳۰	۱۶	زمان	پنج و	۱۰:۳۰	۴	بعد از ظهر	ربع			ر	
۱۷:۱۵	۲۲:۳۰	۱۶	زمان											
پنج و	۱۰:۳۰	۴	بعد از ظهر											
ربع			ر											
۵	شکلی که خط تقارن ندارد: 													
۶	$۵ + ۱۳ = ۱۸$ ساعت ۶ بعد از ظهر یا ۱۸ به شیراز رسیده است.													
۷	حالت اول $۱۰ + ۱۰ + ۱۰ + ۱۰ + ۱۰ = ۵۰$ حالت دوم $۲۰ + ۲۰ + ۱۰ = ۵۰$ حالت سوم $۲۰ + ۱۰ + ۱۰ + ۱۰ = ۵۰$													
۸	ابتدا تعداد رقم‌ها را شمارش می کنیم، چون تعداد رقم‌ها مساوی است، به سراغ مقایسه‌ی مرتبه‌ها (به ترتیب از بیشترین مرتبه) می رویم. $۴۸۵۰ < ۴۸۶۰$													
۹	الف) سه هزار و چهارصد و هفتاد و دو ب) هزارگان صدگان دهگان یکان ۳ ۴ ۷ ۲													

ابتدا ریال را به تومان تبدیل می‌کنیم، سپس واحدها (تومان و لیره) را در جدول نظام‌دار قرار می‌دهیم.

تومان	۱۰	۲۰	۳۰	۴۰	۵۰
لیره	۱۳۰۰	۲۶۰۰	۳۹۰۰	۵۲۰۰	۶۵۰۰

در آخر چون ۵۰ تومان برابر با ۶۵۰۰ لیره است، با ۷۰۰۰ مقایسه می‌شود.
پس ۷۰۰۰ لیره بیشتر است؛ چون ارزش بیشتری نسبت به ۶۵۰۰ لیره دارد.

$$۶۰۰۰ < ۷۰۰۰$$

۱۰