

نام و نام خانوادگی:

مقطع و رشته:

نام پدر:

جمهوری اسلامی ایران

دبستان غیردولتی پسرانه سرای دانش واحد شریعتی

آزمون مداد کاغذی میانه دوم سال تحصیلی ۱۴۰۱-۱۴۰۰

نام درس: ریاضی

نام دبیر: خانم فتحی

تاریخ امتحان: ۲۷ / ۱ / ۱۴۰۱

ساعت امتحان: : : **صبح / عصر**

سوالات

۴

الگوهای زیر را ادامه دهید.

۱

تفریق‌های زیر را با کشیدن شکل حل کنید.

$$۶ - ۴ = \dots\dots\dots$$

$$۷ - ۲ =$$

۲

جمع‌های مختلف عدد را بنویس.

۸					
۹					

۳

در جاهای خالی عدد یا حروف مناسب بنویس.

ده تایی	یکی
هفتاد و هشت	

ده تایی	یکی
۱	۹
چهل و شش	

ده تایی	یکی
چهل و شش	


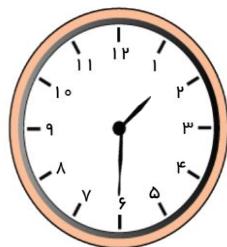
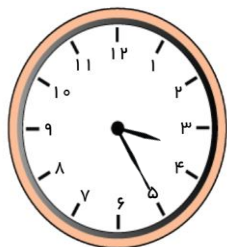
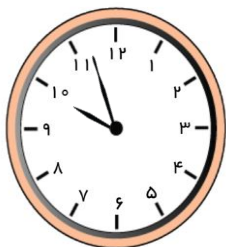
۴

عدد‌های زیر را به حروف بنویس.

..... : ۴۶ : ۱۸ : ۳۰ : ۲۳
..... : ۹۷ : ۶۶ : ۱۴ : ۷۸

۵

به ساعت ها نگاه کن و جاهای خالی را کامل کن.



۶

کمی به

ساعت

زمان بین

زمان بین

ساعت مانده است

از گذشته است

ساعت و است

ساعت و است

۱۰ تا پرنده روی زمین دانه می خوردند. ۴ تا از آن ها پرواز کردند و رفتند. چند پرنده دانه می خوردند؟

۷

۲ ماهی قرمز در تنگ بود. ۳ ماهی به آن اضافه می کنیم. حالا چند ماهی در آب هستند؟

۸

جواب جمع و تفریق های زیر را با انگشتان پیدا کن.

$$70 - 30 = \dots\dots$$

$$60 + 30 = \dots\dots$$

$$20 + 10 = \dots\dots$$

۹

$$90 - 50 = \dots\dots$$

$$80 - 10 = \dots\dots$$

$$20 + 30 = \dots\dots$$

با توجه به الگو، عددهای نوشته نشده را بنویسید.

0- 2- 4- - - - - -

0- 4- 8- - - - - -

30- 35- 40- 45- - - - -

۱۰

کامل کنید.

الف) ۲۵ می شود ده تایی و یکی (ب) ۳ ده تایی و ۵ یکی می شود

ج) ۱۷ می شود ده تایی و یکی (د) ۸ ده تایی و ۰ یکی می شود

ذ) ۷۱ می شود ده تایی و یکی (ر) ۱ ده تایی و ۶ یکی می شود

۱۱