

نام و نام خانوادگی: .....  
پایه: دوم  
نام پدر: .....  
شماره داوطلب: .....  
تعداد صفحه سؤال: ۳ صفحه

جمهوری اسلامی ایران  
اداره ی کل آموزش و پرورش و پرورش شهر تهران  
اداره ی آموزش و پرورش شهر تهران منطقه ۵ تهران  
پیش دبستان و دبستان غیردولتی دخترانه **نیریش**  
ارزشیابی عملکردی نوبت دوم سال تمصیلی ۱۴۰۰-۱۴۰۱

نام درس: علوم  
نام دبیر: خانم حدیث طهماسبی  
تاریخ امتحان: ۱۴۰۱/۲/۲۴  
ساعت امتحان: ۱۵: ۹ صبح / عصر  
مدت امتحان: ۶۰ دقیقه

سؤالات	نوع
<p>در جاهای خالی کلمه مناسب قرار دهید.</p> <p>الف) ما با شنیدن صدای ..... احساس خوشایندی داریم.</p> <p>ب) برای دیدن اجسام ، ..... لازم است.</p> <p>ج) از دما سنج برای اندازه گیری ..... و ..... استفاده می کنند.</p> <p>د) به همه چیزهایی که در اطراف ما است ، ..... می گویند.</p> <p>ه) وسیله ای که جهت وزش باد را تعیین می کند ، ..... می گویند.</p> <p>و) ..... و ..... و ..... و ..... و ..... و .....</p> <p>..... از دوره های مختلف زندگی هستند.</p> <p>ی) حرکت زمین به دور خود ..... به وجود می آورد و ..... طول می کشد.</p> <p>خ) ..... و ..... برای حرکت نیاز به سوخت ندارند.</p> <p>ط) ..... و ..... قسمت های اصلی دانه هستند.</p> <p>ظ) گیاهان از طریق ..... و ..... به وجود می آیند.</p>	۱
<p>کلمات زیر را تعریف کنید:</p> <p>مشاهده : .....</p> <p>چشمه ی نور : .....</p> <p>سوخت : .....</p> <p>رشد: .....</p> <p>ماده ی جامد : .....</p> <p>صدا : .....</p> <p>بازیافت : .....</p>	۲

تفاوت ها و شباهت های دانه ها را بنویسد. ( هر کدام ۳ مورد )

۳

انسان از باد چه استفاده هایی می کند؟ ..... / ..... / .....  
انسان از آب چه استفاده هایی می کند؟ ..... / ..... / .....

۴

چرخه ی زندگی قورباغه را نام ببرید.

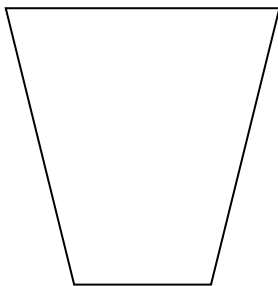
۵

آیا مواد تغییر حالت می دهند؟ چگونه؟ ( مثال بزنید)

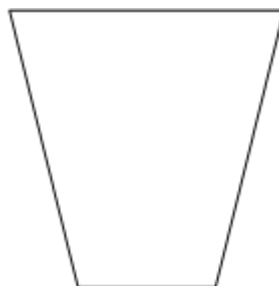
۶

زباله های زیر را در سطل مربوط به خودش قرار بده.

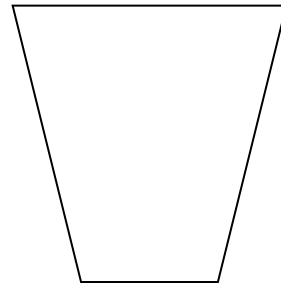
روزنامه باطله ، لیوان یک بار مصرف ، پوست میوه و آجیل ، جعبه دستمال کاغذی ، بطری آب معدنی ، تفاله ی چای



کاغذ



زباله خشک



زباله تر

۷

کدام یک از موارد زیر ، باعث آلودگی هوا است؟ ( بیش از یک مورد را می توان علامت زد)

کاشتن درخت  ، دود کارخانه ها  ، فاضلاب کارخانه ها  ، ترافیک ماشین ها  ، سوزاندن زباله ها   
 سم کشاورزی

۸

در پشت کدام یک سایه تشکیل نمی شود؟

کتاب  شیشه  کیف  انسان

۹

جملات زیر را بخوان و جمله های درست را مشخص کن.

همه ی ما به یک اندازه رشد می کنیم.

لاک پشت ها حیواناتی تخم گذار هستند.

اگر نور خورشید به محلی مستقیم بتابد ، آن جا گرمتر می شود.

دانه درون گل قرار دارد.

۱۰

مرحل تهیه ی نان را به طور خلاصه بنویسید.

۱۱



اداره ی کل آموزش و پرورش شهر تهران  
اداره ی آموزش و پرورش شهر تهران منطقه ۵ تهران

پیش دبستان و دبستان غیر دولتی دخترانه **نیپستر**  
کلیدسؤالات ارزشیابی عملکردی نوبت دومسال تمصیلی ۱۴۰۱-۱۴۰۰

نام درس: علوم  
نام دبیر: مدیث طهماسبی  
تاریخ امتحان: ۱۴۰۱/۲ / ۲۴  
ساعت امتحان: ۹:۱۵ صبح / عصر  
مدت امتحان: ۶۰ دقیقه

ردیف	راهنمای تصحیح محل مهر یا امضاء مدیر
۱	الف) آواز پرندگان (ب) نور (ج) گرمی - سردی (د) ماده (ه) بادنما (و) جنینی - نوزادی - کودکی - نوجوانی - جوانی - میانسالی - کهنسالی ی) شب و روز - ۲۴ ساعت ط) پوسته - گیاهک - اندوخته غذایی ظ) پراکنده شدن دانه - قلمه زدن
۲	مشاهده : استفاده از حواس پنجگانه چشمه ی نور : هر چیزی که از خود نور می دهد. سوخت : ماده ای که می سوزد و گرما تولید می کند. رشد: تغییرات در بدن و توانایی ها ماده ی جامد : ماده ای که شکل ثابت دارد، شکل ظرف را نمی گیرد و جا می گیرد. صدا : بر اثر لرزش اجسام صدا تولید می شود. بازیافت : استفاده مجدد از دور ریختنی ها
۳	تفاوت دانه ها : مزه ، رنگ ، خوراکی بودن یا نبودن شباهت دانه ها : قسمت های تشکیل دهنده ،
۴	استفاده از باد: تولید برق ، حرکت قایق ، پراکنده کردن دانه ها استفاده از آب: حمل و نقل، کشاورزی ، تفریح
۵	تخم ، نوزاد قورباغه با دست و پا و دم، بزرگتر که می شود دست و پا بزرگ شده و دم کوتاه می شود ، به مرور جثه ی قورباغه بزرگ می شود و در خشکی می تواند زندگی کند.
۶	بله .با گرما دادن جامد به مایع تبدیل می شود مانند آب شدن کره و بستنی با سرما دادن مایع ، جامد می شود مانند بستن ژله، یخ زدن آب
۷	روزنامه باطله ( کاغذ ) لیوان یک بار مصرف ، بطری آب معدنی ، جعبه دستمال کاغذی (زباله خشک) پوست میوه و آجیل ، تفاله ی چای (زباله تر)
۸	دود کارخانه ها ترافیک ماشین ها سوزاندن زباله ها
۹	شیشه
۱۰	لاک پشت ها حیواناتی تخم گذار هستند. اگر نور خورشید به محلی مستقیم بتابد ، آن جا گرمتر می شود
۱۱	کاشت گندم، آبیاری و برداشت گندم، آسیاب گندم، خمیر کردن و پختن نان
نام و نام خانوادگی مصحح : امضاء:	

