

نام و نام خانوادگی:
 مقطع و رشته: پایه اول
 نام پدر:
 شماره داوطلب:
 تعداد صفحه سؤال: ۳ صفحه

جمهوری اسلامی ایران
 اداره ی کل آموزش و پرورش شهر تهران
 اداره ی آموزش و پرورش شهر تهران منطقه ۵ تهران
 پیش دبستان و دبستان دخترانه پرسش
 آزمون پایان ترم نوبت اول سال تحصیلی ۱۴۰۱-۱۴۰۰


نام درس: ریاضی
 نام دبیر: صبا تشهیرجمال
 تاریخ امتحان: / / ۱۴۰۰
 ساعت امتحان: ۱۵: ۹ صبح / عصر
 مدت امتحان: ۴۵ دقیقه

نام دبیر: _____ تاریخ و امضاء: _____
 محل مهر و امضاء مدیر

ردیف	سؤالات	نمره
------	--------	------

الف- سومین شکل از سمت راست را رنگ بزن

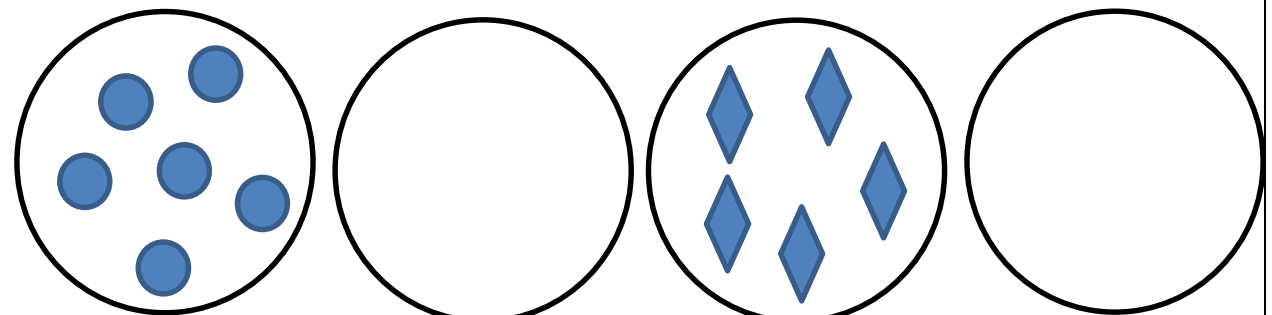
ب- در سمت چپ مربع یک گردی بکش.



جدول شگفت انگیز را کامل کن.

۸	۲	۶	۹	۳	۵	۱	۴	۷
۴	۱	۷	۶	۸			۵	
	۵	۳	۱	۷	۴	۸	۲	۶
۷	۹	۴	۸	۲	۱	۶	۳	۵
۵	۶	۸		۴	۷		۹	۱
۱		۲	۵	۶	۹	۴	۷	۸
۳	۴	۱	۲	۵	۸	۷	۶	۹
۲	۸		۷	۹	۶	۳	۱	۴
۶	۷		۴	۱		۵	۸	

عدد هر دسته را بنویس یا به تعداد عدد شکل بکش.



□ ۸ □ ۹

قبل و بعد اعداد را جدول های زیر را کامل کن.

		۹	
--	--	---	--

	۳	
--	---	--

			۶
--	--	--	---

۴

در جاهای خالی عدد مناسب بنویس.

۵
۴ + ...


۷
۳ + ...

۹
۳ + ...

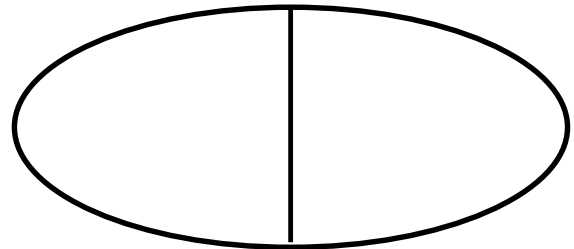
۸
۲ + ...

۵

برای شکل یک جمع بنویس و برای جمع یک شکل بکش.



.... + =



۶ + ۴ =

۶

جمع هایی که جواب آنها مساوی است با خط کش به هم وصل کن.

$۱ + ۷ = \dots$

$۳ + ۶ = \dots$

$۵ + ۵ = \dots$

$۳ + ۷ = \dots$

$۳ + ۵ = \dots$

$۱ + ۸ = \dots$

۷

بین دو عدد علامت $>$ $=$ $<$ قرار بده یا در طرف دیگر علامت عدد بنویس.

$7 \square 4+4$

$9 \square 5+3$

$6 \square 5+1$

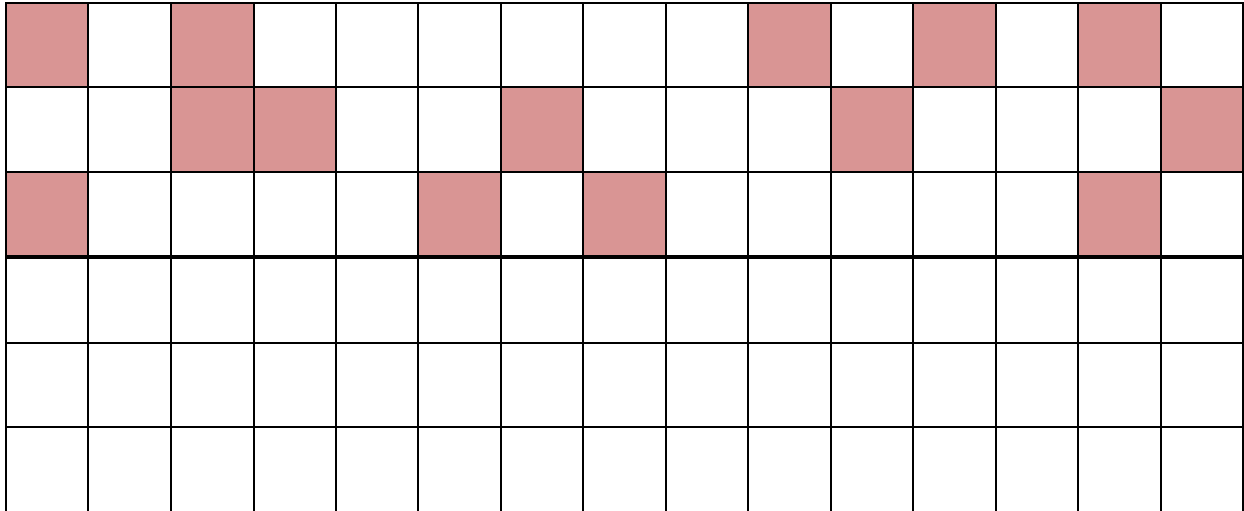
$3+3 < \square$

$2+5 = \square$

$8 > \square$

۸

با توجه به خط تقارن نیمه ی دیگر شکل را کامل کن.



۹



اداره ی کل آموزش و پرورش شهر تهران
 اداره ی آموزش و پرورش شهر تهران منطقه ۵ تهران
 پیش دبستان و دبستان غیردولتی دخترانه پرسش
کلید سؤالات پایان ترم نوبت اول سال تمصیلی ۱۴۰۱-۱۴۰۰

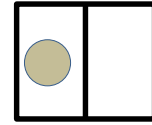
نام درس: ریاضی
 نام دبیر: صبا تشهرجمالی
 تاریخ امتحان: / / ۱۴۰۰
 ساعت امتحان: ۹:۱۵ صبح / عصر
 مدت امتحان: ۴۵ دقیقه

محل مهر یا امضاء مدیر

راهنمای تصحیح

ردیف

الف-

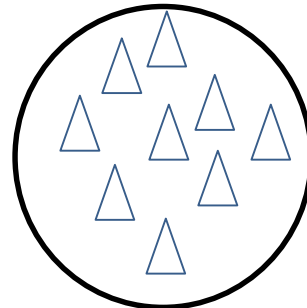



۱

جدول شگفت انگیز را کامل کن.

۸	۲	۶	۹	۳	۵	۱	۴	۷
۴	۱	۷	۶	۸	۲	۹	۵	۳
۹	۵	۳	۱	۷	۴	۸	۲	۶
۷	۹	۴	۸	۲	۱	۶	۳	۵
۵	۶	۸	۳	۴	۷	۲	۹	۱
۱	۳	۲	۵	۶	۹	۴	۷	۸
۳	۴	۱	۲	۵	۸	۷	۶	۹
۲	۸	۵	۷	۹	۶	۳	۱	۴
۶	۷	۹	۴	۱	۳	۵	۸	۲

۲



۳

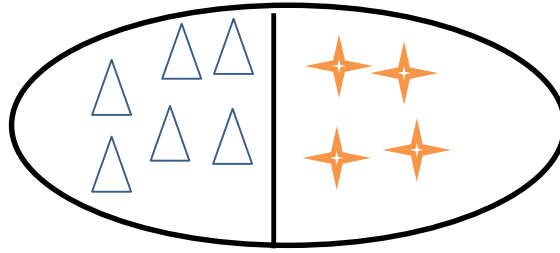
۲ ۳ ۴

۷ ۸ ۹ ۱۰

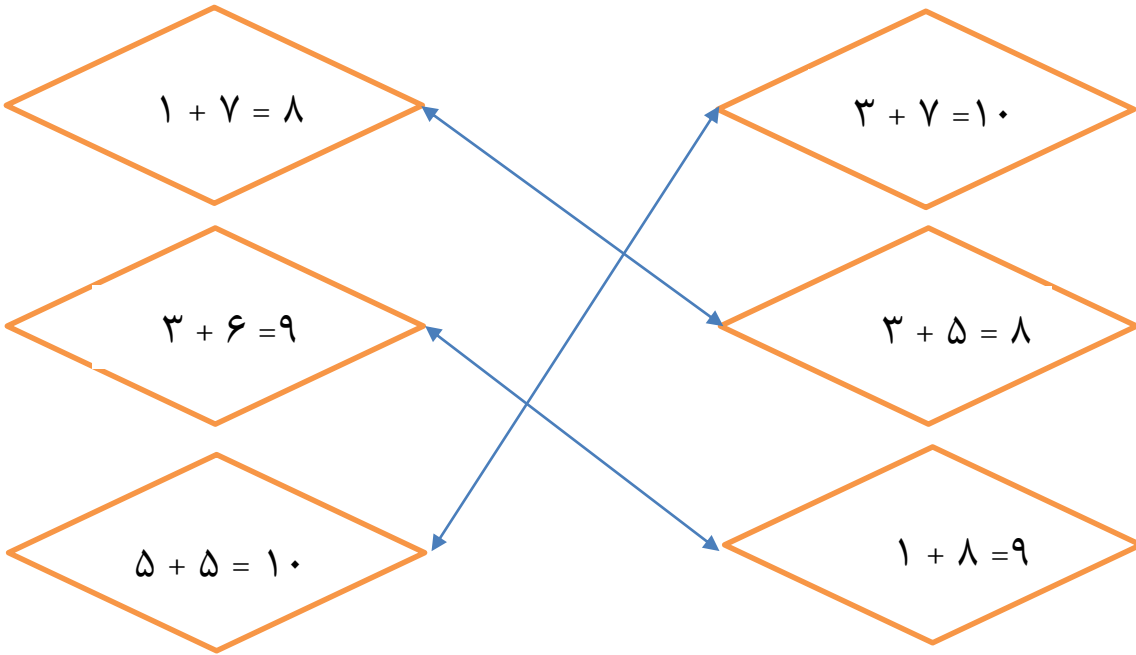
۳ ۴ ۵ ۶

۴

$۴ + ۵ = ۹$



جمع هایی که جواب آنها مساوی است با خط کش به هم وصل کن.



$۷ < ۴ + ۴$

$۹ > ۵ + ۳$

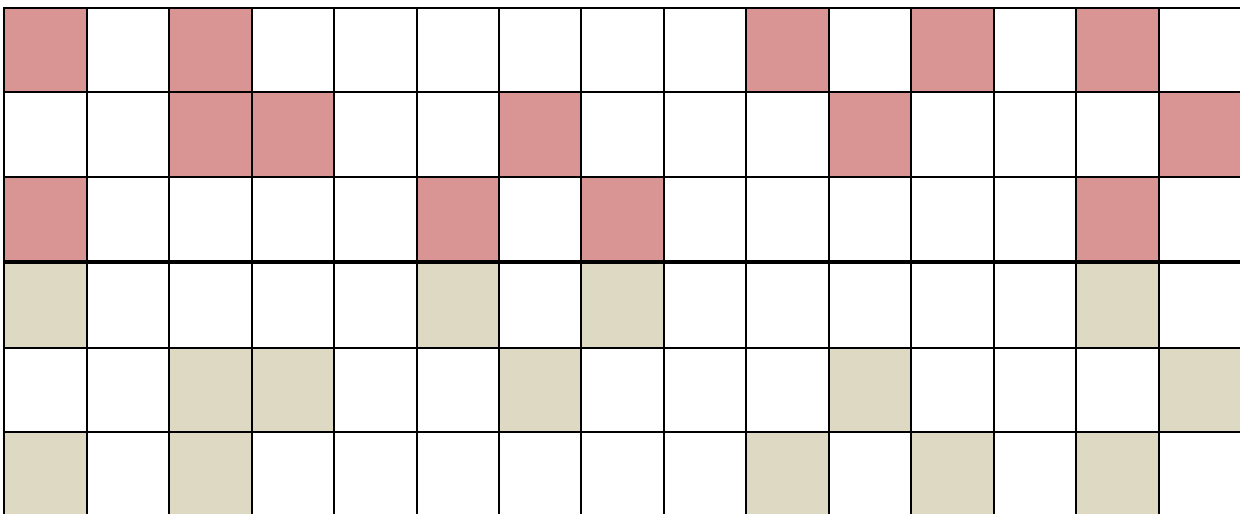
$۶ = ۵ + ۱$

$۲ + ۵ = ۷$

$۳ + ۳ < ۸$

$۸ > ۳$

با توجه به خط تقارن نیمه ی دیگر شکل را کامل کن.



امضاء:

نام و نام خانوادگی مصحح :

