



اداره ی کل آموزش و پرورش شهر تهران
 اداره ی آموزش و پرورش شهر تهران منطقه تهران
 دبیرستان غیر دولتی دخترانه سرای دانش واحد
کلید سؤالات پایان ترم نوبت دوم سال تحصیلی ۱۴۰۱-۱۴۰۰

نام درس: ریاضی.....
 نام دبیر: اسفندیاری.....
 تاریخ امتحان: / / ۱۴۰۱
 ساعت امتحان: عصر / صبح
 مدت امتحان: دقیقه

ردیف	راهنمای تصحیح	محل مهر یا امضاء مدیر								
۱										
۲										
۳	<p>عدد ۳ یکی ۴۰ ده تایی، صفر صدتایی و ۵ هزارتایی</p> <p>پنج هزار و چهل و سه در مرتبه دهگان</p> <table border="1"> <tr> <td>یکان</td> <td>دهگان</td> <td>صدگان</td> <td>هزارگان</td> </tr> <tr> <td>3</td> <td>4</td> <td>0</td> <td>5</td> </tr> </table> <p>- عدد ۴ در کدام مرتبه قرار دارد ؟</p>	یکان	دهگان	صدگان	هزارگان	3	4	0	5	
یکان	دهگان	صدگان	هزارگان							
3	4	0	5							
۴										
۵	<p>اندازه ی یک دانه لوبیای ۸ میلی متری $\frac{8}{10}$ سانتی متر است.</p>									
۶	<p>الف_ 325 سانتی متر3.....متر و25.....سانتی متر است. ب_ 3 کیلومتر و 200 متر3200.....متر است. پ_ 5600 گرم5.....کیلوگرم و600.....گرم است. ت_227.....سانتی متر یعنی 2متر و 27 سانتی متر است. ج_ عدد.....4002.....یعنی 4 هزارتایی و 2 یکی. د_ 2000 ریال همان200.....تومان است.</p>									



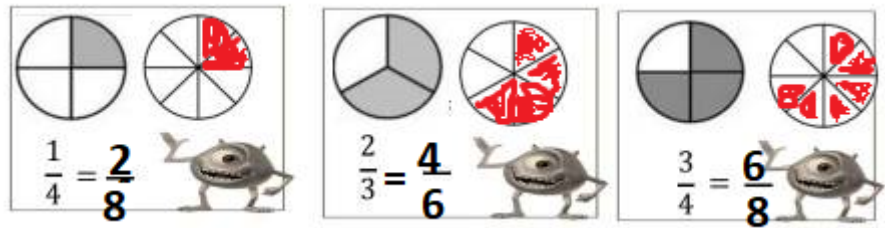
۷



۸

۲۴۰۱ < ۲۳۵۶ ۲۵ متر < ۲ متر و ۵۰ سانتی متر ۲۵۶۰ ریال = ۲۵۶ تومن
 ۳۶۵۰ گرم < ۲ کیلوگرم و ۵۰ گرم ۱۰۰۲ > ۹۹۹ $\frac{3}{8} < \frac{6}{8}$

۹

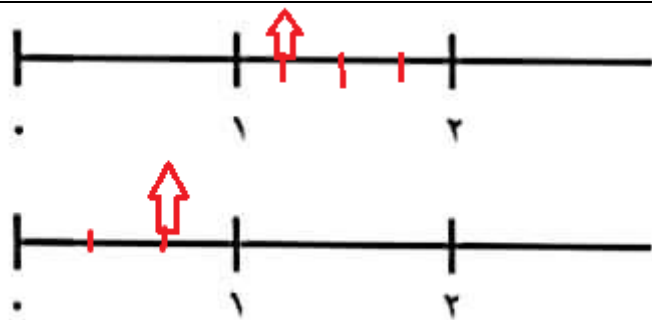


۱۰



چه کسری از یک ساعت به ساعت ۱۹ مانده است؟ $\frac{1}{2}$

۱۱



۱۲

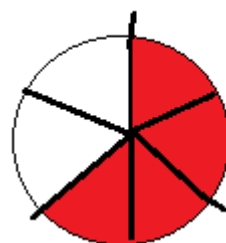
الف) $۲۳۰ - ۲۰۰ = ۳۰$
 ب) ۱۵۰ تومن
 ج) ۷ بسته بیسکویت

۱۳

تعداد	1	2	3	4	5	6	7	8	9	10
سود	30	60	90	120	15	18	21	24	27	30

دلار	1	2	3	4	5
تومان	1200	2400	3600	4800	6000

۱۴



مهدی و خواهرش هر کدام: $\frac{2}{6}$

پدر و مادرش هر کدام: $\frac{1}{6}$

۱۵

