

نام و نام خانوادگی:

مقطع: دوم

جمهوری اسلامی ایران

اداره ی کل آموزش و پرورش شهر تهران
اداره ی آموزش و پرورش شهر تهران منطقه ۷ تهران
دبستان غیردولتی سرای دانش واحد شریعتی
آزمون نوبت اول سال تمصیلی ۱۴۰۳ - ۱۴۰۲

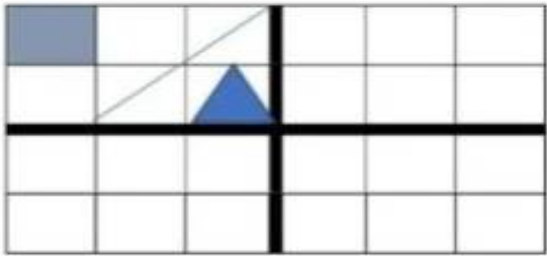
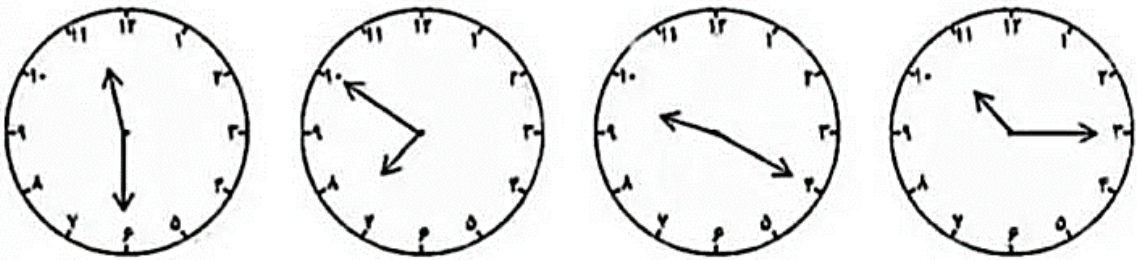
نام درس: ریاضی

نام دبیر: پریسا بهرامی

تاریخ امتحان: ۱۸ / ۱۰ / ۱۴۰۲

ساعت امتحان: ۰۰ : ۰۸ صبح / عصر

مدت امتحان: ۴۵ دقیقه

ردیف	سؤالات
۱	<p>- تمام جمع‌هایی را که جواب آن‌ها برابر ۵ می‌شود، به صورت نظام‌دار بنویس.</p> <p>.....</p> <p>.....</p>
۲	<p>- پسر دلبرم همه‌ی عددهای دورقمی که رقم یکانش ۳ و ۵ و رقم دهگان‌ش ۸ و ۷ و ۲ باشد را بنویس. (خوشه‌ای)</p>
۳	<p>- پسر عزیزم کامل کن.</p> 
۴	<p>- آقای محترم کلاس دومی الگوهای زیر را ادامه بده.</p> <p>..... - - ۱۰ - ۷ - ۵ - ۴</p> <p>..... - - ۱۳ - ۸ - ۳</p>
۵	<p>- زمانی که هر ساعت نشان می‌دهد بنویس.</p>  <p>.....</p>

- جواب جمع و تفریق زیر را به صورت تقریبی بنویس.

$$\begin{array}{r} 36 \\ + 22 \\ \hline \end{array} \quad \begin{array}{l} \longrightarrow \\ \longrightarrow \end{array} \quad \begin{array}{r} \dots\dots\dots \\ + \dots\dots\dots \\ \hline \end{array}$$

$$\begin{array}{r} 52 \\ - 25 \\ \hline \end{array} \quad \begin{array}{l} \longrightarrow \\ \longrightarrow \end{array} \quad \begin{array}{r} \dots\dots\dots \\ - \dots\dots\dots \\ \hline \end{array}$$

۶

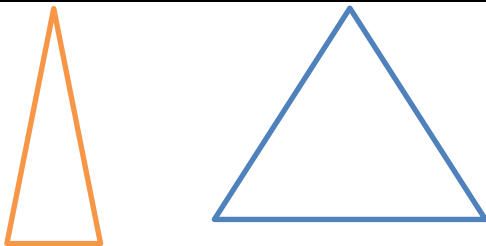
- آقای محترم جمع و تفریق‌های زیر را با روش فرایندی انجام بده

$$\begin{array}{r} 20 \\ + 29 \\ \hline \end{array}$$

$$\begin{array}{r} 46 \\ - 18 \\ \hline \end{array}$$

۷

- عزیزم شباهت و تفاوت دو شکل زیر را بنویس.






شباهت :

تفاوت :

۸

- زمان‌های زیر را روی هر ساعت نشان بده.

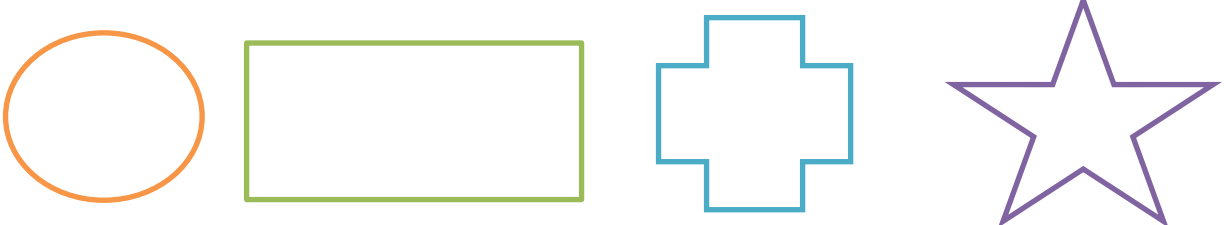
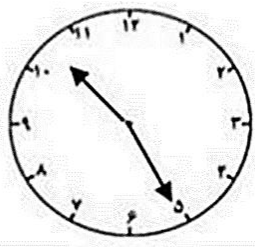


نیم ساعت مانده به ۶

یک ربع مانده به ۱۲

یک ربع بعد از ۸

۹

	<p>- شکل‌ها را با دو خط به ۴ قسمت مساوی تقسیم کن.</p> 	۱۰
	<p>- زمان ساعت زیر را به روش عددی و نوشتاری بنویس.</p>  <p>.....</p> <p>.....</p>	۱۱
	<p>- نادر و نیما به قنادی رفتند. نادر ۳۲ شیرینی خامه‌ای و نیما ۴۵ شیرینی دانمارکی انتخاب کردند. نادر و نیما روی هم چند شیرینی انتخاب کردند؟ (فرایندی)</p>	۱۲
	<p>- پسر توانمندم در شمارش ۷ تا ۷ تا دو عدد بعد از ۴۲ چند است؟</p>	۱۳

