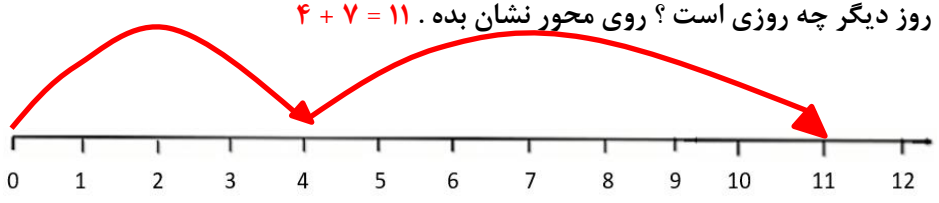
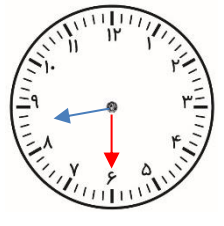


نام و نام خانوادگی:
پایه: دبستان
تعداد صفحه سؤال:

جمهوری اسلامی ایران
اداره ی کل آموزش و پرورش شهر تهران
اداره ی آموزش و پرورش شهر تهران منطقه ۲ تهران
دبستان غیردولتی پسرانه سرای دانش واحد سعادت آباد
آزمون ترم اول سال تحصیلی ۱۴۰۲ - ۱۴۰۱

نام درس:
نام دبیر:
تاریخ امتحان: ۱۴۰۱/۱۰/۱۴
ساعت امتحان:
مدت امتحان:

با آرزوی موفقیت برای پسران پر تلاش

ردیف	سؤالات
۱	<p>به سوالات زیر پاسخ دهید</p> <p>با کارت اعداد ۵ و ۲ چند عدد ۲ رقمی می توان ساخت ؟ همه ی آن ها را بنویس . کارت اعداد یعنی تکرار اعداد مجاز نیست</p> <p>۲۵ - ۵۲</p> <p>با اعداد ۴ و ۸ چند عدد ۲ رقمی می توان ساخت ؟ همه ی آن ها را بنویس . اعداد یعنی تکرار مجاز است ۴۸ - ۸۴ - ۴۴ - ۸۸</p>
۲	<p>الگوی زیر را ادامه دهید .</p> <p>الگو ۳ تا ۳ تا افزایش یافته است</p> <p>۱۳ ، ۱۶ ، ۱۹ ، ۲۲ ، ۲۵ ، ۲۸</p> <p>الگو دو مرحله ای است . ابتدا ۳ سپس ۵ بعد ۷ و در آخر ۹ تا افزایش می یابد.</p> <p>۱ ، ۴ ، ۹ ، ۱۶ ، ۲۵</p>
۳	<p>مسئله های زیر را حل کن .</p> <p>الف (امروز روز چهارم ماه است . هفت روز دیگر چه روزی است ؟ روی محور نشان بده . $۴ + ۷ = ۱۱$)</p>  <p>ب (سارا ساعت ۷:۱۰ دقیقه از خانه به سمت خانه ی مادر بزرگش حرکت کرد . ۱ ساعت و ۲۰ دقیقه طول کشید تا به آنجا برسد . سارا چه ساعتی به خانه ی مادر بزرگش رسید ؟ $۷:۱۰ + ۱:۲۰ = ۸:۳۰$)</p> 
۴	<p>سه جمع بنویس که حاصل آن ها ۱۰ شود .</p> <p>$۱ + ۲ + ۷ = ۱۰$</p> <p>$۲ + ۲ + ۶ = ۱۰$</p> <p>$۲ + ۳ + ۵ = ۱۰$</p>
۵	<p>جمع نظام دار عدد ۴ را بنویسید .</p> <p>$۰ + ۴ = ۴$ $۱ + ۳ = ۴$ $۲ + ۲ = ۴$ $۳ + ۱ = ۴$ $۴ + ۰ = ۴$</p>

حاصل جمع و تفریق زیر را به روش فرآیندی (چکمه ای) به دست بیاورید.

$$\begin{array}{r} 47 \\ + 21 \\ \hline 67 \\ + 1 \\ \hline 68 \end{array}$$

$$\begin{array}{r} 36 \\ + 12 \\ \hline 46 \\ + 2 \\ \hline 48 \end{array}$$

$$\begin{array}{r} 83 \\ - 67 \\ \hline 16 \\ - 7 \\ \hline 9 \end{array}$$

۶


جدول های دوستی زیر را حل کن.

-	۷	۸	۹
۱۸	۱۱	۱۰	۹
۱۷	۱۰	۹	۸

+	۴	۵	۶
۵	۹	۱۰	۱۱
۶	۱۰	۱۱	۱۲

۷

یک تفاوت و یک شباهت برای شکل ۲ زیر بنویس.

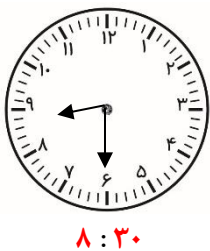


۸

شباهت: هر دو شکل، ۴ ضلع و ۴ گوشه دارند.

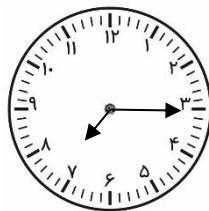
تفاوت: در مربع همه اضلاع با هم برابر است اما در مستطیل این طور نیست و ضلع ها دو به دو با هم مساوی هستند.

ساعت چند است؟ به دو روش متفاوت بنویس.



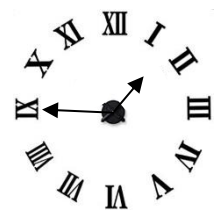
۸:۳۰

هشت و نیم



۷:۱۵

هفت و ربع

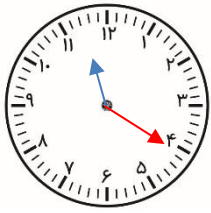


۱:۴۵

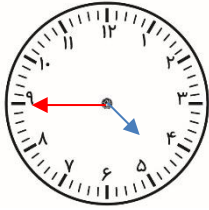
یک ربع مانده به دو

۹

زمان های زیر را روی ساعت نشان بده .



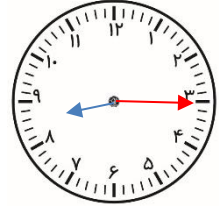
۲۰ دقیقه گذشته از ۱۱



یک ربع مانده به ۵



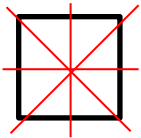
ده و نیم



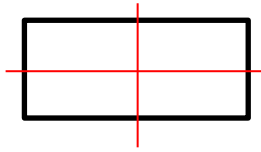
هشت و ربع

۱۰

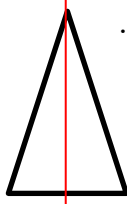
هر شکل چند خط تقارن دارد؟ تعداد آن ها را بنویس و رسم کن .



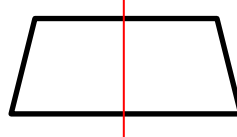
۴



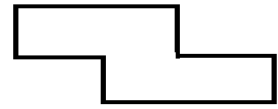
۲



۱



۱



صفر یا ندارد

۱۱

حاصل جمع و تفریق های زیر را به روش تقریبی بدست بیاورید .

$$\begin{array}{r} ۳۷ \longrightarrow \\ + ۲۱ \longrightarrow + \\ \hline ۶۰ \end{array}$$

$$\begin{array}{r} ۸۳ \longrightarrow \\ - ۳۷ \longrightarrow - \\ \hline ۴۰ \end{array}$$

۱۲

