

نام و نام خانوادگی: .....

مقطع و رشته: .....

نام پدر: .....

شماره داوطلب: .....

تعداد صفحه سؤال: ..... صفحه

جمهوری اسلامی ایران

اداره ی کل آموزش و پرورش شهر تهران

اداره ی آموزش و پرورش شهر تهران منطقه ۷ تهران

دبستان غیردولتی پسرانه سرای دانش واحد شریعتی

آزمون میانترم نوبت دوم سال تحصیلی ۱۴۰۱-۱۴۰۰

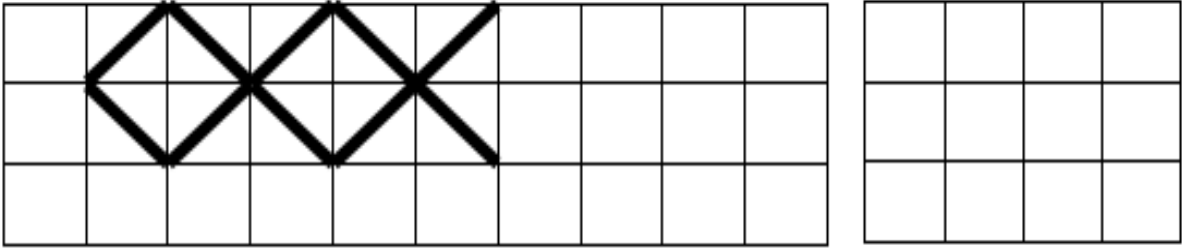
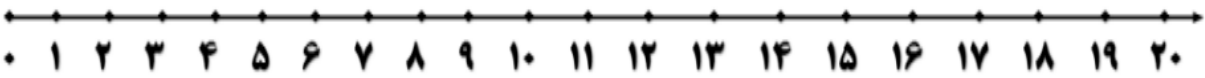
نام درس: ریاضی

نام دبیر: سرکار خانم بلوردی

تاریخ امتحان: ..... / ..... / ۱۴۰۱

ساعت امتحان: ..... : ..... / صبح / عصر

مدت امتحان : ..... دقیقه

ردیف	سؤالات
۱	پسر عزیزم نوشتن اعداد را ادامه بده. ۴ عدد کافی است.
	۱۰ - ۱۵ - ۲۰ ...
	۷ - ۱۴ - ۲۱ ...
	۲۰ - ۳۰ - ۴۰ ...
۲	گل پسر جمع های زیر را انجام بده.
	$۹ + ۹ = \dots\dots$ $۵ + ۶ = \dots\dots$ $۹ + ۷ = \dots\dots$ $۸ + ۸ = \dots\dots$
۳	پسر باهوشم الگو را ادامه بده و نمونه الگو را در سمت راست بکش.
	
۴	۳ پرنده روی شاخه درخت نشسته بودند، ۴ پرنده دیگر آمدند و در کنار آنها نشستند. ۲ پرنده پر زدند و رفتند . چند پرنده روی شاخه هستند؟
	

عددهای زیر را به عدد و حروف بنویس.

هشتاد و هفت

۵۶

۵

نود و سه

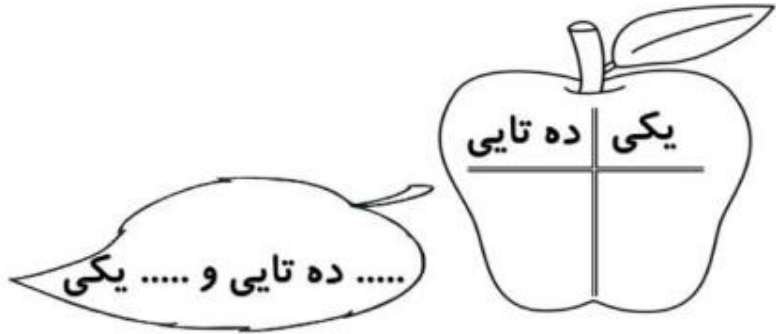
۱۷

یازده

۲۴

جدول زیر را کامل کن.

۶۴



۶