


نام و نام خانوادگی:
 مقطع و رشته:
 نام پدر:
 شماره داوطلب:
 تعداد صفحه سؤال: ۳ صفحه

جمهوری اسلامی ایران
 اداره ی کل آموزش و پرورش شهر تهران
 اداره ی آموزش و پرورش شهر تهران منطقه ۵ تهران
 پیش دبستان و دبستان دخترانه پرسش
 آزمون پایان ترم نوبت اول سال تحصیلی ۱۴۰۲-۱۴۰۱

نام درس: علوم
 نام دبیر: دپارتمان پایه اول
 تاریخ امتحان: ۱۴۰۱/۱۰/۲۱
 ساعت امتحان: ۱۵ : ۹ صبح / عصر
 مدت امتحان: ۴۵ دقیقه

	سؤالات	نمره
	<p>در کدام شکل موقعیت خورشید نسبت به سایه درست نشان داده شده است.</p> 	۱
	<p>در کدام شکل سایه تشکیل نمی شود</p> 	۲
	<p>کدام یک از اشیای زیر روی آب شناور می ماند. آنها را به ظرف آب وصل کن.</p> 	۳

هر یک از اشکال زیر به کدام عضو بدن مربوط است. آنها را بهم وصل کن.




۴

کدام یک از وسایل زیر با استفاده از حس شنوایی کاربرد دارد. دور آن ها را خط بکش.




۵

دور خوراکی های مفید خط بکش.



۶

کدام دو جانور مثل هم حرکت می کند. آنها را بهم وصل کن.



۷

میوه های تک دانه و چند دانه را در جدول زیر قرار بده.



میوه هایی که چند دانه دارند	میوه هایی که یک دانه دارند

۸

از کدام گیاه برای تهیه روغن استفاده می شود. دور آنها را خط بکش.



آفتاب گردان



بادمجان



گوجه فرنگی



ذرت



انگور



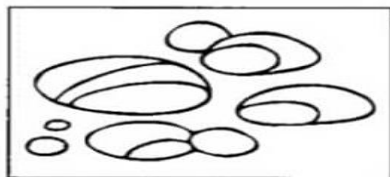


زیتون



سیب

۹

هر سنگ را به محل مناسبش وصل کن.



۱۰

نیازمند تلاش بیشتر	قابل قبول	خوب	خیلی خوب
ارزشیابی توصیفی :			