



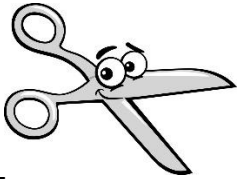


ردیف	سؤالات	نمره
۱	<p>هر جانور را به خانه اش وصل کن.</p> <p>پيله </p> <p>لانه </p> <p>کلونی </p> <p>کندو </p>	
۲	<p>جاهای خالی را با کلمه مناسب پر کن .</p> <p>الف) انسان ها با _____ و کاشتن باعث زیاد شدن گیاهان می شوند .</p> <p>ب) سوخت چیزی است که می سوزد و _____ تولید می کند .</p> <p>پ) اگر جسمی را مقابل نور قرار دهیم و نور از آن عبور نکند ، پشت آن _____ تشکیل می شود.</p> <p>ت) بعد از _____ کردن آب پشت سد ، آب قابل آشامیدن می شود.</p>	
۳	<p>به سوال های زیر پاسخ کوتاه بده.</p> <p>الف) مشاهده یعنی چه ؟ _____</p> <p>ب) چراغ زرد چراغ راهنمایی به چه معناست ؟ _____</p> <p>پ) ماده چیست ؟ _____</p> <p>ت) برای فهمیدن مزه غذا از کدام یک از حواس پنج گانه استفاده می کنیم؟ _____</p>	
۴	<p>دو سوخت تمام شدنی و دو انرژی تمام نشدنی نام ببر.</p> <p>تمام شدنی : (۱) _____ (۲) _____</p> <p>تمام نشدنی : (۱) _____ (۲) _____</p>	
۵	<p>دو دانه نام ببر که از آن روغن تهیه می شود .</p> <p>(۱) _____ (۲) _____</p>	

	<p>حیوانات چگونه باعث پراکنده شدن دانه ها می شوند ؟</p> <p>_____</p>	۶
	<p>یک صدای آزار دهنده ، یک صدای پیام رسان و یک صدای لذت بخش نام ببر.</p> <p>آزار دهنده : _____</p> <p>پیام رسان : _____</p> <p>لذت بخش : _____</p>	۷
	<p>برای اینکه از آلودگی هوا جلوگیری کنیم چه کار هایی می توان انجام داد؟ دو مورد را بنویس.</p> <p>(۱) _____</p> <p>(۲) _____</p>	۸
	<p>مراحل تهیه نان را نام بنویس.</p> <p>_____</p> <p>_____</p>	۹
	<p>زباله های خانگی به چند دسته تقسیم می شود ؟</p> <p>(۱) _____ (۲) _____ (۳) _____</p>	۱۰
	<p>مراحل رشد انسان را کامل کن .</p> <p>جنین ، نوزادی ، _____ ، نوجوانی ، _____ ، میانسالی ، _____ .</p>	۱۱
	<p>راه های مراقبت از دندان چیست ؟ دو مورد را نام ببر.</p> <p>(۱) _____ (۲) _____</p>	۱۲
	<p>برای اندازه گیری گرما-سرما و جهت باد از چه وسیله ای استفاده می کنند؟</p> <p>گرما سرما : _____</p> <p>جهت باد : _____</p>	۱۳
	<p>نام این وسیله چیست ؟ چه استفاده ای از آن می شود ؟</p> <p>_____</p> <p style="text-align: right;"></p>	۱۴