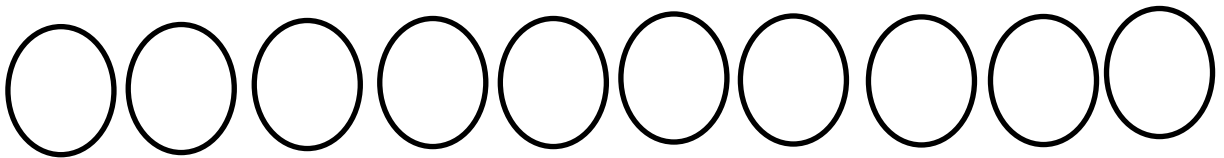
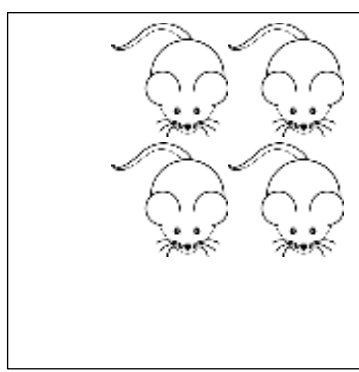

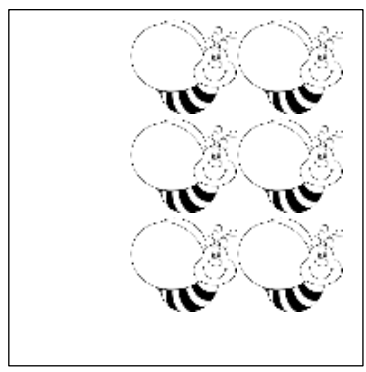







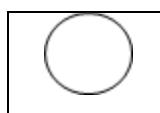
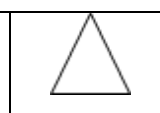
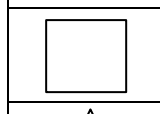
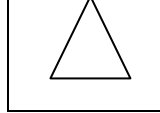
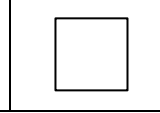
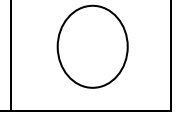












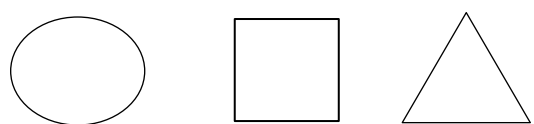


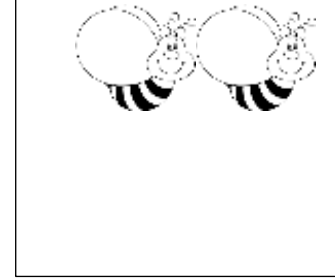
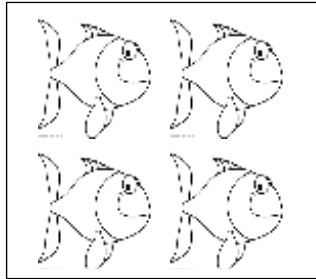
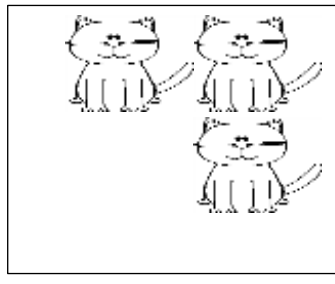

نام درس: ریاضی
نام دبیر: سپیده تشکری، ندا سلیمانی

جمهوری اسلامی ایران
اداره ی کل آموزش و پرورش شهر تهران
اداره ی آموزش و پرورش شهر تهران منطقه ۲ تهران
دبستان غیردولتی پسرانه سرای دانش واحد مرزداران
آزمون ارزشیابی توصیفی نوبت اول سال تحصیلی ۱۴۰۲-۱۴۰۱

نام و نام خانوادگی:
مقطع و رشته: اول دبستان
تعداد صفحه سؤال: ۳ صفحه

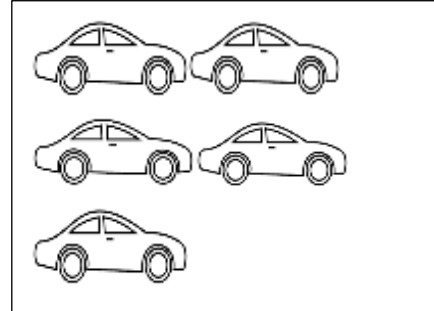
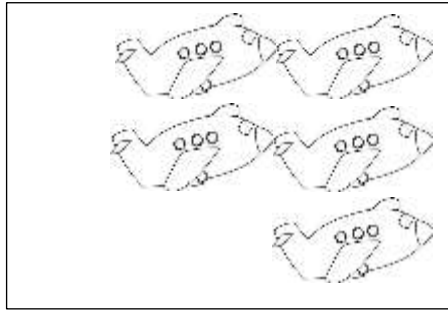
ردیف	سؤالات	نمره									
	<p>پسر فوبم عدد هایی را که تاکنون یاد گرفته ای به ترتیب بنویس.</p> 	۱									
	<p>پسر زرنگم عدد مناسب هر شکل را بنویس، سپس چوب فط مناسب آن را بکش.</p> <table border="1" data-bbox="215 806 1332 1265"><tr><td></td><td></td><td></td></tr><tr><td>.....</td><td>.....</td><td>.....</td></tr></table>				۲			
											
.....									
	<p>دانش آموز توانا الگوی منظم زیر را ادامه دهید. یک الگوی نامنظم بکش.</p> 	۳									
	<p>ریاضیدان کوچک جدول شگفت انگیز را کامل کنید.</p> <table border="1" data-bbox="255 1657 750 1993"><tr><td></td><td></td><td></td></tr><tr><td></td><td></td><td></td></tr><tr><td></td><td></td><td></td></tr></table>										۴
											
											
											
	<p>گوشه شکل های هندسی را مشخص کنید.</p> 	۵									

دانش آموز کوشا شکل های هر دسته روی هم چندتا می شود؟ عدد مناسب و چوب خط آن را بنویس .





۶

پسر دانا به تصاویر نگاه کن و عدد مربوط به هر دسته را بنویس و علامت مناسب <=> را بگذار.



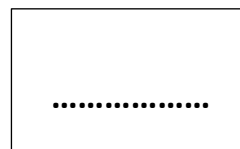
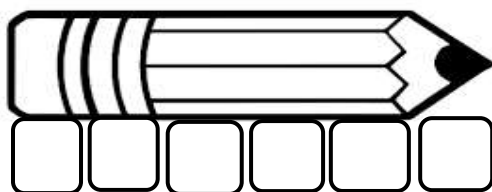
.....



.....

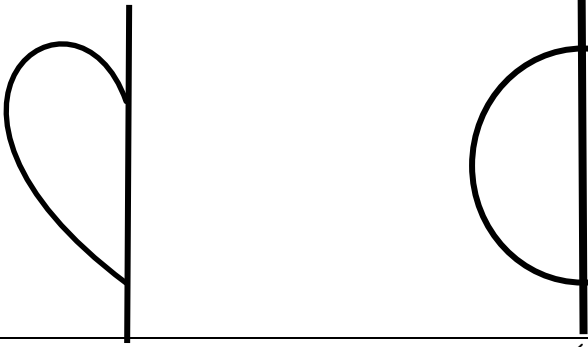
۷

پسر فوبع اندازه مدار چندتا پینه است ؟



۸


پسر زرنگم نیمه دیگر شکل را کامل کن.



۹

پسر دانا شکل های دسته سمت راست را تاجایی ادامه بده که تعداد دسته ها مساوی شود سپس چوب خط و


عدد آن ها را روی بنویس.



۱۰

پسر گلم یک دسته پنج تایی با شکل دلفواه درست کن سپس چوب خط و عدد آن را بنویس.

۱۱

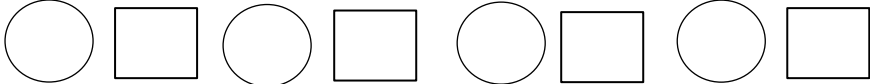




























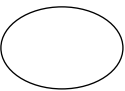
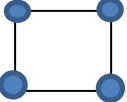
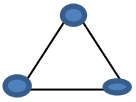



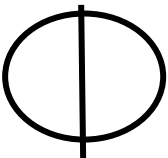
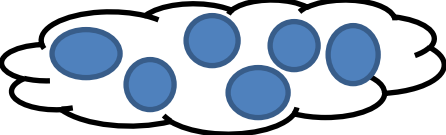
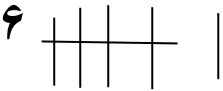


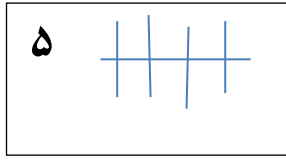

بازفورد توصیفی آموزگار،

موفق باشید

نام درس: ریاضی
نام دبیر: سپیده تشکری، ناسلیمانی

اداره ی کل آموزش و پرورش شهر تهران
اداره ی آموزش و پرورش شهر تهران منطقه ۲ تهران
پیش دبستان و دبستان غیر دولتی پسرانه سرای دانش واحد مرزداران
کلید سؤالات ارزشیابی توصیفی نوبت اول سال تحصیلی ۱۴۰۱-۱۴۰۲

ردیف	راهنمای تصحیح	محل مهر یا امضاء مدیر									
۱		۰ ۱ ۲ ۳ ۴ ۵ ۶ ۷ ۸ ۹									
۲		<div style="display: flex; justify-content: space-around;"> <div style="border: 1px solid black; padding: 5px;">..... ۴</div> <div style="border: 1px solid black; padding: 5px;">..... ۵</div> <div style="border: 1px solid black; padding: 5px;">..... ۶</div> </div>									
۳	الگوی منظم الگوی نامنظم	<div style="display: flex; justify-content: space-around;"> <div style="text-align: center;">  </div> <div style="text-align: center;">  </div> </div>									
۴		<table border="1" style="width: 100%; text-align: center;"> <tr> <td></td> <td></td> <td></td> </tr> <tr> <td></td> <td></td> <td></td> </tr> <tr> <td></td> <td></td> <td></td> </tr> </table>									
											
											
											
۵		<div style="display: flex; justify-content: space-around;">    </div>									
۶		<div style="display: flex; justify-content: space-around;"> <div style="border: 1px solid black; padding: 5px;">۷ </div> <div style="border: 1px solid black; padding: 5px;"> ۶</div> </div>									
۷		<div style="display: flex; justify-content: space-around;"> <div style="border: 1px solid black; padding: 10px; text-align: center;">۵ = ۵</div> <div style="border: 1px solid black; padding: 10px; text-align: center;">۳ < ۶</div> </div>									
۸		<div style="border: 1px solid black; padding: 10px; display: inline-block;">۶</div>									
۹		 									
۱۰		 <div style="border: 1px solid black; padding: 5px; display: inline-block;">  </div>									



امضاء:

نام و نام خانوادگی مصحح :