

نام و نام خانوادگی : .....

پایه : دهه

تعداد صفحه سؤال : ۲ صفحه

جمهوری اسلامی ایران

اداره ی کل آموزش و پرورش شهر تهران

اداره ی آموزش و پرورش شهر تهران منطقه ۴ تهران  
دبستان غیردولتی دخترانه سرای دانش واحد الغدير

ارزشیابی ترم اول سال تمصیلی ۱۴۰۱-۱۴۰۰

نام درس : ریاضی دوم

نام دبیر : خانم خلیلی

تاریخ امتحان: ۱۸ / ۱۰ / ۱۴۰۰

ساعت امتحان : ۹:۰۰

مدت امتحان : ۶۰ دقیقه


| ردیف | سؤالات   | بارم |
|------|--|------|
| ۱    | برای عددهای خواسته شده شکل و چوب خط بکشید.<br><br>شکل ۱۲<br>۲۳ چوب خط                          |      |
| ۲    | الگوی عددی زیر را ادامه دهید.<br><br>۲-۴-۶-.....<br><br>۱۰-۲۰-۳۰.....<br><br>۱-۲-۴-۷-.....     |      |
| ۳    | چند عدد دو رقمی می توان نوشت که رقم یکان آن ۳ و ۶ و رقم دهگان آن ۱ و ۵ و ۲ باشد.               |      |
| ۴    | جمع و تفریق های زیر را با روش مرحله ای(سشواری)انجام دهید.<br><br>-۷۴ + ۲۵ - ۸۷<br><br>۲۵ ۳۷ ۱۳ |      |
| ۵    | عددهای خواسته شده را به عدد و حروف بنویسید.<br><br>بیست و سه..... ۲۹۵..... صد و پنجاه.....     |      |
| ۶    | در بین عددهای مقابل بیشترین و کمترین عدد را پیدا کنید و بنویسید.                               |      |

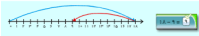
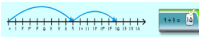
| بیشترین عدد ..... کمترین عدد .....  | ۲۵_۱۲_۷۸_۵۲_۷۳         |
|---|------------------------|
| <p>در جاهای خالی عدد مناسب بنویسید</p> <p>۵۴ یعنی ..... ده تایی و ..... یکی</p> <p>..... یعنی ۷ ده تایی و ۱ یکی</p> | ۷                      |
| <p>درست یا نادرست</p> <p>الف) یک ساعت ۱۲ دقیقه است.</p> <p>ب) مربع و مستطیل ۴ ضلع و ۴ گوشه دارند</p>                | ۸                      |
| <p>حاصل عبارت زیر را با محور نشان دهید</p>  | <p>۶+۹</p> <p>۱۸-۹</p> |
| <p>یک مثلث بکشید و خط تقارن آن را مشخص کنید.</p>  | ۱۰                     |
| <p>ساعت ۵ و ربع است . نیم ساعت قبل ساعت چند بوده است؟</p>   | ۱۱                     |
| <p>با ارقام ۶ و ۸ و ۴ هر چقدر می توانی عدد ۳ رقمی بدون تکرار بنویسید.</p>   | ۱۲                     |



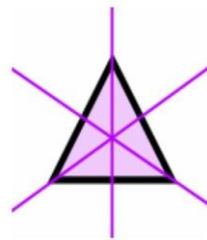
اداره ی کل آموزش و پرورش شهر تهران  
 اداره ی آموزش و پرورش شهر تهران منطقه ۴ تهران  
 دبیرستان غیر دولتی دخترانه سرای دانش واحد الغدیر  
**کلید** سؤالات ترم اول سال تمصیلی ۱۴۰۱-۱۴۰۰

نام درس : ریاضی دوم  
 نام دبیر : خانم خلیلی  
 تاریخ امتحان: ۱۴۰۰/۱۰/۱۸  
 ساعت امتحان : ۹:۰۰  
 مدت امتحان : ۶۰ دقیقه

| ردیف | راهنمای تصحیح   | محل مهر یا امضاء مدیر |
|------|---|-----------------------|
| ۱    |  |                       |
| ۲    | $۲\_۴\_۶\_۸\_۱۰\_۱۲$<br>$۱۰\_۲۰\_۳۰\_۴۰\_۵۰\_۶۰$<br>$۱\_۲\_۴\_۷\_۱۱\_۱۶$            |                       |
| ۳    | $۲۶\_۲۳\_۵۶\_۵۳\_۱۶\_۱۳$  |                       |
| ۴    | $۷۴\_۲۵=۴۹$<br>$۳۷+۲۵=۶۲$<br>$۸۷\_۱۳=۷۴$  |                       |
| ۵    | $۱۵۰\_۲۳$ دویست و نود و پنج   |                       |
| ۶    | $۷۸\_۱۲$  |                       |
| ۷    | $۴\_۵$<br>$۷۱$  |                       |
| ۸    | الف) نادرست<br>ب) درست  |                       |



٩



مثلث متساوی الاضلاع  
٣ محور تقارن

١٠

٤:٤٥

١١

٨٤٤\_٨٤٤\_٤٨٤\_٤٤٨\_٤٤٨\_٤٨٤

١٢