
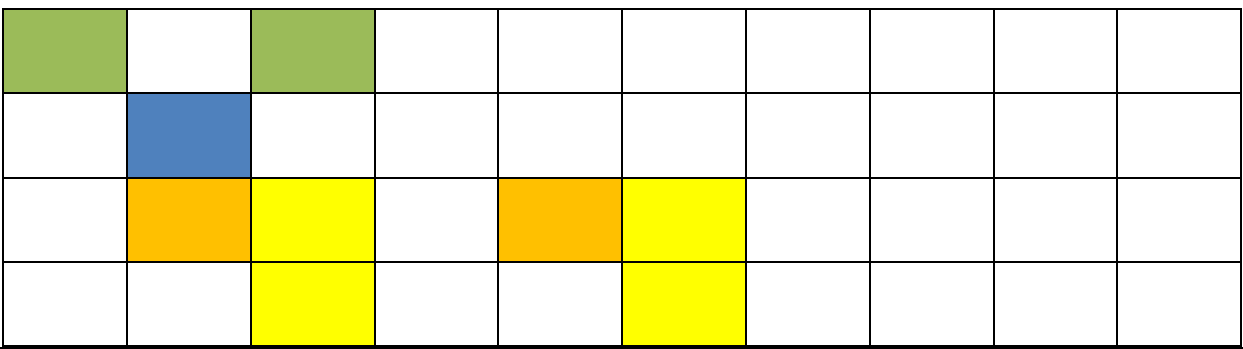
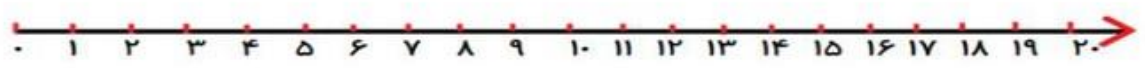
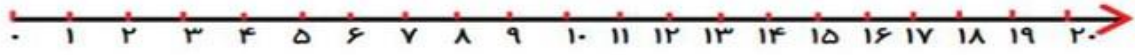


ردیف	سؤالات						
۱	<p>- پسرم عبارت‌های زیر را جواب بده.</p> $۵۰-۵= \boxed{}$ $۲۰+۲۰+۱۰+۳+۲= \boxed{}$ $۶۴+۶= \boxed{}$ $۳۰+۵۰= \boxed{}$ $۶+۷= \boxed{}$ $۹+۸= \boxed{}$ $۳۷+۳= \boxed{}$ $۱۲+۶= \boxed{}$ $۱۰+۳۰+۲۰-۵= \boxed{}$ $۴۶+۱۰= \boxed{}$ $۸۰-۲۰= \boxed{}$ $۴۰+۲۰+۱۰-۵= \boxed{}$						
۲	<p>- پسرم دسته‌های ده‌تایی درست کن و جاهای خالی را پر کن.</p>  <table border="1" data-bbox="1212 940 1436 1187"> <thead> <tr> <th>ده‌تایی</th> <th>یکی</th> </tr> </thead> <tbody> <tr> <td>عدد:</td> <td></td> </tr> <tr> <td>حروف:</td> <td></td> </tr> </tbody> </table>	ده‌تایی	یکی	عدد:		حروف:	
ده‌تایی	یکی						
عدد:							
حروف:							
۳	<p>- پسرم الگوی زیر را ادامه بده.</p> 						
۴	<p>- مینا در سبد اسباب‌بازی‌های خود، ۸ توپ، ۵ آب‌پاش، ۴ عروسک و ۲ ماشین دارد، او ۶ تا از اسباب‌بازی‌هایش را به سامان داد. حالا چند اسباب‌بازی دارد؟ (روی محور نشان بده)</p> 						

<p>۵ - ۵ دسته‌ی ۱۰ تایی و ۶ یکی می‌شود؟</p> <p>- ۷۳ می‌شود دسته‌ی ۱۰ تایی و یکی.</p> <p>- رضا ۳ دسته‌ی ۱۰ تایی و ۵ یکی سیب دارد. او چند سیب دارد؟</p>	۵
<p>- پسر م با چوب‌خط جواب بده.</p> <p>$۷ + ۳ + ۴ = \dots\dots\dots$</p> <p>$۱۰ + ۶ + ۸ = \dots\dots\dots$</p> <p>$۹ + ۷ = \dots\dots\dots$</p> <div style="display: flex; justify-content: center; gap: 20px;"> <div style="border: 1px solid green; width: 250px; height: 40px;"></div> <div style="border: 1px solid green; width: 250px; height: 40px;"></div> <div style="border: 1px solid green; width: 250px; height: 40px;"></div> </div>	۶
<p>- پسر م از عدد ۱۵ تا ۲۰ به عدد و حروف بنویس.</p>	۷
<p>- پسر م عبارت زیر را روی محور نشان بده و جواب را بنویس.</p> <div style="text-align: center;">  </div> <p style="text-align: center;">$۷ + ۶ + ۳ =$</p>	۸
<p>- گلی ۳ دسته‌ی ۱۰ تایی آب‌نبات دارد. پدر بزرگش ۵ دسته‌ی ۱۰ تایی دیگر به او آب‌نبات داد. حالا گلی چند آب‌نبات دارد؟ (رسم شکل)</p>	۹
<p>- هامون ۱۰ طناب داشت. برادرش هم ۳ طناب به او داد و عمه لیلی ۴ طناب از او گرفت. برای هامون چند طناب باقی می‌ماند؟</p>	۱۰

- پسرم دنباله‌ی عددی زیر را ادامه بده.

				۴۵	۵۰				
--	--	--	--	----	----	--	--	--	--

۱۱		۱۳			
----	--	----	--	--	--

۲۲		۲۶			
----	--	----	--	--	--

۸		۱۶			
---	--	----	--	--	--

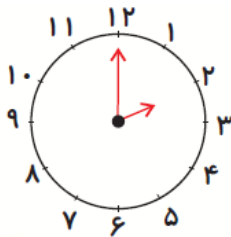
۱۱

- پسرم جدول زیر را کامل کن.

۶	

۱۲


- پسرم با توجه به زمانی که ساعت نشان می‌دهد جاهای خالی را کامل کن.



ساعت است.



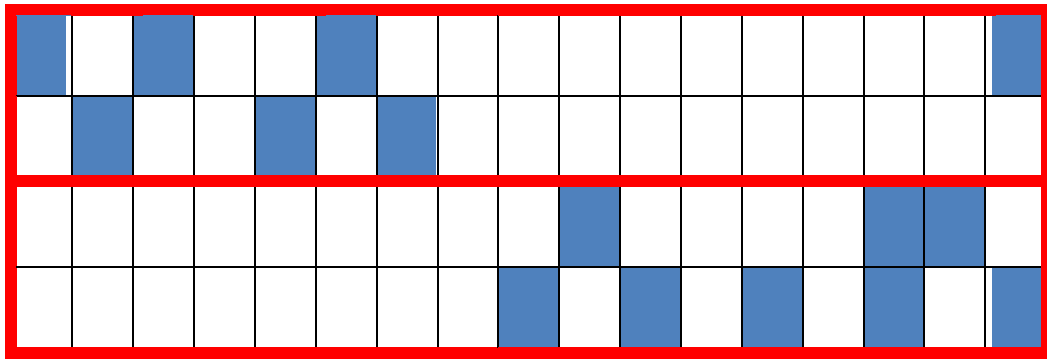
ساعت بین و است.



ساعت کمی از گذشته است.

۱۳

- پسرم شکل را طوی کامل کن که دو نیمه‌ی آن شبیه هم باشد.



۱۴

جمع بارم : ۲۰ نمره