

نام و نام خانوادگی:

پایه: سوم

نام پدر:

شماره داوطلب:

تعداد صفحه سؤال: ۳ صفحه

جمهوری اسلامی ایران

اداره ی کل آموزش و پرورش شهر تهران

اداره ی آموزش و پرورش شهر تهران منطقه ۵ تهران

پیش دبستان و دبستان غیردولتی دخترانه **نیریشتر**

ارزشیابی عملکردی نوبت دوم سال تحصیلی ۱۴۰۱-۱۴۰۰

نام درس: ریاضیات

نام دبیر: خانم سمیه غلامی

تاریخ امتحان: ۱۴۰۱/۲/۳۱

ساعت امتحان: ۸:۰۰ صبح / عصر


مدت امتحان: ۱۲۰ دقیقه

ردیف	سؤالات	درست	نادرست
۱	<p>درست یا نادرست بودن جمله های زیر را مشخص کنید .</p> <p>الف) اندازه قطر دایره دو برابر شعاع آن است .</p> <p>ب) ۱۸ تا ۱۰۰ گرم یعنی یک کیلوگرم و ۸۰۰ گرم .</p> <p>پ) تعداد خط های تقارن مستطیل با قطر هایش برابر است .</p> <p>ت) مکعب مربع از ۶ مربع هم اندازه درست شده است .</p> <p>ث) دومتر و $\frac{۱۵}{۱۰۰}$ متر یعنی ۲۱۵ سانتی متر .</p>	درست	نادرست
۲	<p>جاهای خالی را پر کن</p> <p>الف) ۳ هزار تایی و ۲ ده تایی و ۵ یکی ، باز شده ی عدد..... است .</p> <p>ب) محیط برابر است با (اندازه طول + اندازه عرض) $\times ۲$</p> <p>پ) حاصل ضرب هر عددی در برابر است با خود آن عدد است.</p>		
۳	<p>عبارت های مناسب را به هم وصل کن .</p> <p>الف) $(۴ \times ۷ - ۱) \div ۹$ ۳۰۰۰</p> <p>ب) $(۸ \times ۳) + (۲ \times ۳)$ ۳۰۰</p> <p>پ) $(۲۰۰۰ \times ۴) - ۵۰۰۰$ ۳۰</p> <p>ت) $((۵۰۰ - (۱۵۰ + ۵۰))$ ۳</p>		
۴	<p>عددی را دو برابر کردیم سپس حاصل را با ۱۵ جمع کردیم جواب ۵۵ شد آن عدد را پیدا کنید .</p>		

مساحت قسمت رنگی چند سانتی متر مربع است؟

۵

۹



حاصل ضرب های زیر را به دست آورید.

۶

$$\begin{array}{r} 324 \\ \times 3 \\ \hline \end{array}$$

$$\begin{array}{r} 83 \\ \times 7 \\ \hline \end{array}$$

علی ۳ شاخه گل دارد و هر شاخه ۲ گل و هر گل ۵ گلبرگ دارد علی روی هم چند گلبرگ دارد؟

۷

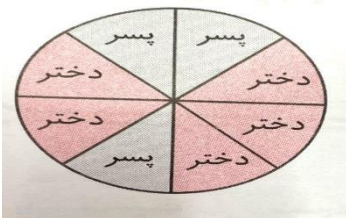
۹ بسته ۴ تایی شکلات داریم. اگر آنها را بین ۶ نفر تقسیم کنیم به هر نفر چند شکلات می رسد؟

۸

در دارالقرآن محله ما ۴۰ دختر و پسر قرآن می آموزند با توجه به نمودار بنویسید که چند دختر و چند پسر قرآن می

آموزند؟

۹




تعداد پسرها

تعداد دخترها

برای شکل زیر ۲ کسر مساوی بنویسید.

۱۰



$$\frac{2}{3} = \frac{\quad}{\quad} = \frac{\quad}{\quad}$$

با توجه به شکل رو به رو به سوال های زیر پاسخ بده.

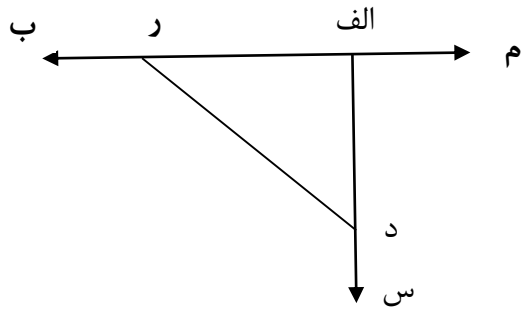
الف) یک خط راست نام ببر.

ب) آیا نیم خط قابل اندازه گیری است؟

ج) یک نیم خط نام ببر.

د) نام یک پاره خط را بنویس.

۱۱





اداره ی کل آموزش و پرورش شهر تهران

اداره ی آموزش و پرورش شهر تهران منطقه ۵ تهران

پیش دبستان و دبستان غیر دولتی دخترانه **نیرسش**
کلید سؤالات ارزشیابی عملکردی نوبت دوم سال تحصیلی ۱۴۰۱-۱۴۰۰

نام درس: ریاضی

نام دبیر: سمیه غلامی

تاریخ امتحان: ۱۳۱ / ۲ / ۱۴۰۱

ساعت امتحان: ۸:۰۰ صبح / عصر

مدت امتحان: ۱۲۰ دقیقه

ردیف	راهنمای تصحیح	محل مهر یا امضاء مدیر
۱	الف) درست (ب) درست (پ) درست	ث) درست
۲	الف) ۳۰۲۵ (ب) مستطیل	پ) ۱
۳	الف) ۳ (ب) ۳۰ (پ) ۳۰۰۰ (ت) ۳۰۰	
۴		$\square \times 2 + 15 = 55$ $\square = 20$
۵		$9 \times 5 = 45$ $3 \times 3 = 9$ $45 - 9 = 36$
۶		1296 581
۷		$(3 \times 2) \times 5 = 30$
۸		$9 \times 4 = 36$ $36 \div 6 = 6$
۹	دختر=۲۵ پسر=۱۵	
۱۰		$\frac{4}{6} = \frac{6}{9}$
۱۱	الف) م ب (ب) خیر (ج) رب - الف م - د س (د) الف ر	
نام و نام خانوادگی مصحح :		امضاء: