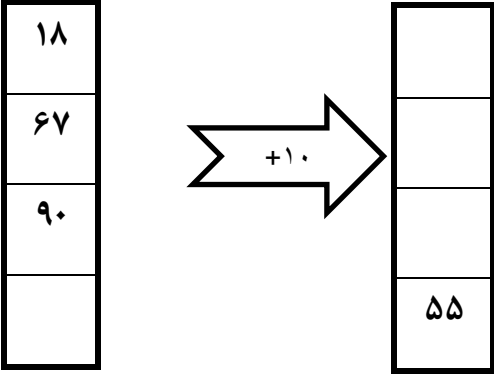
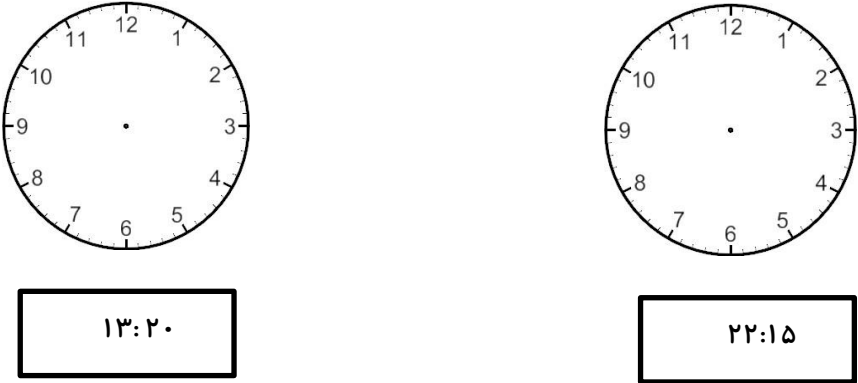


نام و نام خانوادگی:
مقطع: سوم الف

جمهوری اسلامی ایران
اداره ی کل آموزش و پرورش شهر تهران
اداره ی آموزش و پرورش شهر تهران منطقه ۷ تهران
دبستان غیردولتی سرای دانش واحد شریعتی
آزمون نوبت اول سال تمصیلی ۱۴۰۳-۱۴۰۲

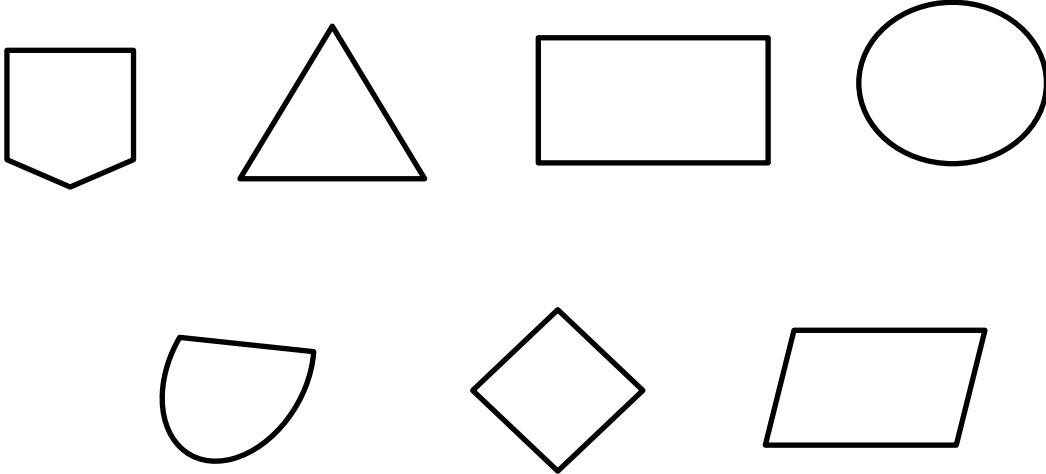
نام درس: ریاضی
نام دبیر: محبوبه رهنما
تاریخ امتحان: / / ۱۴۰۲
ساعت امتحان: : : صبح / عصر
مدت امتحان: دقیقه

ردیف	سؤالات
۱	الگویابی کن.- ۳۸- ۳۴- ۹- ۷- ۱۲۰۰- ۱۱۰۰
۲	جای خالی را با عدد مناسب پر کن. 
۳	یک ربع بعد از ساعت ها را روی ساعت نشان بده. 
۴	همه ی عددهای سه رقمی را بنویس که صدگان آن ۶ و ۹ و دهگان آن ۴ و ۳ و یکان آن ۲ باشد.(نمودار درختی)

	<p>برای عدد زیر شکل بکش، و بعد آن را به حروف بنویس و در جدول ارزش مکانی ببر.</p> <div style="border: 1px solid black; border-radius: 15px; padding: 5px; display: inline-block; margin: 10px 0;">۲۵۳۳</div>	۵
	<p>جاهای خالی را با عدد مناسب پرکن.</p> <p>۸۹۰ متر و سانتی متر است.</p> <p>۶۷۸۹ کیلومتر و متر و سانتی متر است.</p> <p>۳ کیلوگرم گرم است.</p> <p>۴۰۰۰ متر کیلومتر است.</p> <p>ضخامت کتاب نگارش حدود ۷ است.</p> <p>جرم یک پرتقال حدود ۵ است.</p>	۶
	<p>یک دایره به شعاع ۳ سانتی متر با پرگار بکش. آن را به ۳ قسمت تقسیم کن و ۲ قسمت آن را رنگ بزن و کسر آن را بنویس.</p>	۷
	<p>برای شکل زیر دو کسر مساوی بکش.</p> <div style="border: 1px solid black; width: 100px; height: 100px; margin: 10px 0;"> <div style="border-bottom: 1px solid black; height: 30px; width: 100%;"></div> <div style="border-bottom: 1px solid black; height: 30px; width: 100%;"></div> <div style="background-color: #add8e6; height: 30px; width: 100%;"></div> </div>	۸
	<p>عددهای زیر را روی محور نشان بده.</p> <p style="text-align: right;">$\frac{2}{3}$ واحد بعد از ۴</p> <hr style="width: 50%; margin: 10px 0;"/> <hr style="width: 50%; margin: 10px 0;"/>	۹

$\frac{1}{2}$ واحد قبل از ۲

زاویه هر شکل را مشخص کن و شکلی که زاویه بیشتری دارد را رنگ سبز بزن.



۱۰

بین هر کسر علامت \leq یا \geq بگذار.

$\frac{3}{5}$ ○ $\frac{4}{5}$
 $\frac{2}{5}$ ○ $\frac{2}{4}$

۱۱

پسرم آزمونت چطور بود؟

خیلی خوب بود خوب بود خیلی از سوالات را بلد نبودم .

باز خورد آموزگار :

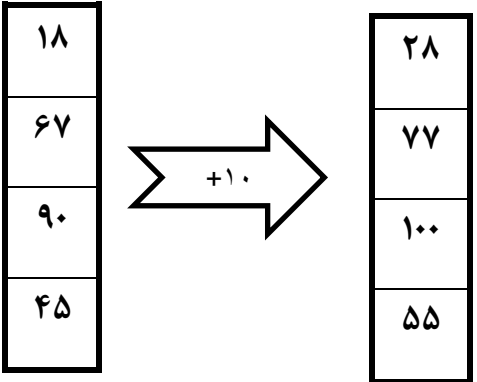

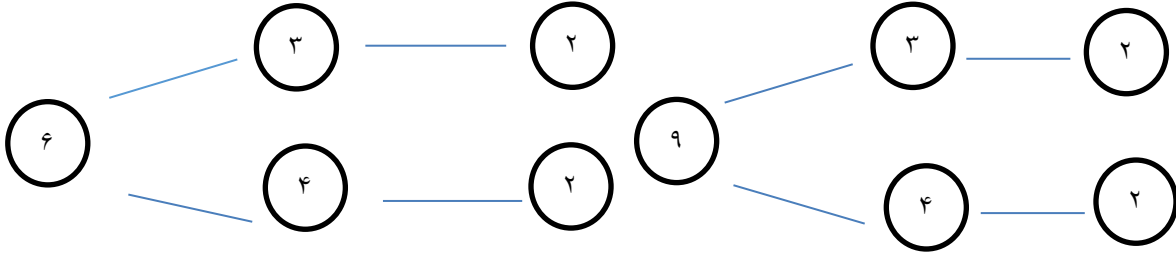

.....
.....

تعداد خطا :



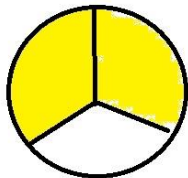
اداره ی کل آموزش و پرورش شهر تهران
 اداره ی آموزش و پرورش شهر تهران منطقه ۷ تهران
 دبستان غیر دولتی پسرانه سرای دانش واحد شریعتی
کلید سوالات میان نوبت اول سال تمصیلی ۱۴۰۱-۱۴۰۰

نام درس:
 نام دبیر:
 تاریخ امتحان: / / ۱۴۰۱
 ساعت امتحان: عصر / صبح
 مدت امتحان: دقیقه

	ردیف
<p>۳۴- ۳۸- ۴۲- ۴۶- ۵۰- ۵۴- ۵۸ ۷- ۹- ۱۱- ۱۳- ۱۵- ۱۷- ۱۹ ۱۱۰۰- ۱۲۰۰- ۱۳۰۰- ۱۴۰۰- ۱۵۰۰- ۱۶۰۰- ۱۷۰۰</p>	۱
	۲
	۳
	۴
	۵

۸ متر و ۹۰ سانتی متر
 ۶ کیلومتر و ۷ متر و ۸۹ سانتی متر
 ۳۰۰۰ گرم
 ۴ کیلومتر
 ۸۹ سانتی متر
 ۳۰۰۰ گرم

۶



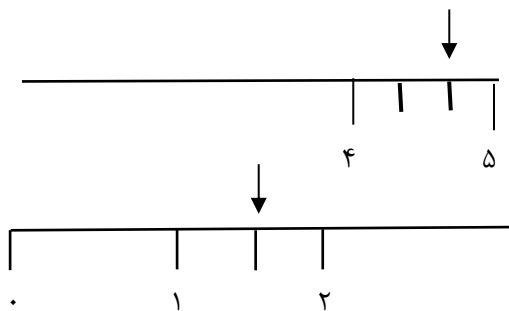
$$\frac{2}{3}$$

۷



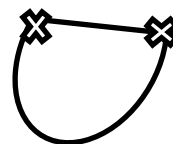
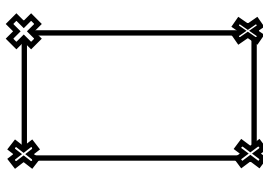
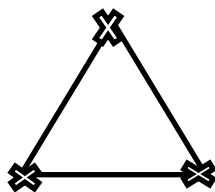


$$\frac{2}{6} = \frac{4}{12}$$

۸



۹



۱۰

$$\frac{3}{5} \quad \text{⊳} \quad \frac{4}{5}$$

$$\frac{2}{5} \quad \text{⊳} \quad \frac{2}{4}$$

۱۱