

نام و نام خانوادگی:

پایه: دوم

نام پدز:

شماره داوطلب:

تعداد صفحه سؤال: ۳ صفحه

جمهوری اسلامی ایران

اداره ی کل آموزش و پرورش شهر تهران

اداره ی آموزش و پرورش شهر تهران منطقه ۵ تهران

پیش دبستان و دبستان غیردولتی دخترانه

ارزشیابی عملکردی نوبت دوم سال تمصیلی ۱۴۰۱-۱۴۰۰

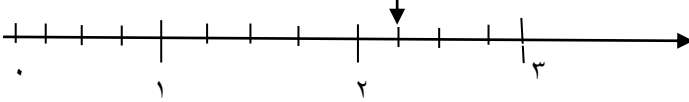

نام درس: ریاضی

نام دبیر: خانم حدیث طهماسبی

تاریخ امتحان: ۱۴۰۱ / ۲ / ۳۱

ساعت امتحان: ۸:۰۰ صبح / عصر

مدت امتحان: ۱۲۰ دقیقه

سؤالات	نمره
<p>جواب درست را مشخص کنید.</p> <p>الف (یک سانتی متر ۱۰ میلی متر است. <input type="checkbox"/> درست <input type="checkbox"/> نادرست</p> <p>ب) مستطیل ۴ ضلع برابر و ۶ خط تقارن دارد. <input type="checkbox"/> درست <input type="checkbox"/> نادرست</p> <p>ج) یک ربع بعد از ۸:۴۵ می شود ساعت ۱۰ <input type="checkbox"/> درست <input type="checkbox"/> نادرست</p> <p>د) در شمارش ۶ تا ۶ تا ، عدد بعد از ۱۸ ، ۲۴ است.. <input type="checkbox"/> درست <input type="checkbox"/> نادرست</p>	۱
<p>جاهای خالی را کامل کن.</p> <p>الف) عدد ۵۸۴ ، یک عدد رقمی است که رقم صدگان آن و رقم یکان آن است.</p> <p>ب) ۱۵ میلی متر همان سانتی متر و میلی متر است.</p> <p>پ) ۲۰۰ میلی متر برابر است با سانتی متر</p> <p>ت) ۹۳ را می توان به صورت ده تایی و قسمت از قسمت نوشت.</p> <p>ث) ۵ سکه ی ۱۰۰ ریالی و ۶ سکه ی ۱۰ ریالی و ۹ سکه ی یک ریالی می شود ریال</p> <p>ج) عدد ۲۷۷ به ۲۷۰ نزدیک تر است یا به؟</p> <p>چ) عدد را می توان به صورت ۶ ده تایی و ۷ قسمت از ۱۰ قسمت بیان کرد.</p>  <p>ح) نقطه ی مشخص شده، واحد و قسمت از قسمت مساوی است.</p>	۲
<p>نرگس ساعت ۱۰ و نیم به پارک رفت و بعد از دو ساعت و ربع به خانه برگشت. او چه ساعتی به خانه آمده است؟</p> <p>(رسم ساعت)</p> 	۳

*۲۳۰، ۲۳۵، ۲۴۰،،،،،

۴

*۱، ۲، ۴، ۷،،،،

*.....،،، ۶۴۳، ۶۴۰، ۶۳۷،،

عددها را با حذف یکان و دهگان به صورت تقریبی بنویسید و سپس جمع و تفریق کنید.

به روش فرآیندی

$$\begin{array}{r} + 238 \\ 185 \\ \hline \end{array}$$

$$\begin{array}{r} - 765 \longrightarrow \\ 341 \longrightarrow \\ \hline \end{array}$$

۵

با اعداد ۵، ۹، ۲ چند عدد سه رقمی می توان ساخت؟ دور اعداد زوج را خط بکشید. (بدون تکرار ارقام)

۶

اگر داخل سبزی ۹ سیب، ۷ پرتقال و ۳ گلابی باشد. بخواهیم با چشمان بسته یک میوه برداریم، به احتمال بیشتر کدام میوه خواهد بود؟..... چرا؟

۷

چه کسری از میوه ها گلابی است؟

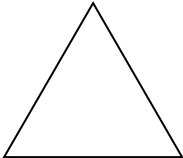

سارا ۷۹۱ ریال پول داشت، ۲۴۲ ریال از آن را خرج کرد. حالا او چقدر پول دارد؟ (روش تکنیکی)

۸

زهرا یک دفتر ۴۵ تومانی و یک مداد خرید. او ۷۳ تومان به فروشنده داد. قیمت مداد چقدر است؟ (به روش حدس و آزمایش)

۹

جدول را کامل کنید.

		شکل
		تعداد ضلع
		تعداد گوشه
این شکل را به ۳ قسمت مساوی تقسیم کنید.	این شکل را به ۶ قسمت مساوی تقسیم کنید.	
		شباهت دو شکل با هم
		تفاوت دو شکل با هم

۱۰

با توجه به شکل کامل کنید.

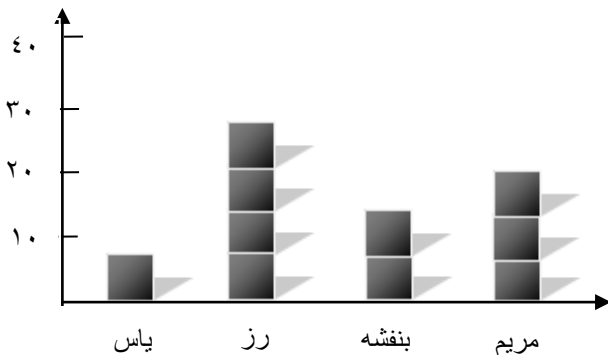


..... تا تایی می شود

..... تا تایی می شود

۱۱


تعداد گل های یک گل خانه به صورت نمودار ستونی داده شده است. با توجه به نمودار ، جدول و نمودار تصویری را رسم کنید.



گل	تعداد
گل یاس	
گل رز	
گل بنفشه	
گل مریم	

۱۲

برای رسم نمودار تصویری ، به ازای هر ۵ (پنج گل) یک دایره بکشید.





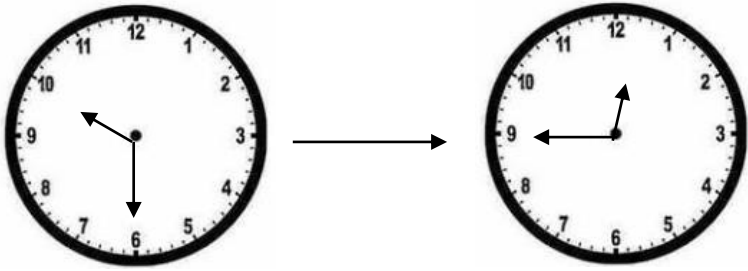
اداره ی کل آموزش و پرورش شهر تهران
اداره ی آموزش و پرورش شهر تهران منطقه ۵ تهران

نپسش

پیش دبستان و دبستان غیر دولتی دخترانه

کلید سؤالات ارزشیابی عملکردی نوبت دوم سال تحصیلی ۱۴۰۱-۱۴۰۰

نام درس: ریاضیات
نام دبیر: خانم مدیث طهماسبی
تاریخ امتحان: ۱۴۰۱/۲/۳۱
ساعت امتحان: ۸:۰۰ صبح / عصر
مدت امتحان: ۲۰ دقیقه

ردیف	راهنمای تصحیح محل مهر یا امضاء مدیر																					
۱	الف) درست ب) نادرست ج) نادرست د) درست																					
۲	الف) سه - ۵ - ۴ ب) ۱ - ۵ ج) ۱ - ۲ - ۴ چ) ۶۷ ت) ۹ - ۳ - ۱۰ ث) ۵۶۹ ج) ۲۸۰ - ۲۸۰																					
۳																						
۴	۲۶۵ - ۲۶۰ - ۲۵۵ - ۲۵۰ - ۲۴۵ ۲۹ - ۲۲ - ۱۶ - ۱۱ ۶۳۴ - ۶۳۱ - ۶۴۹ - ۶۴۶																					
۵	$\begin{array}{r} + 238 \\ 341 \\ \hline 579 \end{array}$ $\begin{array}{r} - 765 \\ 185 \\ \hline 930 \end{array}$																					
۶	<table border="1" data-bbox="434 1758 898 2098"> <thead> <tr> <th>صدگان</th> <th>دهگان</th> <th>یکان</th> </tr> </thead> <tbody> <tr> <td>۲</td> <td>۵</td> <td>۹</td> </tr> <tr> <td>۲</td> <td>۹</td> <td>۵</td> </tr> <tr> <td>۵</td> <td>۲</td> <td>۹</td> </tr> <tr> <td>۵</td> <td>۹</td> <td>۲</td> </tr> <tr> <td>۹</td> <td>۲</td> <td>۵</td> </tr> <tr> <td>۹</td> <td>۵</td> <td>۲</td> </tr> </tbody> </table>	صدگان	دهگان	یکان	۲	۵	۹	۲	۹	۵	۵	۲	۹	۵	۹	۲	۹	۲	۵	۹	۵	۲
صدگان	دهگان	یکان																				
۲	۵	۹																				
۲	۹	۵																				
۵	۲	۹																				
۵	۹	۲																				
۹	۲	۵																				
۹	۵	۲																				

سیب زیرا تعداد بیشتری است.
۳ میوه از ۱۹ میوه ، گلابی است.

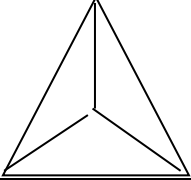
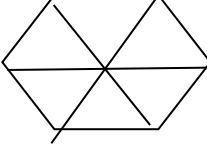
۷

- ۷۹۱
۲۴۲

۵۴۹

سارا ۵۴۹ ریال دارد.

۸

		شکل
۳	۶	تعداد ضلع
۳	۶	تعداد گوشه
این شکل را به ۳ قسمت مساوی تقسیم کنید.	این شکل را به ۶ قسمت مساوی تقسیم کنید.	
هر دو شکل هندسی هستند و ضلع و گوشه دارند.		شباهت دو شکل با هم
۶ ضلعی ، ۶ ضلع و ۶ گوشه دارد. مثلث ۳ ضلع و ۳ گوشه دارد.		تفاوت دو شکل با هم

۹

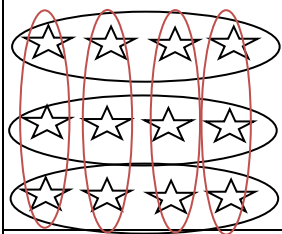
$$\square + 45 = 73$$

حدس اول : $30 + 45 = 75$

حدس دوم : $73 - 45 = 28$

قیمت مداد ۲۸ تومان است.

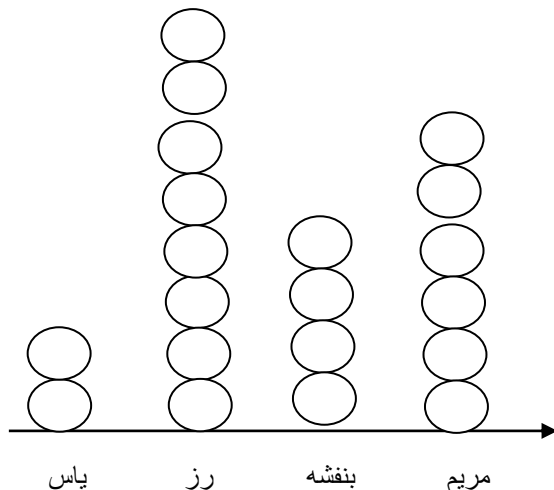
۱۰



۳-۴-۱۲

۴-۳-۱۲

۱۱



۱۲

امضاء:

نام و نام خانوادگی مصحح :

